

بروزترین و برترین  
سایت کنکوری کشور

[WWW.KONKUR.INFO](http://WWW.KONKUR.INFO)

**K**onkur  
**.info**

<https://konkur.info>

### « نقشه راه »

۱- بازیگران اصلی اقتصاد را نام ببرید.

خانوارها و بنگاهها

۲- بازیگران اصلی اقتصاد (خانوارها و بنگاهها) چگونه قیمت و مقدار کالا و خدمات را تعیین می کنند؟

بازیگران اصلی اقتصاد (خانوارها و بنگاهها) از طریق **بده - بستان های بین خود**، قیمت و مقدار کالا و خدمات را تعیین می کنند.

### « طرح مسئله »

۳- دو گروه از مهم ترین تصمیم گیرندگان و بازیگران در اقتصاد، ..... و ..... هستند.

خانوارها و بنگاهها

۴- خانوارها در چند حالت در اقتصاد مشارکت می کنند؟

۱- خانوارها کالاها و خدمات مورد نیاز را از کسب و کارها خریداری می کنند.

۲- خانوارها زمین، نیروی کار، سرمایه و کارآفرینی را برای تولید کالاها و خدمات ارائه می کنند.

۵- منظور از «بنگاه» در اقتصاد چیست؟

در اقتصاد، «بنگاه» همان چیزی است که مردم معمولاً آن را به عنوان یک کسب و کار می شناسند.

۶- چند مورد از مؤسسات کسب و کارها «بنگاهها» را نام ببرید.

مؤسسات کسب و کارها یا همان بنگاهها می توانند شامل مزارع کشاورزی، فروشگاهها، کسب و کارهای خویش فرمایی

مثل پیرایشگری، نقشه کشی و معماری ساختمان یا شرکتها و کارگاهها و کارخانههای تولیدی باشند.

۷- مؤسسات کسب و کارها «بنگاهها»، منابع برای تولید کالا و خدمات را چگونه تامین می کنند؟

برای تولید کالاها و خدمات، این بنگاهها باید از **خانوارها** منابع را خریداری یا اجاره کنند. مثلاً یک رستوران زنجیره ای، زمانی

که افرادی را استخدام می کند، نیروی کار از خانوارها اجاره می کند.

### « جریان چرخشی ساده »

۸- چگونه بین بازیگران اصلی اقتصاد «خانوار و بنگاه» رابطه داد و ستد شکل می گیرد؟

خانوارها کالاها و خدمات را از بنگاهها خریداری می کنند و بنگاهها، منابع را از خانوارها اجاره یا خریداری می کنند،

و این باعث شکل گیری رابطه داد و ستد بین این بازیگران می شود.

۹- نمودار جریان چرخشی، تعاملات بین بازیگران کلیدی (خانوارها و بنگاههای اقتصادی) را تحلیل کنید.

بازیگران اصلی عرصه اقتصاد بنگاههای اقتصادی و خانوارهایی باشند بنگاهها تولیدکننده کالا و خدمات و خانوارها مصرف

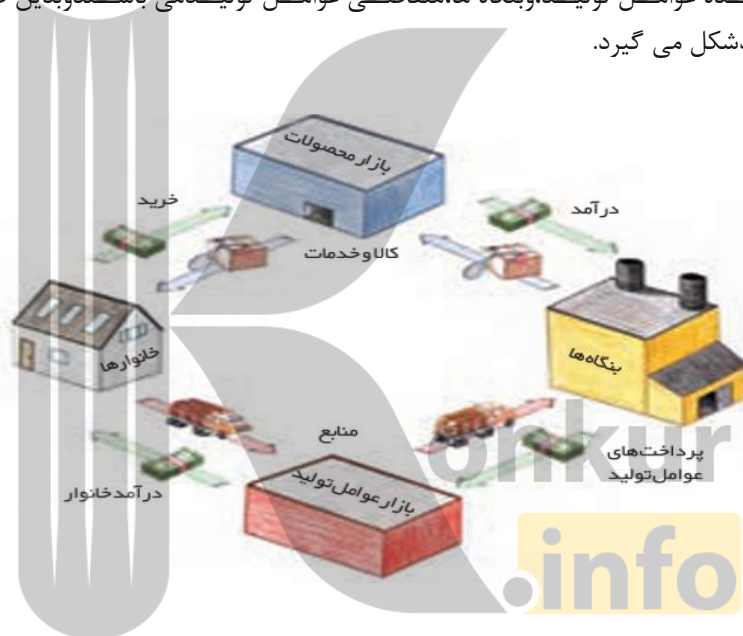
کننده کالا و خدمات محسوب می شوند در این چرخه اقتصادی بین خانوارها و بنگاهها، در یک طرف، بازار محصولات، و در طرف

دیگر بازار عوامل تولید قرار دارد.

**قسمت بالای نمودار:** بنگاه ها، تولیدکننده کالا و خدمات هستند و خانوارها متقاضی و خریداران کالا و خدمات می باشند. خانوارها این کالاها و خدمات را از بازار محصولات دریافت می کنند که عرضه کننده آن بنگاه های تولیدی می باشد. خانوارها بابت خرید این کالاها و خدمات وجوهی به بازار محصولات پرداخت می کنند که هزینه خانوار در آمد بنگاه را تشکیل می دهد.

**قسمت پایین نمودار:** خانوارها برای تامین مخارجشان نیاز به منبع مالی دارند و همچنین بنگاه ها برای تولید، نیاز به عوامل تولید دارند. خانوارها عوامل تولید (کار، سرمایه، زمین) را به بازار عوامل تولید ارائه می دهند و بنگاه های تولیدی که متقاضی عوامل تولید هستند آن را از بازار عوامل تولید دریافت می کنند و در مقابل این عوامل تولید، وجوهی تحت عنوان (مزد، سود، اجاره) به خانوارها پرداخت می کنند که درآمد خانوار و هزینه بنگاه را تشکیل می دهد.

**\*\*** در این چرخه در یک طرف بنگاه ها عرضه کننده کالا و خدمات، و خانوارها متقاضی کالا و خدمات هستند و در طرف دیگر خانوارها عرضه کننده عوامل تولید، و بنگاه ها، متقاضی عوامل تولید می باشند و بدین صورت بین بنگاه ها و خانوارها رابطه داد و ستد شکل می گیرد.



#### ۱۰- منظور از بازار در مباحث اقتصادی چیست؟

بازار معنای خاصی در اقتصاد دارد؛ بازار به مجموعه خریداران و فروشندگان چیزی در هر جای ممکن اطلاق می شود. مبادلات در بازار ممکن است حضوری و حقیقی نباشد و به صورت مجازی و در اینترنت صورت گیرد. شما ممکن است با تلفن و پشت میز سفارش دهید و یا با شبکه اینترنت، خرید اینترنتی کنید.

۱۱- در بازار کالاها و خدمات، ..... خریدار و ..... فروشنده اند.

خانوارها - بنگاه ها

#### «بررسی بازار»

۱۲- به مجموعه خریداران (تقاضاکنندگان یا همان خانوارها) و فروشندگان (عرضه کنندگان یا همان بنگاه ها) هر چیزی در هر جایی «.....» گفته می شود.

بازار

۱۳- بازار از چند بخش تشکیل شده است؟

بازار دو بخش دارد: تقاضاکنندگان و عرضه کنندگان

## «خریداران یا تقاضاکنندگان و فرایند تصمیم گیری آنها»

۱۴- خریداران در بازار چه کسانی هستند؟

خریداران، خانوارهایی هستند که تقاضاکننده کالاها و خدمات اند و نسبت به مشاهده تغییر شرایط بازار تصمیمات متفاوتی می گیرند.

۱۵- رابطه بین مقدار تقاضا با قیمت کالا چگونه است؟

مقدار تقاضا از یک کالا با قیمت آن رابطه ای عکس دارد. به طوری که با افزایش قیمت، مقدار تقاضا کاهش می یابد و بالعکس

۱۶- منظور از «قانون تقاضا» چیست؟

مقدار تقاضا از یک کالا با قیمت آن رابطه ای عکس دارد. به طوری که با افزایش قیمت، مقدار تقاضا کاهش می یابد و بالعکس! به این رابطه، «**قانون تقاضا**» می گویند.

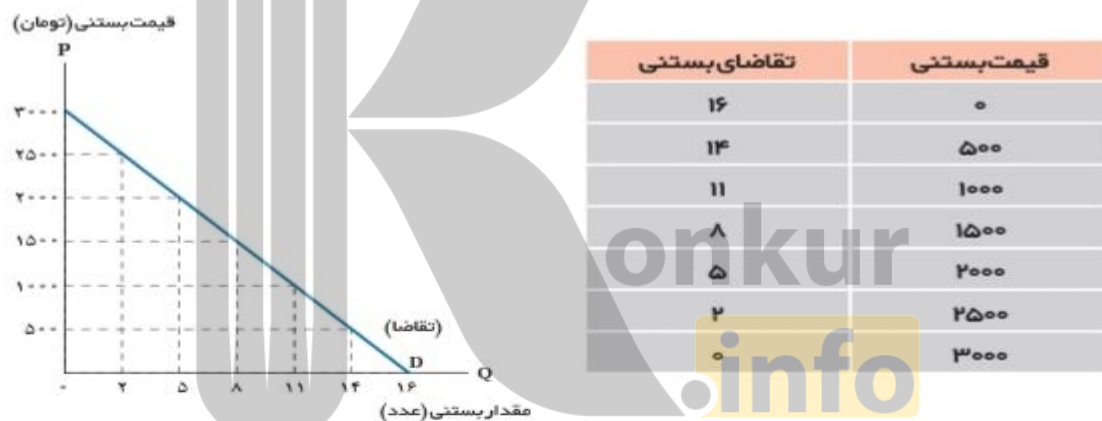
۱۷- منحنی تقاضا را تحلیل کنید:

**الف)** منحنی تقاضا رفتار اقتصادی کدام گروه را نشان می دهد؟

**ب)** حالت منحنی تقاضا چگونه است؟

**ج)** رابطه تقاضا با قیمت چگونه است؟

**د)** منحنی تقاضا با چه حرفی نمایش داده می شود؟



منحنی تقاضا رفتار اقتصادی **خریداران (تقاضاکنندگان)** را نشان می دهد و حالت آن **از چپ به راست نزولی** است یعنی با افزایش قیمت کالا مقدار خرید یا تقاضا کاهش، و با کاهش قیمت کالا مقدار خرید یا تقاضا افزایش می یابد پس رابطه تقاضا و قیمت یک **رابطه معکوس** می باشد و این منحنی با حرف اختصاری **D** نمایش داده می شود. (این توضیحات را می توان بر روی نمودار بالا که رابطه بین قیمت با خرید بستنی را نشان می دهد بررسی کرد).

۱۸- افزایش درآمد چه رابطه ای با تقاضای یک کالا دارد؟

تقاضا برای یک کالا به صورت مثبت با **درآمد** ارتباط دارد. افزایش در درآمد سبب افزایش در مقدار تقاضا در هر قیمت می شود.

۱۹- چه عواملی بر مقدار تقاضا و خرید، توسط خریدار (مصرف کننده) تاثیر گذار است؟

غیر از **درآمد** و **قیمت** که بر مقدار تقاضا اثر گذار است، **سلیقه، انتظارات و قیمت دیگر کالاها** هم می تواند بر مقدار تقاضا و خرید اثر بگذارد.

## «سایر عوامل»

۲۰- عواملی که بر مقدار تقاضا و خرید توسط خریدار (مصرف کننده) تاثیر گذار است را توضیح دهید.

**الف) قیمت:** مقدار تقاضا از یک کالا با قیمت آن رابطه ای عکس دارد. به طوری که با افزایش قیمت، مقدار تقاضا کاهش می یابد و بالعکس، با کاهش قیمت، مقدار تقاضا افزایش می یابد.

**ب) درآمد:** تقاضا برای یک کالا به صورت مثبت با درآمد ارتباط دارد. افزایش در درآمد سبب افزایش در مقدار تقاضا در هر قیمت می شود و باعث جابه جایی منحنی تقاضا به سمت بالایی گردد و اگر درآمد کاهش پیدا کند تقاضا کاهش پیدا خواهد کرد و منحنی به سمت پایین جابه جایی منحنی تقاضا به سمت بالایی خواهد بود البته این قانون برای کالای معمولی کاربرد دارد ولی برای کالاهای پست این اتفاق می تواند متفاوت و برعکس رقم خورد و وقتی که درآمد افزایش پیدا می کند تقاضای مناسب به کالای پست کمتر خواهد شد مثلاً با افزایش درآمد به جای خرید سویا، گوشت بیشتری خریداری می شود.

**ج) سلیقه:** سلیقه افرادی تواند در خرید و تقاضا نسبت به یک کالا نقش داشته باشد مثلاً چیزهایی که مد می شوند، حتی بدون تغییر قیمت، مقدار تقاضای آنها زیاده تر می شود و در این حالت منحنی تقاضا به سمت بالا جابه جایی می شود.

**د) انتظارات:** هنگامی که پی ببرید قیمت کالایی در آینده بیشتر می شود، امروز ممکن است درباره خرید آن تصمیم دیگری بگیرید و خرید و تقاضای بیشتری داشته باشید که این حالت باعث جابه جایی منحنی تقاضا به سمت بالایی گردد.

**و) قیمت دیگر کالاها:** اگر کالاهایی که **مکمل** یکدیگرند در چار تغییر قیمت شوند تغییر در قیمت یک کالا در تقاضا و خرید کالای مکمل تاثیر گذار است. بدین صورت که افزایش قیمت یک کالا باعث کاهش تقاضا و خرید برای کالای مکمل می گردد مثلاً اگر قیمت چای افزایش پیدا کند تقاضا و خرید برای خرید قند کاهش پیدا خواهد کرد و منحنی تقاضا برای خرید قند به سمت پایین جابه جایی می شود. اگر کالاهایی که **جانشین** یکدیگرند در چار تغییر قیمت شوند تغییر در قیمت یک کالا در خرید و تقاضای کالای جانشین موثر است بدین صورت که افزایش قیمت یک کالا باعث افزایش تقاضا و خرید برای کالای جانشین می گردد مثلاً افزایش قیمت گوشت قرمز باعث افزایش تقاضای گوشت سفید می شود و منحنی تقاضای گوشت سفید به سمت بالا جابه جایی می شود.

### «قیمت به عنوان ابزاری برای مدیریت مصرف»

۲۱- سیاست گذاران از چه راه هایی تلاش می کنند از مقدار تقاضا و مصرف سیگار کم کنند؟  
یکی از راه آگاه سازی مردم به زبان های کشیدن سیگار و دیگری با بالا بردن قیمت آن از طریق وضع مالیات بر سیگار.

### «فروشنندگان یا عرضه کنندگان و فرایند تصمیم گیری آنها»

۲۲- فروشنندگان در بازار چه کسانی هستند؟  
فروشنندگان همان بنگاه های ارائه کننده کالا یا خدمات و نیز عوامل فروش آنها هستند.  
۲۳- چه عواملی بر مقدار تولید و عرضه یک کالا، توسط تولیدکننده تاثیر گذار است؟  
الف) قیمت کالا ب) تغییر در قیمت مواد اولیه (هزینه های تولید) ج) ابداعات و اختراعات د) شرایط بازار (رونق یا رکود بازار)  
۲۴- رابطه بین مقدار عرضه با قیمت کالا چگونه است؟

طبق قانون عرضه، با افزایش قیمت، مقدار عرضه از هر کالا افزایش می یابد و بالعکس!

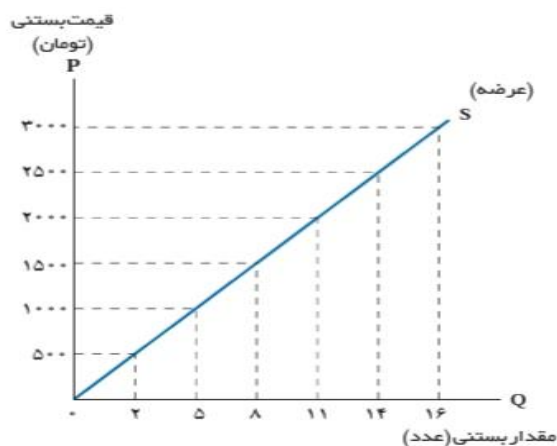
۲۵- منحنی عرضه را تحلیل کنید:

**الف) منحنی عرضه رفتار اقتصادی کدام گروه را نشان می دهد؟**

**ب) حالت منحنی عرضه چگونه است؟**

**ج) رابطه عرضه با قیمت چگونه است؟**

**د) منحنی عرضه با چه حرفی نمایش داده می شود؟**



عرضه بستنی	قیمت بستنی
0	0
2	500
5	1000
8	1500
11	2000
14	2500
16	3000

منحنی عرضه رفتار اقتصادی تولیدکنندگان (عرضه کنندگان) را نشان می دهد و حالت آن از چپ به راست صعودی است یعنی با افزایش قیمت کالا مقدار عرضه، افزایش می یابد، و با کاهش قیمت کالا مقدار عرضه کاهش می یابد پس رابطه عرضه و قیمت یک رابطه مستقیم می باشد و این منحنی با حرف اختصاری S نمایش داده می شود. (این توضیحات را می توان بر روی نمودار بالا که رابطه بین قیمت با خرید بستنی را نشان می دهد بررسی کرد).

### «سایر عوامل»

۲۶- با ذکر مثال توضیح دهید که غیر از قیمت مستقیم کالا عوامل دیگر «قیمت مواد اولیه- ابداعات و اختراعات» چگونه می توانند در تولید و عرضه کالا توسط تولیدکننده نقش داشته باشند؟

**مثال: «مواد اولیه»** تصور کنید قیمت بستنی زیاد نشده اما قیمت شیر که ماده اولیه و مهم تولید بستنی است گران تر شده است. شرایط به وجود آمده باعث می شود تولید بستنی نسبت به قبل کمتر صورت گیرد چون منفعت تولیدکننده نسبت به قبل کمتر خواهد بود بنابراین منحنی عرضه به سمت چپ متمایل خواهد شد و اگر برعکس شیر ارزان تر شود تولید بستنی بیشتر و منحنی عرضه به سمت راست متمایل می گردد.

**مثال: «ابداعات و اختراعات»** اگر دستگاهی اختراع شود که بتواند با تعداد کارگر کمتری، بستنی تولید کند و از این جهت هزینه های تولید را کمتر کند تولید بستنی بیشتر خواهد شد و منحنی عرضه به سمت راست متمایل می شود چون ابداعات و اختراعات معمولاً با کاهش هزینه ها اثر مثبتی بر مقدار تولید و عرضه دارند.

### «تعادل در بازار»

۲۷- عاملی که باعث هماهنگی رفتار عرضه کنندگان و تقاضا کنندگان در بازار می شود چیست؟

**قیمت** و ارزش کالا

۲۸- اگر مقدار تقاضای کالایی از مقدار عرضه آن بیشتر باشد، چه اتفاقی در بازار می افتد؟

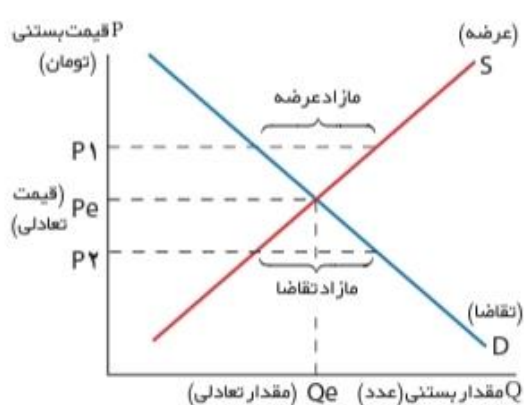
اگر مقدار تقاضای کالایی از مقدار عرضه آن بیشتر باشد، در بازار **کمبود** رخ می دهد و باعث بالا رفتن قیمت می شود؛ چرا که عده ای که به آن کالا مشتاق ترند تلاش می کنند با پیشنهاد قیمت بالاتر آن را به دست آورند.

۲۹- اگر مقدار عرضه کالایی بیشتر از مقدار تقاضا آن باشد، چه اتفاقی در بازار می افتد؟

اگر مقدار عرضه کالایی بیشتر از مقدار تقاضا آن باشد، **مازاد** رخ می دهد و همین سبب می شود برخی از تولیدکنندگان از قیمت خود کم کنند تا بتوانند با پیدا کردن مشتری کالای بیشتری را بفروشند.

۳۰- جدول زیر را تحلیل کنید:





عرضه بستنی	تقاضای بستنی	قیمت بستنی
۰	۱۶	۰
۲	۱۴	۵۰۰
۵	۱۱	۱۰۰۰
۸	۸	۱۵۰۰
۱۱	۵	۲۰۰۰
۱۴	۲	۲۵۰۰
۱۶	۰	۳۰۰۰

**تعال در بازار:** رفتار عرضه کنندگان و تقاضا کنندگان در بازار در مقابل هم صورت می گیرد و باید با هم هماهنگ باشد به عبارت دیگر عرضه و تقاضا باید با یکدیگر در تعادل باشند و عاملی که این هماهنگی و تعادل را ایجاد می کند **قیمت کالا است**. به قیمتی که مقدار عرضه و تقاضا با هم برابر است **قیمت تعادلی** می گویند «یعنی نقطه **Pe** و قیمت **۱۵۰۰** در جدول» و به مقداری که میزان عرضه و تقاضا با هم برابر است مقدار تعادلی می گویند «یعنی نقطه **Qe** و مقدار عرضه و تقاضای **۸** در جدول»

**مازاد عرضه:** بازار بالاتر از قیمت تعادلی با مازاد عرضه و کمبود تقاضا مواجه خواهد شد «یعنی نقطه **P1** و قیمت های **۲۰۰۰-۲۵۰۰-۳۰۰۰**» در این وضعیت چون قیمت ها زیاد است عرضه بیشتری صورت گرفته و در مقابل به خاطر قیمت زیاد تقاضا کمتر است و این وضعیت مازاد عرضه را ایجاد کرده است برای اینکه این مازاد عرضه از بین برود و تولید کننده بتواند کالای خود را به فروش برساند مجبور است قیمت کالاها را پایین بیاورد تا کم شدن قیمت، تقاضا افزایش پیدا می کند و انگیزه تولید کننده برای تولید کمتری شود این روند تا جایی ادامه پیدا می کند که بازار به تعادل برسد.

**مازاد تقاضا:** بازار پایین تر از قیمت تعادلی با مازاد تقاضا و کمبود عرضه مواجه خواهد شد «یعنی نقطه **P2** و قیمت های **۵۰۰-۱۰۰۰**» در این وضعیت چون قیمت ها کم است تقاضای بیشتری صورت گرفته و در مقابل به خاطر قیمت کم عرضه کمتر است و این وضعیت مازاد تقاضا را ایجاد کرده است در این حالت عده ای از تقاضا کنندگان حاضرند برای دریافت کالای مدنظر مبلغ بیشتری پرداخت کنند و این روند باعث افزایش قیمت کالاها در بازار می شود با افزایش قیمت، تولید کنندگان شروع به تولید می کنند و مصرف کنندگان از مصرف و تقاضای خود کم می کنند این روند تا جایی ادامه پیدا می کند که فاصله عرضه و تقاضا کاهش می یابد و تعادل در بازار برقرار می شود.

## «بیشتر بدانیم، انواع بازار»

۳۱- انواع بازار را نام ببرید.

الف) رقابتی ب) انحصاری ج) حراجی (مزایده- مناقصه)

۳۲- منظور از «بازار رقابتی» چیست؟

در بازار هر محصول، گاه تعداد فروشندگان و خریداران به قدری زیاد است که حضور و رفتار هر یک از عرضه کنندگان و تقاضا کنندگان به نسبت کل بازار بسیار کوچک خواهد بود و در عمل، هیچ یک از طرفین به تنهایی در شکل گیری قیمت تأثیر گذار و به عبارت دیگر «قیمت گذار» نیستند. در این صورت بازار را به اصطلاح «**بازار رقابتی**» می نامند. بازار محصولاتی چون ماکارونی معمولاً رقابتی است.

## ۳۳- چه وضعیتی را «انحصار» می گوئیم؟ مثال بزنید

گاه به دلایل **طبیعی**، **اقتصادی**، **قانونی** یا حتی **غیرقانونی**، تعداد فروشنده یا خریدار به یک یا چند نفر محدود می شود. این وضعیت را «**انحصار**» می گوئیم.

**\*\*مثلاً شرکت توانیر در کشور ما، به دلیل طبیعی و شرکت های خودرویی به دلایل قانونی، انحصارگر در فروش کالای خود به شمار می روند. شرکت پخش و پالایش فراورده های نفتی از یک سو تنها خریدار و از سوی دیگر تنها فروشنده محصولات نفتی است و خرید و فروش این کالا را در انحصار خود دارد.**

## ۳۴- ویژگی های بازار انحصاری چیست؟

- (الف) تعداد فروشنده یا خریدار به یک یا چند نفر محدود می شود.
- (ب) انحصارگر، قیمت گذار است و خریداران در بازار انحصاری قیمت پذیرند.
- (ج) کیفیت کالا در این بازار زیاد مورد توجه نیست.
- (د) در این بازار تنوع کالا کمتر و قیمت کالاها نسبت به بازار رقابتی بیشتری باشد.
- (و) خریداران قدرت انتخاب ندارند.

## ۳۵- انحصارگر غیرقانونی چگونه می تواند به جامعه ضرر بزند؟

انحصارگر غیرقانونی معمولاً با **افزایش قیمت خود** به مشتریان و رفاه جامعه ضرر می زند؛ بنابراین دولت باید مانع شکل گیری آن و تبانی برخی از تولیدکنندگان شود.

## ۳۶- انحصار طبیعی و قانونی در چه صورت می تواند سودمند باشد؟

انحصار طبیعی و قانونی **مشروط به مواظبت و مقررات گذاری صحیح** می تواند برای مصرف کننده سودمند باشد.

## ۳۷- بازارهایی که در قالب حراجی وجود دارد چند صورت است؟

- (الف) **مزایده** (فروشنندگان آثار هنری در نمایشگاه ها و حراجی ها)
- (ب) **مناقصه** (خریداران عمده کالا و خدمات)

**فعالیت گروهی در کلاس..... صفحه ۴۹.....**

درباره بازار منابع تولید (جریانات نیمه پایینی نمودار) در گروه خود بررسی کنید. چه چیزهایی مورد نیاز هر کدام از طرفین است و در کدام بخش بازار در حال مبادله است؟ سپس نتایج خود را در کنار پیکان ها یادداشت کنید و جدول زیر را کامل کنید.



پرداخت هایی که بابت خرید منابع تولید به خانوارها پرداخت می شود.



ردیف	عنوان	علت
۱	دستمزد	دریافتی خانوارهابابت فروش نیروی کار
۲	اجاره	دریافتی خانوارهابابت واگذاری زمین، املاک به بنگاه ها
۳	سود	دریافتی خانوارهابابت سرمایه گذاری در بنگاه ها

### کالای معمولی و پست را بشناسید! ..... صفحه ۵۱.....

آیا با افزایش درآمد مقدار خرید ما از همهٔ انواع کالاها می تواند بیشتر شود یا در مورد برخی کالاها ممکن است حتی کمتر شود؟ مثلاً دربارهٔ خرید نوع مرغوب و پست برنج فکر کنید.

معمولاً با افزایش درآمد میزان تقاضا و خریدمانسبت به همه کالاها یکسان نیست تقاضا و خریدمانسبت به کالاهای باکیفیت بیشتری شود و نسبت به کالاهای بی کیفیت کمتر، مثلاً با افزایش درآمد خریدمانسبت به برنج مرغوب بیشتر و نسبت به برنج بی کیفیت و پست کمتر خواهد شد.



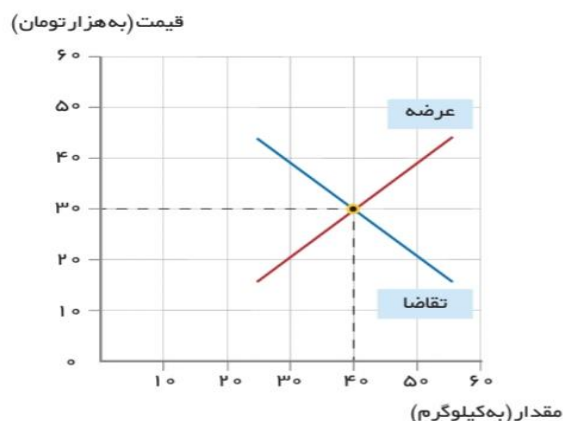
### کالاهای مکمل را بشناسید! ..... صفحه ۵۱.....

دربارهٔ کالاهایی که با هم مصرف می شوند، فکر کنید و دربارهٔ اثر تغییر قیمت یکی بر میزان خرید دیگری بحث کنید. مثلاً وقتی می خواهید چای بخرید، به بازار قند و شکر هم نیم نگاهی دارید یا وقتی خودرو می خرید حواستان به قیمت بنزین هم هست؛ اما چگونه؟ زمانی که دو کالا مکمل یکدیگرند افزایش قیمت یکی از آنها باعث کاهش تقاضای کالای مکمل خواهد شد مثلاً افزایش قیمت بنزین باعث کاهش تقاضای خرید ماشین می شود یا افزایش قیمت چای باعث کاهش تقاضای قند خواهد شد.



### برای تفکر و تمرین ..... صفحه ۵۵.....

یکی از محصولات آنی که در کارگاه آقای محمدی (شرکت ایران سبزی) تولید می شود، کودهای زیستی برای گیاهان آپارتمانی است. قیمت و مقدار تعادلی این محصول در نمودار زیر نشان داده شده است.



اخیراً هزینه های تولید افزایش یافته و مسئولان کارگاه مجبور شده اند، قیمت محصول را ۴۰۰۰۰ تومان تعیین کنند. در قیمت ۴۰۰۰۰ تومان تحلیل کنید که چه شرایطی پیش می آید و کارخانه ممکن است با چه مشکلاتی مواجه شود؟ همچنین بیان کنید که چه اتفاقی باید برای بازار بیفتد تا قیمت و مقدار مجدداً به وضعیت تعادلی بازگردد؟

در قیمت ۴۰۰۰۰ تومان بازار بالاتر از قیمت تعادلی قرار خواهد گرفت و چون قیمت نسبت به قیمت تعادلی بیشتر شده است انگیزه تولیدکننده برای تولید بیشتر به جهت کسب سود بیشتر، افزایش پیدامی کند و از طرف دیگر به دلیل قیمت زیاد انگیزه مصرف کننده از خرید کاهش پیدا خواهد کرد و این وضعیت می تواند منجر به **مازاد عرضه** و **کمبود تقاضا** گردد چون در قیمت ۴۰۰۰۰ تومان، عرضه کننده مایل است ۵۰ کیلو تولید کند در حالی که میزان تقاضای تعادلی ۴۰ کیلومی باشد. این حالت می تواند مازاد کالا را به همراه داشته باشد و انبار کارگاه آقای محمدی پر از کالاهایی خواهد شد که خریدار ندارد. آقای محمدی برای اینکه بتواند محصول تولیدی خود را به فروش برساند مجبور است **قیمت را کاهش** دهد تا با کاهش قیمت، مقدار تقاضا برای کالای تولیدی افزایش پیدا کند و محصول به فروش برسد.

بروزترین و برترین  
سایت کنکوری کشور

[WWW.KONKUR.INFO](http://WWW.KONKUR.INFO)

**K**onkur  
**.info**

<https://konkur.info>