

بروزترین و برترین
سایت کنکوری کشور

WWW.KONKUR.INFO

Konkur
.info

<https://konkur.info>

درس ۹

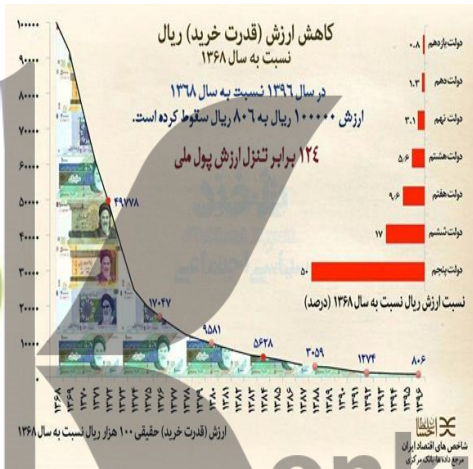

تعمیر



konkur
info

قدرت خرید پول

پول با ثروت فرق دارد، برای فهم این جمله به پول توی جیبان نگاه کنید. (بینیم با ۵۰۰۰ تومان در دوده گذشته چی میتونستیم بخریم؟)



دو بسته بیسکویت

یک پیراهن

یک کیف

سال ۹۹

سال ۸۸

سال ۷۷

۵۰۰۰ تومان

پس ارزش پول یعنی قدرت خرید پول در دوده گذشته کاهش پیدا کرده است. (قدرت خرید پول یعنی قدرتی که یک واحد اسکناس برای خرید کالا و خدمات داره).

هر ساله میزان پول در دست مردم افزایش می یابد مثلاً حقوق کارمندان یا درآمد مشاغل بیشتر می شود. اما این افزایش پول به معنی ثروتمند شدن مردم نیست زیرا قدرت خرید پول تغییر کرده است.

نکته:

وقتی یک واحد پول، نتواند در طول زمان ارزش خود را حفظ کند می گوئیم، قدرت خرید پول دستخوش تغییر شده است. برای اینکه بدانیم

قدرت پول زیاد یا کم شده است باید دو مفهوم آشنا شویم <https://konkur.info> **پول** **تورم**

پول چیست؟

۱. دوره مبادله کالا به کالا (پایا پای)



۲. استفاده از کالا به عنوان اولین پول



۳. پول فلزی



۴. پول کاغذی

۵. پول ثبتی (تحریری)



۶. پول الکترونیکی (مجازی)



<https://konkur.info>

در یک اقتصاد پویا روزانه میلیون ها مبادله انجام می شود افراد برای مبادله نیاز به پول دارند با هم تاریخچه پول را بررسی می کنیم:



۱. دوره مبادله کالا به کالا (پایپای)

اولین نوع مبادلات به صورت کالا به کالا (تهاتر) انجام می‌شود یعنی:

هر کس کالای اضافه خود را با کالای مورد نیازش مبادله می‌کند.

مثال: **فرد الف** مزرعه گندم داشت و گندمی که تولید می‌کرد بیشتر از نیازش خودش و خانوادش بود اما لبنیات نداشت، در مقابل **فرد ب** چند راس گاو و گوسفند داشت و لبنیاتی که تولید می‌کرد بیشتر از نیاز خودش و خانوادش بود اما گندم نداشت. برای این که فرد الف نیاز خانوادش به لبنیات و فرد ب نیاز خانوادش به گندم رو تامین کنه، **فرد الف** مازاد گندم خودش رو به **فرد ب** می‌داد و در ازایش لبنیات می‌گرفت، این جوری نیاز هر دو خانواده به کالایی که خودشون نداشتن برطرف می‌شده این میگن تهاتر.

البته مبادله کالا به کالا (تهاتر پایپای) با مشکلاتی نیز همراه بود از جمله:

توضیحات

کسی که گندم اضافی داشت و به برنج نیازمند بود باید کسی را پیدا می‌کرد که اولاً برنج اضافی داشت و ثانیاً میل بود برنج خود را با گندم معاوضه کند در این صورت:

۱. پیدا کردن فرد مورد نظر دشوار بود.
۲. چه بسا فرد مجبور می‌شد برای تهیه کالای مورد نیاز خود ده‌ها معامله انجام دهد.

* اگر چنین کسی پیدا نمی‌شد مبادله‌ای هم صورت نمی‌گرفت و نیاز افراد برطرف نمی‌شد.

نوع مشکل

عدم تمایل همزمان دو طرف به مبادله

onkur
info

دشواری محاسبه قیمت‌ها و تبدیل آن‌ها به یکدیگر یا نبودن وسیله‌ای برای سنجش ارزش

فقدان امکان پس‌انداز و حفظ ارزش و انتقال آن به آینده و فاسد شدنی بودن کالاها

از آن‌جا که کالاهای مورد مبادله هم جنس نبودند مردم نمی‌دانستند که مثلاً چه میزان از گوشت را باید با چه میزان از گندم مبادله کنند که منصفانه باشد و هیچ‌یک از طرفین متضرر نشود.

بسیاری از کالاها قابلیت نگه‌داری طولانی مدت ندارند و با گذشت زمان فاسد می‌شوند (مانند گوشت) و یا کیفیت اولیه خود را از دست می‌دهند (پوست حیوانات) بنابراین اگر افراد موفق نمی‌شدند کالای خود را در زمان مناسب مبادله کنند متحمل ضرر و زیان می‌شدند و امکان پس‌انداز برای آن‌ها وجود نداشت.

۲. استفاده از کالا به عنوان اولین پول

به تدریج انسان ها دریافتند که مشکلات مبادله تهاتری را می توانند با کالای هایی حل کنند که ویژگی های زیر را داشته باشند:

۱. بادوام و فاسد نشدنی (که بتوان آن ها را برای مدت طولانی نگه داری کرد).

۲. قابل تقسیم به تکه های کوچک (که حمل و نقل آن ها آسان باشد).

۳. پرترفدار (که همه مایل باشند کالاهای اضافی خود را با آن ها مبادله کنند).

البته در هر نقطه جهان کالاهای خاصی پرترفدار بود مثلاً"

ایران	هندوستان	تبت	روسیه
غلات	صدف	چای	پوست سمور

ساکنان این مناطق حاضر بودند هرگونه کالاهای اضافی خود را با این کالاها مبادله کنند زیرا مطمئن بودند که با دادن آن در هر زمان و به هر فردی می توانند کالاهای مورد نیاز خود را تهیه کنند

نکته:
به این ترتیب کالاهای پرترفدار به عنوان اولین پول مورد استفاده قرار گرفتند.

استفاده از کالاهای پرترفدار به عنوان وسیله مبادله:

مزایا

۱. افزایش سرعت و سهولت در انجام مبادلات

معایب

۱. فاسد و غیرقابل استفاده شدن کالاها در صورت بدون مصرف ماندن برای مدت طولانی

۲. اشغال فضای زیاد برای نگه داری از کالاهای با حجم بالا

۳. تامین جا برای محافظت از کالاها موجب افزایش هزینه نگهداری آن ها و در نتیجه

۳. پول فلزی

برای حل مشکلات استفاده از کالا به عنوان وسیله مبادله، انسان ها دریافتند که می توان از برخی فلزات (مانند طلا و نقره) برای انجام مبادلات استفاده کرد. این انتخاب مزایا و معایبی داشت:

انتخاب فلزات به عنوان پول و دارایی نقد

معایب

محدود بودن میزان طلا و نقره در دسترس بشر زیرا با افزایش تجارت و مبادله به پول بیشتری نیاز بود.
دشواری حمل مسکوکات در معاملات با حجم زیاد

مزایا

۱. گسترش تجارت داخل کشورها و بین ملت ها
۲. رونق فعالیت هایی از قبیل (دریانوردی و حمل و نقل)

این جور مبادله انسان ها وارد مرحله جدیدی شد یعنی همان اختراع پول کاغذی.



۴. پول کاغذی

انسان هابرای درامان ماندن پولشان از خطرهای احتمالی ورهایی یافتن از حمل مسکوکات درمعاملات چاره ای اندیشیدند. بدین شرح که :
عده ای از بازرگانان درمعاملات خود به جای پرداخت سکه های فلزی رسیدی صادرمی کردند که بیانگر بدهی آنان بود. طرف مقابل نیزبراساس اعتمادی که داشت این رسید رامی پذیرفت.
به تدریج :

الف) بازرگانانی که به یکدیگر اعتماد داشتند این رسید ها را بین خود رد و بدل می کردند
ب) مردم نیز برای :

۱- مصون ماندن از خطرهای احتمالی

۲- رهایی یافتن از حمل مسکوکات در معامله ها

پول خود رابه تجار یا صرافان معتبرمی سپردند و در مقابل رسید معتبر دریافت می کردند و درمعاملات خود این رسیدها رابه کار می گرفتند.
مثال: در دوران تمدن اسلامی ، کارگری در بلخ رسید صرافی استانبول رامیگرفت و این امر عادی بود.

نکته:

۱. این رسیدهادر واقع نخستین اسکناس ها بودند و پشتوانه آن ها طلا و نقره ای بود که نزد صرافان و بازرگانان نگه داری می شد.
۲. رونق روز افزون کار صرافی ها آن ها رابه نهادی مهم در اقتصاد مردم تبدیل کرد نام این نهاد در اقتصاد بانک بود

پیدایش بانک

۱. بی مبالاتی یا سوء استفاده برخی از صرافان از اعتماد مردم

دولت ها برای جلوگیری از بروز این گونه مشکلات به ناچار چاپ وانتشار اسکناس را برعهده گیرند.

۲. تعداد زیاد انواع رسیدها و صرافی ها که آشنایی و اعتبارسنجی آن ها رابرای مردم سخت کرده بود.

فکر و ایده سپردن نشر پول به یک بانک تجاری از این جا شکل گرفت.

<https://konkur.info>


۵. پول ثبتي (تحريري)

باگسترش ارتباطات بانک ها فعاليت خود را گسترش دادند و نقل و انتقال اسکناس کم کم دشوار شد. در اين ميان يکي از خدماتي که بانک ها ارائه مي دادند چک بود:

* درمعاملاتي که با چک انجام مي شود درواقع پول نقد بين افراد رد و بدل نمي شود، بلکه بانک، موجودي يک حساب را کاهش و موجودي حساب ديگر را افزايش مي دهد.

نکته:

چون افراد خودشان مبلغ چک را روی آن می نویسند، به چک پول تحريري يابثتي می گویند.
تحرير يعني همان نوشتن و ثبت کردن



۶. پول الکترونیکی (مجازی)

افزایش حجم و سرعت مبادلات

موجب شد

بشر به دنبال روش های سریع تر و راحت تری برای مبادله باشد.

همراه شدن آن با انقلاب دیجیتال و الکترونیک

نتیجه:

امروزه پول الکترونیکی قابل ثبت و ضبط در کارت های بانکی و قابل انتقال در شبکه های ارتباطی (تلفنی، تلفن همراه و فضای مجازی)، خرید و فروش و انتقال دارایی را بسیار آسان و سریع کرده است. در آینده پول های دیجیتالی گوناگونی را خواهیم دید که فرصت ها و تهدیدهای جدیدی را برای زندگی بشر ایجاد خواهد کرد. یکی از این پول های نوظهور بیت کوین نام دارد.



بیت کوین چیست؟!



<https://konkur.info>

پشتوانه پول

پول های کاغذی تحریری یا الکترونیکی خصوصیتی اعتباری دارند یعنی پولی که در دست دارید و روی آن نوشته شده ۱۰ هزار تومان به این معنی نیست که این ورقه کاغذ به خودی خود ۱۰ هزار تومان می ارزد، بلکه به معنی سند یا وسیله ای است که به شما امکان می دهد با آن معادل ۱۰ هزار تومان کالا یا خدمات دریافت کنید. پشتوانه پول اطمینانی است که مردم به ارزش پول در مبادلات دارند.

پشتوانه	نوع پول	
همان طلا و نقره موجود در خود پول	پول فلزی (طلا و نقره)	گذشته
پول های فلزی و شمش های طلا و جواهرات نزد صرافان یا بانک ها	پول کاغذی	
قدرت اقتصادی کشور	پول های فلزی، کاغذی، تحریری و الکترونیکی	امروزه



وظایف پول

توضیحات	وظیفه
افراد در مبادلات خود، پول را می پذیرند زیرا می دانند که دیگران هم هنگام فروش کالاها یا خدمات خود، آن را خواهند پذیرفت. نکته: نقش اصلی پول در مبادلات آسان سازی مبادله است.	۱. وسیله پرداخت در مبادلات
با پول می توان ارزش کالاها را مشخص کرد و سپس ارزش نسبی آن ها را باهم سنجید. عملا پول، کار خرید و فروش کالاهای مختلف و تبدیل قیمت ها را به یکدیگر آسان می کند. * هر کشور دارای واحد ارزش خاص خود است مثلا ارزش در اتحادیه اروپا یورو، در انگلیس پوند و در ایران ریال (تومان) است.	۲. وسیله سنجش ارزش
افراد نیازهای گوناگونی دارند که با پرداخت پول، آن ها را برطرف می کنند بعضی نیازهای هر روزه هستند (مانند خوراک) برخی در طول زمان پیش می آیند (مانند هزینه درمان بیماری) پس فرد همواره باید مقداری پول را برای رفع نیازهای آینده نزد خود نگه داری کند.	۳. وسیله پس انداز و حفظ ارزش
اگر پول بتواند حفظ ارزش کند می تواند وسیله مناسبی برای پرداخت های آینده نیز باشد * این وظیفه پول در روزگار ما کاملا محسوس است. زیرا بیشتر معاملات تجاری در مقابل پرداخت های آینده صورت می گیرد. مثال: خرید اقساطی ویار و بدل کردن حواله های بانکی	۴. وسیله پرداخت های آینده (آتی)



نقدینگی

نقدینگی ← عبارت است از کل حجم پول موجود در کشور.

حجم کل پول را می توان به حجم آب
استخر تشبیه کرد همان طور که آب
استخر قابل کم شدن یا زیاد شدن است
حجم نقدینگی نیز کم یا زیاد می شود.

حجم کل پول موجود در کشور

سپرده در حساب بانکی

اسکناس در دست مردم

نکته:

۱. در بیشتر موارد حجم نقدینگی در کشورها با افزایش روبه روست.
۲. سازوکار ایجاد نقدینگی یا در واقع چگونگی افزایش نقدینگی در کشور، سازوکار نسبتاً پیچیده ای است.
۳. افزایش نقدینگی معمولاً ناشی از عملکرد بانک هاست.
۴. میزان نقدینگی ثابت نیست و کم یا زیاد می شود.

تورم

معمولا وقتی باتورم روبه رو می شویم و آن را احساس می کنیم که موقع خرید کالاهای مورد نظرمان باید پول بیشتری پرداخت کنیم. توجه: البته هر افزایش قیمتی، تورم نیست مثلا ممکن است فروشنده گران فروشی کرده باشد.

*** تورم ← از نظر اقتصاد، افزایش سطح عمومی قیمت هاست.**

تورم

نرخ تورم

نرخ تورم یعنی درصد افزایش سالانه سطح عمومی قیمت ها (یعنی بایه مقدار مشخص پول امسال n درصد کم تر از پار سال میشه کالا و خدمات خرید.

*** رابطه تورم و قدرت خرید پول**

گفتیم که نرخ تورم یعنی درصد افزایش سالانه سطح عمومی قیمت ها پس اگر قیمت کالاها در امسال به سال قبل ۲۰ درصد افزایش یافته باشد یعنی مانسبت به سال قبل تورم ۲۰ درصدی داریم و این به نفعی این است که قدرت خرید پول ۲۰ درصد کاهش یافته است یعنی بایک مقدار مشخص پول (مثلا ۵ هزار تومان) امسال ۲۰٪ کم تر از سال قبل می توان کالا خرید.

نکته:

بین تورم و قدرت خرید رابطه معکوس وجود دارد ← هر چه نرخ تورم بالاتر باشد قدرت خرید پول کاهش می یابد و بالعکس.

<https://konkur.info>

نحوه محاسبه نرخ تورم

معمولا برای اندازه گیری تورم از شاخصی به نام قیمت مصرف کننده Cpi استفاده می کنند.

چگونگی تشکیل شاخص قیمت مصرف کننده

دولت معمولاً یک سبد بازار را در نظر می گیرد و در نتیجه سبد بازار بسته ای از کالاهای گوناگون است که عموم مصرف کنندگان خریداری می کنند. سبد بازار طیف وسیعی از کالاها را شامل می شود. انواع مواد غذایی، ماشین، لباس، خدمات تفریحی و...

دولت هزینه این سبد را در طول زمان بررسی می کند اگر قیمت این سبد در طی یک دوره مشخص مثلاً ۱۰ درصد افزایش داشت، Cpi هم ۱۰ درصد افزایش دارد یعنی ۱۰٪ تورم افزایش یافته است.

دولت اطلاعات قیمت سبد کالاها را گردآوری می کند و از طریق رابطه زیر، شاخص قیمت مصرف کننده را محاسبه می کند:

برای یک ماه (یا یک سال) معین

Cpi =

هزینه سبد بازار در ماه (سال) قبل - هزینه سبد بازار در ماه (سال) معین

× ۱۰۰

هزینه سبد بازار در ماه (سال) قبل

Consumer Price Index

مخفف

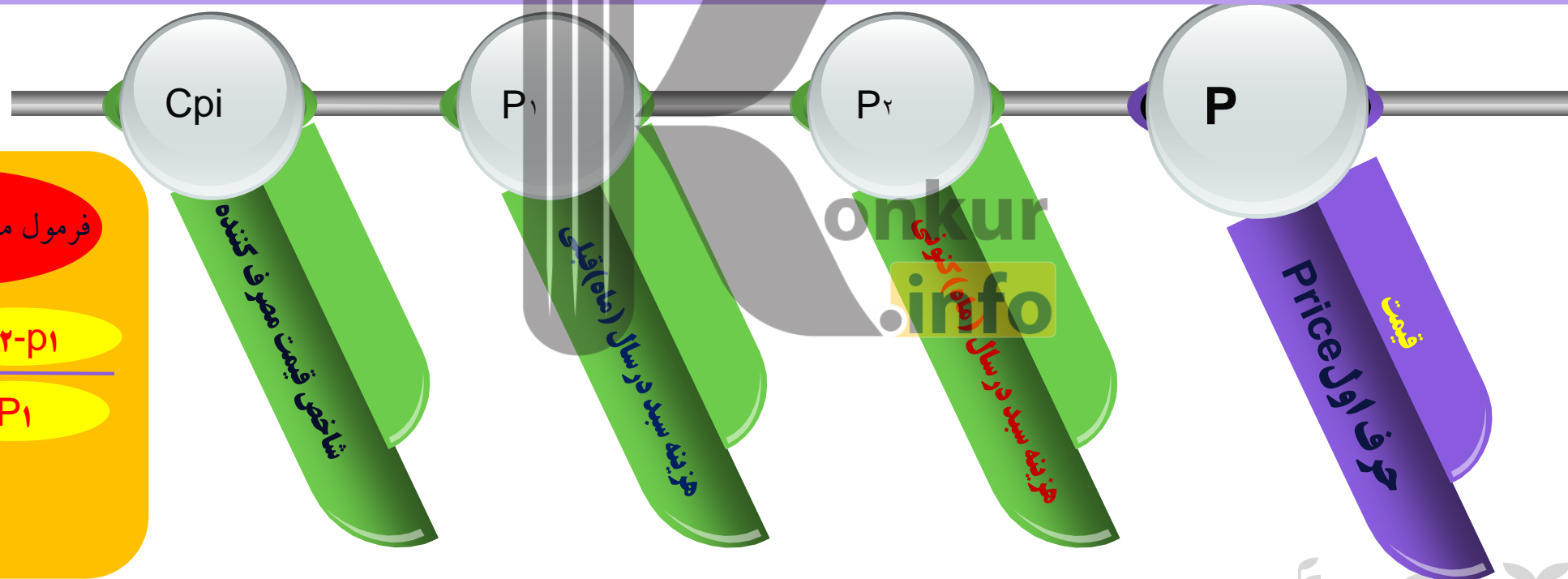
CPI

مثال: اگر در ماه جاری هزینه سبد بازار ۱,۰۰۰,۰۰۰,۰۰۰ تومان باشد و چنان چه هزینه سبد بازار در سال قبل در همین ماه برابر با ۱,۰۰۰,۰۰۰,۰۰۰ تومان بوده باشد شاخص قیمت مصرف کننده برابر با:



$$Cpi = \frac{1/1-1}{1} \times 100 = 10$$

برای راحتی محاسبه صفرهای میلیارد را حذف می کنیم تفسیر عدد ۱۰ یعنی از سال قبل تا کنون شاخص قیمت مصرف کننده ۱۰ درصد رشد داشته است و نسبت به سال قبل ۱۰٪ تورم افزایش یافته است.



فرمول محاسبه نرخ تورم

$$Cpi = \frac{P_2 - P_1}{P_1}$$




مسئله ۱: اگر هزینه سبد بازار در ابتدای سال ۹۰، ۱۰۰۰ تومان باشد و در ابتدای سال ۹۱، هزینه سبد بازار به ۱۲۰۰ تومان افزایش پیدا کرده باشد نرخ تورم چند درصد است؟

۱) ۲ درصد ۲) ۲۰ درصد ۳) ۲۵ درصد ۴) ۱۰ درصد

پاسخ: گزینه ۲ برای یافتن پاسخ باید از فرمول زیر استفاده کنیم:

$$\text{Cpi} = \frac{P_2 - P_1}{P_1} \times 100 = \frac{1200 - 1000}{1000} \times 100 = 20 \text{ درصد}$$

مسئله ۲: با فرض تورم ۱۰ درصدی در یک سال، اگر هزینه سبد بازار در ابتدای سال ۸۷، ۱۰۰۰ تومان بوده باشد قیمت آن در ابتدای سال ۸۸ چند تومان افزایش داشته است؟

(۱) ۱۱۰۰ تومان
(۲) ۱۱۰ تومان
(۳) ۱۰۰ تومان
(۴) ۱۰ تومان
پاسخ: گزینه ۳

$$Cpi = \frac{P_2 - P_1}{P_1} = 10\% \Rightarrow \frac{P_2 - 1000}{1000} = \frac{10}{100}$$

$$10 \times 1000 = 100 \times (P_2 - 1000)$$

$$10000 + 100000 = 100 \times P_2$$

$$110000 = 100 \times P_2 \Rightarrow P_2 = \frac{110000}{100} = 1100$$

میزان افزایش قیمت = $P_2 - P_1$

افزایش قیمت در ابتدای سال ۸۸ نسبت به ابتدای سال ۸۷ = ۱۰۰ تومان = $1100 - 1000$
توجه شود که سوال پرسیده قیمت کالا چند تومان افزایش داشته است نه این که قیمت کالا در ابتدای سال ۸۸ چند تومان بوده است بنابراین ابتدا سطح قیمت جدید را محاسبه می کنیم و سپس با کم کردن سطح قیمت قبلی از آن به میزان افزایش می رسیم.

نکته تکمیلی

گاهی افراد با شنیدن کاهش نرخ تورم انتظار دارند سطح عمومی قیمت ها، کاهش یافته باشد (یعنی اجناس ارزان تر شده باشند) در حالی که کاهش تورم به معنای کاهش شتاب افزایش قیمت ها است، یعنی قیمت ها با شتاب کم تر از قبل افزایش خواهند داشت.

پیامدهای تورم

* تورم زیان بار، وقتی افزایش سطح عمومی قیمت ها، بی رویه، پرنوسان و مداوم باشد با تورم زیان بار روبه رو هستیم.


تورم زیان بار، پیامدهای زیر رابه دنبال دارد:

- ۱- **بررفاه مردم و امنیت اقتصادی** آن ها اثر منفی می گذارد.
- ۲- سبب می شود **فضای کسب و کار بی ثبات** شود در نتیجه تولید کنندگان و بازرگانان نتوانند پیش بینی درستی از آینده قیمت ها در بازار داشته باشند و به این ترتیب تولید و خرید و فروش کالاها با مشکلات زیادی روبه رو شود.
- ۳- موجب **کاهش قدرت خرید** پول می شود و مصرف کنندگان کالا و خدمات را با مشکل مواجه می کند در نتیجه بررفاه مصرف کنندگان اثر منفی می گذارد.

متاسفانه اقتصاد ایران، در سال های متمادی از تورم های
لجام گسیخته (افسار گسیخته، تورم زیان بار) آسیب دیده
است. نمودار مقابل نمودار تورم در ده سال گذشته است:
طبق نموداری که در کتاب درسی وباستناد باداده های
بانک مرکزی تنظیم شده است.

konkur
info

جدول تورم
در ایران



علل تورم و نقش دولت



نقش دولت برای مقابله با تورم و کنترل آن

توضیح

علل تورم

۱. نابرابری عرضه و تقاضای کل

نابرابری عرضه و تقاضای کل یعنی فزونی تقاضا بر عرضه

افزایش میزان عرضه کالاها
دولت به دوروش می تواند این کار را انجام دهد:
۱. ظرفیت تولیدی را افزایش دهد.
۲. از طریق افزایش واردات، بازار را تنظیم کند.
نکته: چون روش اول معمولاً زمان بر است دولت ها ترجیح می دهند روش دوم را به کار بندند.

۲. عدم هماهنگی افزایش نقدینگی و افزایش تولید

اگر افزایش نقدینگی (افزایش حجم پول کل پول موجود در کشور) با افزایش تولید هماهنگ نباشد می تواند سبب بروز تورم شود.
* عللی که در ایران باعث افزایش نقدینگی می شوند:
۱. افزایش درآمدهای نفتی
افزایش درآمدهای نفتی اگرچه منجر به افزایش ظرفیت های تولید می شود اما باعث رشد درآمدهای اقتصادی و رشد حجم نقدینگی نیز می شود که تورم زاست.
۲. نوسانات نرخ ارز
این نوسانات بر ارزش پول ملی مایه منفی می گذارد و منجر به کاهش قدرت خرید پول ملی و در نتیجه منجر به تورم می شود.

۱- **سیاست های پولی: به سیاست هایی که دولت از طریق بانک مرکزی برای مدیریت حجم نقدینگی و حفظ ارزش پول اعمال می کند گفته می شود.**

* سیاست های پولی معمولاً به دو شکل انجام می شود:

۱. کاهش نقدینگی در گردش (کاهش حجم پول در گردش) مشهور به سیاست انقباضی بانک مرکزی برای پیشگیری از افزایش قیمت ها با کاهش سرعت آن حجم پول در گردش در جامعه را کم می کند یکی از روش ها:
* سیاست بازار باز = فروش اوراق مشارکت بانک مرکزی: در این روش مستقیم از مقدار نقدینگی در دست مردم می کاهد.

۲. **افزایش نقدینگی در گردش = (گردش حجم پول در گردش) مشهور به سیاست انبساطی.**

در حالت رکود اقتصادی:

۱. سطح تولید کاهش می یابد.

۲. بیکاری افزایش می یابد.

در این حالت دولت معمولاً سیاست انبساطی را در پیش می گیرد تا به جامعه نقدینگی بیشتر تزریق کند یکی از این روش ها: خرید اوراق مشارکت

سوالات تستی

konkur
.info

<https://konkur.info>

۱. در کدام گزینه به هریک از سوالات الف، ب و پ پاسخ صحیح داده شده است؟

الف) دولت با کسری بودجه مواجه شده یعنی:

ب) نرخ برابری ریال و دلار به شدت بالا رفته بود، یعنی:

پ) وقتی بستنی سالار یک سال پیش از ۳ هزار تومان بوده و امسال ۸ هزار تومان شده، این مفهوم رایبان می کند که:

۱) الف: هزینه هایش بیشتر از درآمدش شده. ب: طی چند ماه دلار از ۴۰۰۰ تومان به ۱۶۰۰۰ تومان رسیده. پ: قدرت خرید پول کاهش یافته است ۲

۲) الف: پول خزانه برای مخارج کشور کافی نیست. ب: دلار کمیاب شده و ارزش ریالی آن بالا رفته. پ: با این که ارزش پول حفظ شده اما قدرت خرید آن کم شده است

۳) الف: منفعت دولت از هزینه هایش بیشتر شده. ب: طی چند سال قیمت دلار از ۸ هزار تومان به ۱۰ هزار تومان رسیده. پ: ارزش پول کاهش یافته است.

۴) الف: هزینه و درآمدش سربه سر شده و بودجه ای مازاد برای دولت نمانده. ب: ارزش ریال و دلار شدیداً بالا رفته. پ: قدرت خرید پول ثابت مانده است.

۲. کدام یک از گزینه های زیر مصداق تهاتر می باشد؟

۱) شخصی یک تن گندم زمین خود را بادو گوسفند مبادله می کند.

۳) شخصی باغلات که کالای پر طرفدار کشورش است به مبادله می پردازد.

۳) شخصی با رسیدهایی که صرافان به او در مقابل پولش داده اند، تجارت می کند.

۴) شخصی درازای دریافت پول، کالاهای مورد نظر مشتریان را برای آن ها ارسال می کند.

۳. کدام گزینه جزء مشکلات مبادله پایایی نیست؟

۱) چگونه و به چه تعداد از کالاهای مختلف رامی توان باهم مبادله کرد.

۲) کالاها در طی مبادلات گسترده ممکن است فاسد شوند.

۳) عدم تمایل هم زمان دو طرف به مبادله و حمل کالاها به سختی اتفاق می افتد.

۴) تامین جابرای محافظت از این کالاها، هزینه نگه داری آن ها را افزایش می دهد.

۴. چه مشکلاتی سبب شد که انسان ها کالاهایی بادوام، غیر فاسد شدنی و قابل تقسیم به تکه های کوچک و پرتفردار را جایگزین تهاتر کنند؟

۱) فاسد شدنی بودن کالاها در طی زمان و فقدان امکان پس انداز و حفظ ارزش - نبودن وسیله سنجش ارزش - عدم تمایل هم زمان طرفین به مبادله

۲) بدون مصرف باقی ماندن کالاها به مدت زیاد - عدم امکان پس انداز - اشغال فضای زیاد جهت نگهداری طولانی مدت آن ها

۳) مبادلات با حجم زیاد، فضای زیادی را اشغال می کرد و حمل تعداد زیاد کالا بسیار سنگین و دشوار بود و افزایش هزینه نگهداری

۴) عدم امکان تعیین ارزش پولی کالاهای مختلف به صورت عادلانه - فاش شدن کالاها در صورت انبار شدن طولانی مدت و ضرر صاحبان کالا در صورت نگه داری طولانی مدت.

۵. در گذشته، ساکنان ایران، هندوستان، روسیه و قبت به ترتیب حاضر بودند کالای اضافی خود را با کدام کالای پرتفردار معاوضه کنند؟

۲) غلات - پارچه - صدف - چای

۴) گندم - پارچه - صدف - غلات

۱) گندم - صدف - پوست سمور - غلات

۳) غلات - صدف - پوست سمور - چای

۶. در کدام گزینه به اولین پولی که مورد استفاده مردم قرار گرفت، اشاره شده است؟

۲) کالاهای خاص پرتفردار در هر منطقه

۴) پول تحریری یا پول ثبتی در گردش

۱) سکه های فلزی طلا و نقره

۳) رسیدهای کاغذی

۷. ((در صورتی که مدت زیادی بدون مصرف بماند، فاسد و غیر قابل استفاده می شوند و به دلیل حجم زیاد، فضای زیادی را اشغال می کنند. هم چنین تامین جا برای محافظت از آن ها، هزینه نکه داری آن ها را افزایش می دهد و زیان دیدگی به همراه دارد.)) این متن به کدام نوع از مبادلات است و برای رفع این مشکلات، چه نوع پولی جایگزین شد؟

۲) مبادله کالا با کالا - رسیدهای کاغذی

۴) مبادله کالا به کالا - کالاهای پرتفردار هر منطقه

۱) مبادلات بایک کالای خاص - پول فلزی

۳) مبادلات بایک کالای خاص - پول کاغذی

۸. پاسخ صحیح پرسش های زیر در کدام گزینه آمده است؟
الف: کدام مورد از معایب استفاده از اولین پول رایج در سرزمین ها است؟
ب: کدام مورد از مشکلات تهاثر است؟

پ: در دوره ای که کالای خاصی پرطرفدار بود، درهند و روسیه چه کالاهایی خواهان بیشتری داشت؟
ت: کدام عبارت در مورد پول کاغذی درست است؟

- (۱) الف: افزایش هزینه نگه داری به منظور تامین جابرای محافظت از این کالاها ب: محدود کردن راه پیشرفت اقتصادی و تجاری پ: صدف و چای ت: عده ای از بازرگانان در معاملات خود به جای پرداخت سکه های فلزی، رسیدی صادر می کردند که بیانگر بدهی آنان بود و طرف مقابل براساس اصل اعتماد این سر رسید را می پذیرفت.
- (۲) الف: افزایش هزینه نگهداری به منظور تامین جا برای محافظت طولانی مدت از این کالاها ب: فقدان امکان پس انداز و حفظ ارزش و انتقال آن به آینده پ: صدف و پوست سمور ت: عده ای از بازرگانان در معاملات خود به جای پرداخت سکه های فلزی، رسیدی صادر می کردند که بیانگر بدهی آنان بود و طرف مقابل براساس اصل اعتماد این رسید را می پذیرفت.
- (۳) الف: نامناسب بودن این وسیله پرداخت در معاملات با حجم زیاد ب: عدم تمایل هم زمان طرفین به مبادله پ: صدف و پوست سمور ت: بی مبالاتی و یا سوء استفاده برخی از صرافان از اعتماد مردم و یا تعداد زیاد انواع رسیده ها و صرافی ها، اگر چه آشنایی و اعتبارسنجی آن ها را برای مردم ساده کرده بودند موجب شد تا دولت چاپ و انتشار اسکناس را برعهده گیرند.
- (۴) الف: نامناسب بودن این وسیله پرداخت در معاملات با حجم زیاد ب: محدود کردن راه پیشرفت اقتصادی و تجاری پ: صدف و چای ت: بی مبالاتی و یا سوء استفاده برخی صرافان از اعتماد مردم و یا تعداد زیاد انواع رسیده ها و صرافی ها اگر چه آشنایی و اعتبارسنجی آن ها را برای مردم ساده کرده بودند موجب شد تا دولت ها برای جلوگیری از بروز این گونه مشکلات، چاپ، انتشار اسکناس را برعهده گیرند.

۹. گسترش تجارت داخل کشورها و بین ملت ها و رونق فعالیت هایی از قبیل دریانوردی و حمل و نقل، پیامد اختراع و رواج استفاده از کدام نوع پول بود؟
(۱) پول کاغذی (۲) اولین پول (کالای پرطرفدار) (۳) پول فلزی (۴) پول تحریری

۱۰. کدام گزینه به مشکلات ناشی از مبادلات با پول فلزی اشاره دارد؟

- (۱) اشغال فضای زیاد توسط حجم زیاد پول های فلزی - فاسد و غیرقابل استفاده شدن آن ها پس از مدتی طولانی
(۲) محدود بودن میزان طلا و نقره در دسترس بشر - دشوار بودن حمل و نقل در معاملات با حجم زیاد
(۳) نبودن وسیله مناسبی برای حفظ و سنجش ارزش - دشوار بودن حمل و نقل حجم زیاد آن
(۴) محدود بودن میزان طلا و نقره - نبودن وسیله سنجش ارزش مناسب و اشغال فضای زیاد

۱۱. با توجه به تاریخچه پیدایش پول، کدام گزینه مبین پاسخ صحیح پرسش های زیر است؟
الف: کدام یک از مشکلات مبادله تهاتری نیست؟

ب: در رابطه با پیدایش پول در مرحله دوم کدام مورد درست است؟

پ: به چه دلیل استفاده از فلزاتی مانند طلا و نقره به عنوان پول در گذشته جایگزین کالاهای خاص پر طرفدار در هر منطقه شد؟

ت: ایده سپردن نشر پول به یک بانک چگونه شکل گرفت؟

ث: در معاملاتی که با چک انجام می شود جابه جایی پول چگونه است؟

ج: پشتوانه ((پول فلزی)) تحریری و الکترونیکی که امروزه در دست افراد است)) چیست؟

۱) الف: پس انداز، حفظ ارزش و انتقال آن به آینده ب: انتخاب برخی فلزات مانند طلا و نقره به عنوان وسیله مبادله پ: نامحدود بودن میزان طلا و نقره در دسترس بشر ت: مجبور شدن دولت به چاپ و انتشار اسکناس به دلیل بی مبالاتی و یا سوء استفاده برخی از صرافان از اعتماد مردم و هم چنین سخت بودن آشنایی و اعتبار سنجی انواع رسیده ها و صرافی ها ث: پول نقد بین افراد رد و بدل می شود و بانک مبلغ قید شده روی چک را به فردی که چک را در اختیار دارد پرداخت می کند. ج: قدرت اقتصادی کشور

۲) الف: تعیین و محاسبه قیمت ها و تبدیل آن ها به یکدیگر ب: استفاده از پول کاغذی یا رسیده ها در معامله پ: مناسب بودن پول فلزی به عنوان وسیله پرداخت در مبادلات با حجم زیاد ت: مصون ماندن مردم از خطرهای احتمالی و هم چنین رهایی یافتن از حمل رسیده ها در معامله ث: پول نقد بین افراد رد و بدل نمی شود بلکه بانک، موجودی حسابی را کاهش و موجودی حساب دیگر را افزایش می دهد. ج: پول فلزی و شمش های طلا و جواهراتی که نزد صراف یا بانک است.

۳) الف: محدود بودن میزان هر کالا ب: گزینش کالایی خاص به عنوان وسیله مبادله در هر منطقه پ: فسادناپذیری و حمل و نقل بسیار آسان ت: مجبور شدن دولت به چاپ و انتشار اسکناس به دلیل بی مبالاتی و یا سوء استفاده برخی از صرافان از اعتماد مردم و هم چنین سخت بودن آشنایی و اعتبار سنجی انواع رسیده ها و صرافی ها ث: پول نقد بین افراد رد و بدل نمی شود بلکه بانک موجودی حسابی را کاهش و موجودی حساب دیگر را افزایش می دهد. ج: قدرت اقتصادی کشور.

۴) الف: حمل و نقل دشوار در مبادلات با حجم زیاد ب: در هر منطقه کالایی خاص پر طرفدار بود که به عنوان اولین پول مورد استفاده قرار گرفت پ: فسادناپذیری و حجم کم ت: مصون ماندن مردم از خطرهای احتمالی و هم چنین رهایی یافتن از حمل رسیده ها در معامله ث: پول نقد بین افراد رد و بدل می شود و بانک مبلغ قید شده روی چک را به فردی که چک را در اختیار دارد پرداخت می کند. ج: پول های فلزی و شمش های طلا و جواهراتی که نزد صراف یا بانک است.

۱۲. کدام گزینه به نخستین اسکناس ها اشاره می کند و پشتوانه آن ها چه بود؟

- ۱) رسیدهای کاغذی نزد صرافان - اعتمادی که مردم به رسیدهای کاغذی نزد صرافان و بازرگانان داشتند.
- ۲) پول ثبتي یا تحریری نزد مردم - طلا و نقره ای که نزد صرافان و بازرگانان نگه داری می شد؟
- ۳) رسیدهای کاغذی نزد صرافان - طلا و نقره ای که نزد بازرگانان و صرافان نگه داری می شد.
- ۴) پول ثبتي یا تحریری نزد مردم - اعتمادی که مردم به رسیدهای کاغذی نزد صرافان و بازرگانان داشتند.

۱۳. جاهای خالی عبارات زیر باموارد کدام گزینه به درستی کامل می شوند؟

- الف: اولین اسکناس بود و پشتوانه آن ها محسوب می شد.
- ب: مردم برای پول های خود را به صرافان یا تجار معتبر می سپردند و در مقابل ، آن ها می گرفتند.
- پ: ، آن ها را به نهادی مهم در اقتصاد تبدیل کرد که نام آن بود.
- ت: بی مبالاتی یا سوء استفاده برخی از صرافان از اعتماد مردم باعث شد که
- ۱) **الف:** رسیدی که بازرگانان صادر می کردند - کالای پرطرفدار نزد بازرگانان **ب:** رهایی یافتن از حمل مسکوکات در معامله - طلا و نقره **پ:** افزایش اعتماد مردم به صرافی ها - بانک مرکزی ت: دولت ها خود چاپ و انتشار اسکناس را برعهده بگیرند.
 - ۲) **الف:** رسیدی که مردم بین خود رد و بدل می کردند طلا و نقره نزد صرافان و تجار **ب:** رهایی یافتن از حمل مسکوکات در معامله ها - رسید معتبر **پ:** رونق روزافزون کار صرافی ها - بانک مرکزی ت: دولت ها از طریق بانک مرکزی بر کار صرافی ها نظارت کنند.
 - ۳) **الف:** رسیدی که بازرگانان یا صرافی ها صادر می کردند - طلا و نقره نزد صرافان و تجار **ب:** مصون ماندن از خطرهای احتمالی - رسید معتبر **پ:** رونق روزافزون کار صرافی ها - بانک ت: دولت ها خود چاپ و انتشار اسکناس را برعهده بگیرند.
 - ۴) **الف:** رسیدی که مردم و تجار بین خود رد و بدل می کردند - کالای پرطرفدار نزد بازرگانان **ب:** مصون ماندن از خطرهای احتمالی - طلا و نقره **پ:** افزایش اعتماد مردم به صرافی ها - بانک ت: دولت ها از طریق بانک مرکزی بر کار صرافی ها نظارت کنند.

۱۴. در پی گسترش فعالیت بانک ها و ارتباطات و دشوار شدن نقل و انتقال اسکناس، پولی پدید می آمد که موجب شد، به آن نقد سهولت افراد رد و بدل نشود، این نوع پول چه نام دارد؟

(۱) پول تحریری یا ثبتی

(۲) پول اینترنتی

(۳) پول اعتباری

(۴) پول غیر نقدی

۱۵. چرا در گذشته دولت، چاپ و انتشار اسکناس را برعهده گرفت؟

- (۱) گاهی برخی از صرافان و بازرگانان نمی توانستند سکه هایی را که طبق رسید، موظف به پرداخت آن ها بودند به صاحبانشان برگردانند.
- (۲) رسیدهای منتشر شده توسط صرافان اگرچه نخستین اسکناس ها بودند، ولی پشتوانه ای نداشتند.
- (۳) با افزایش حجم مبادلات، نیاز به انتشار رسید بیشتر می شد که صرافان به تنهایی قادر به انتشار آن ها نبودند.
- (۴) بی مبالاتی یا سوءاستفاده برخی صرافان از اعتماد مردم یا تعداد انواع رسیدها و صرافی ها که اعتبار سنجی را دشوار کرده بود.

۱۶. در معاملاتی که با چک انجام می شود، چه اتفاقی می افتد؟

- (۱) از پول هایی با مبلغ بالا مثلا چک پول های ۵۰ هزار تومانی استفاده می شود که از حجم پول در گردش می کاهد.
- (۲) پول نقد بین افراد رد و بدل نمی شود و بانک موجودی حسابی را کاهش و موجودی حساب دیگری را افزایش می دهد.
- (۳) انقلاب دیجیتال و الکترونیکی رخ می دهد که طی آن مبادلات سریع تر و راحت تر صورت می گیرد.
- (۴) پول هایی نوظهور پدید می آید که یکی از نمونه های آن ((بیت کوین)) نام دارد.

۱۷. چرا به چک ((پول تحریری یا ثبتی)) گفته می شود؟

- (۱) چون پول نقد رد و بدل نمی شود و روی کاغذ ثبت می شود.
- (۲) زیرا توسط بانک مرکزی چاپ و تحریر می شود.
- (۳) چون خود افراد مبلغ چک را روی آن می نویسند.
- (۴) زیرا باید با خط تحریری، اطلاعات بانکی روی آن ثبت گردد.

۱۸. کدام گزینه صحیح نمی باشد؟

- ۱) رسیده‌ها در واقع اولین اسکناس بودند و کالای خاص در هر منطقه اولین پول به شمار می رفتند.
- ۲) امروزه پول های الکترونیکی قابل ثبت و ضبط در کارت های بانکی و قابل انتقال در شبکه های ارتباطی، انتقال دارایی را سریع و آسان کرده است.
- ۳) افزایش حجم و سرعت مبادلات و همراه شدن آن با انقلاب صنعتی موجب شد بشر به دنبال روش های سریع و آسان بگردد.
- ۴) امروزه پشتوانه پول های کاغذی، تحریری و الکترونیکی در دست مردم، پول های فلزی و شمش های طلا و جواهرات نزد خزانه داری دولت است.

۱۹. کدام گزینه مفهوم ((پشتوانه پول)) را بیان می کند؟

- ۱) اطمینانی که مردم به ارزش پول در مبادلات دارند
- ۲) اطمینانی که مردم به وجود طلا و نقره، نزد بانک مرکزی دارند.
- ۳) اطمینانی که مردم به مقدار پول نزد بانک ها دارند.
- ۴) اعتمادی که مردم به دولت و بانک مرکزی برای حفظ ارزش پول ثبتی دارند

۲۰. به ترتیب پول فلزی در گذشته و پشتوانه پول های امروزی چیست؟ ویکی از پول های نوظهور چه نام دارد؟

- ۱) شمش های طلا و جواهرات نزد صرافی ها - قدرت اقتصادی کشور - پول تحریری
- ۲) شمش های طلا و جواهرات نزد صرافی ها - قدرت اقتصادی کشور - بیت کوین
- ۳) طلا و نقره موجود در خود پول - قدرت سیاسی کشور - پول تحریری
- ۴) طلا و نقره موجود در خود پول - قدرت اقتصادی کشور - بیت کوین

۲۱. در مورد عبارت زیر کدام گزینه صحیح است؟

- ((مطمئن باشید که هر سال ۳۰٪ از سرمایه ای که گذاشتید به شما سود می دهیم. اساسا اقتصاد بده -ستان است و اقتصاد حساب و کتاب دارد. پول هم مثل سایر کالاها خرید و فروش می شود و سودی به آن تعلق می گیرد.))**
- ۱) تعلق گرفتن سود به سرمایه مالی ربا و حرام است.
 - ۲) تعلق گرفتن سود به هر نوعی از سرمایه، جنگ با خدا و پیامبرش است.
 - ۳) پول اگر از منبع مطمئنی به آن سود تعلق بگیرد بلا مانع است.
 - ۴) پول اگر در یک سرمایه گذاری معتبر قرار گیرد می تواند مشمول سود گردد.



۲۲. گزاره های زیر را با حرف **ص** به نشانه صحیح و حرف **غ** به نشانه غلط مشخص کنید.

الف: ورقه کاغذ پول ، به خودی خود ، ۱۰ هزار تومان می ارزد و به شما امکان می دهد به اندازه این مبلغ خرج کنید.

ب: تورم با این که قدرت خرید پول افزایش یافته است یا کاهش ، ارتباط دارد.

پ: سیاست انقباضی در شرایط تورم یک آسیب و تهدید اقتصادی است.

ت: محاسبه تورم ، باعث می شود بدانیم چرامیان آن چه از تورم احساس می کنیم و آن چه واقعا در اقتصاد روی داده است تفاوت هایی وجود دارد .

ث: یکی از باورهای رایج میان مردم این است که گمان می کنند ، پول همان ثروت است.

۱) ص - غ - ص - غ - غ

۳) غ - ص - غ - ص - ص

۲) غ - ص - غ - ص - غ

۴) ص - غ - غ - ص - ص

۲۳. کدام گزینه از وظایف پول **نمی باشد**؟

۱) وسیله سنجش ارزش

۳) وسیله حفظ قدرت خرید

۲) وسیله پرداخت در مبادلات و ارزش گذاری

۴) وسیله پس انداز و حفظ ارزش و پرداخت های آتی

۲۴. در چه صورتی پول می تواند وسیله ای برای پرداخت های آینده باشد؟

۱) در شرایطی که ارزش خود را حفظ کند

۳) در شرایطی که بتواند ارزش کالاها را بسنجد.

۲) در شرایط تورم یا رکود باشیم.

۴) در شرایط فرونی نقدینگی در کشور باشیم.

۲۵. جمله زیر به کدام یک از وظایف پول اشاره کرد؟

((واحد ارزش در اتحادیه اروپا یورو ، در مالزی رینگیت و در آمریکا دلار است.))

۱) وسیله پرداخت در مبادلات

۳) وسیله سنجش ارزش

۲) وسیله پس انداز و حفظ ارزش

۴) وسیله پرداخت های آینده



۲۶. نقش اصلی پول در مبادلات چیست؟

(۱) حفظ ارزش در هر مبادله (۲) وسیله پرداخت های آتی

(۳) آسان سازی مبادله

(۴) حفظ قدرت خرید در طول زمان

۲۷. هر یک از عبارات زیر به ترتیب به کدام وظیفه پول اشاره دارند؟

واحد پول ایران، ریال و واحد پول کانادا، دلار کانادا است.

خریدهای اقساطی این نقش پول را به خوبی نشان می دهند.

افراد برای رفع نیازهای غیرقابل پیش بینی در آینده به پول نیاز دارند.

نقش اصلی پول، آسان سازی مبادلات است.

(۱) وسیله سنجش ارزش - وسیله پرداخت های آینده - وسیله پس انداز و حفظ ارزش - وسیله پرداخت در مبادلات

(۲) وسیله سنجش ارزش - وسیله پرداخت های آینده - وسیله پرداخت در مبادلات - وسیله پس انداز و حفظ ارزش

(۳) وسیله پرداخت در مبادلات - وسیله پس انداز و حفظ ارزش - وسیله پرداخت های آینده - وسیله سنجش ارزش

(۴) وسیله پرداخت در مبادلات - وسیله سنجش ارزش - وسیله پس انداز و حفظ ارزش - وسیله پرداخت های آینده

۲۸. در مورد نقدینگی کدام گزینه صحیح نیست؟

(۱) کل حجم پول موجود در کشور نقدینگی است که حجم آن کم و یا زیاد می شود.

(۲) در بیشتر مواقع حجم نقدینگی در کشورها با افزایش روبه روست.

(۳) افزایش نقدینگی معمولاً ناشی از عملکرد بانک هاس.

(۴) چگونگی افزایش نقدینگی، سازوکار نسبتاً ساده ای دارد.



۲۹. کدام گزینه، عمده وظایف موسسات و بانک ها (اعم از ربوی و غیر ربوی) را در زمان فعلی نشان می دهد؟

- (۱) نقل و انتقال و محافظت از پول - اعطای وام - تامین اعتبار
- (۲) چاپ اسکناس - محافظت از پول سپرده گذاران - اعطای وام
- (۳) نقل و انتقال پول - اعطای وام و چاپ اسکناس - اعمال سیاست های پولی
- (۴) تامین اعتبار - محافظت و نقل و انتقال پول - اعمال سیاست های مالی

فرساد

۳۰. انحصار حق چاپ اسکناس و ضرب سکه با کدام نهاد است؟ خلق اعتبار توسط چه نهادی صورت می گیرد؟

- (۱) دولت - بانک ها
- (۲) بانک مرکزی - دولت
- (۳) دولت - موسسات مالی و اعتباری
- (۴) بانک مرکزی - بانک ها

۳۱. پاسخ پرسش های زیر به ترتیب در کدام گزینه آمده است؟

- الف: در چه صورتی می گوئیم قدرت خرید پول دستخوش تغییر شده است؟
ب: قدرت خرید پول با چه عاملی در ارتباط است و این از چه نوعی است؟
پ: چرا تورم یکی از مشکلات اقتصادی است؟

- (۱) الف: نتواند ارزش خود را در طول زمان حفظ کند
 - (۲) الف: ارزش آن در طول زمان در نوسان باشد
 - (۳) الف: نتواند ارزش خود را در طول زمان حفظ کند
 - (۴) الف: ارزش آن در طول زمان نوسان باشد.
- ب: سطح عمومی قیمت ها - مستقیم
ب: سطح عرضه و تقاضا - معکوس
ب: سطح عمومی قیمت ها - معکوس
ب: سطح عرضه و تقاضا - مستقیم

- پ: زیرا بیکاری در جامعه زیاد می شود.
پ: برای اینکه از قدرت خرید مردم می کاهد.
پ: زیرا باعث کاهش رفاه خانواده ها می شود.
پ: برای اینکه باعث افزایش قیمت ها می شود.



۲۰ هزار تومان

خانه سال ۱۳۴۸

پیکان سال ۱۳۵۴

یک حلقه لاستیک سال ۱۳۸۴

موتورسیکلت سال ۱۳۶۵

دو چرخه سال ۱۳۷۴
یک جعبه

شکلات سال ۱۳۸۴

۳۲. باتوجه به شکل مقابل کدام گزینه صحیح است؟

- ۱) پول نتوانسته ارزش خود را حفظ کند و در کشور، دوره هایی متوالی از تورم و رکود وجود دارد.
- ۲) در این جامعه از سال ۱۳۴۸ تا سال ۱۳۶۵، تورم و از سال ۱۳۶۵ تا کنون، رکود وجود داشته است.
- ۳) پول نتوانسته حفظ ارزش کند و قدرت خرید را از دست داده است.
- ۴) پول وسیله مناسبی برای سنجش ارزش و حفظ قدرت خرید نبوده است.

۳۳. عبارات کدام گزینه بیانگر پاسخ صحیح پرسش های زیر است و جای خالی را به درستس تکمیل می کند؟

الف: وقتی..... می گوئیم قدرت خرید پول دستخوش تغییر است.

ب: قدرت خرید پول به چه عاملی در جامعه بستگی دارد؟

پ: نتیجه عدم هماهنگی میان افزایش نقدینگی در جامعه با افزایش تولید چیست؟

ت: رابطه قدرت خرید پول با چه چیزی یک رابطه غیرمستقیم است؟

- ۱) الف: ارزش پول متناسب با رونق و شکوفایی اقتصادی افزایش هماهنگ نداشته باشد. ب: سطح عمومی قیمت ها پ: نابرابری عرضه و تقاضای کل ت: حجم پول در گردش
- ۲) الف: یک واحد پول نتواند در طول زمان ارزش خود را حفظ کند. ب: سطح عمومی قیمت ها پ: وجود تورم ت: سطح عمومی قیمت ها
- ۳) الف: ارزش پول متناسب با رونق و شکوفایی اقتصادی افزایش هماهنگ نداشته باشد. ب: حجم پول در گردش پ: افزایش سطح قیمت ها ت: حجم پول نسبت به تولید جامعه
- ۴) الف: یک واحد پول نتواند در طول زمان ارزش خود را حفظ کند. ب: حجم پول در گردش پ: وجود تورم رکودی ت: سطح عمومی قیمت ها

۳۴. ارتباط بین قدرت خرید پول و سطح عمومی قیمت ها از کدام نوع است؟

- ۱) ارتباط مستقیم
- ۲) رابطه متقابل
- ۳) رابطه معکوس
- ۴) رابطه کامل

۳۵. با توجه به مطلب زیر، کدام گزینه مبین پاسخ صحیح پرسش های زیر است؟

در سال های گذشته کسی که یک میلیون تومان پول داشت می توانست با آن یک دستگاه خانه بخرد یا ۵۰۰۰۰ تومان می شد یک دستگاه اتومبیل خرید، اما در حال حاضر باده میلیون تومان حداکثر بتوان یک موتور سیکلت خرید.

الف: چه زمانی قدرت خرید پول دستخوش تغییر می شود؟

ب: چرا پول نتوانسته است قدرت خریدش را حفظ کند؟

پ: قدرت خرید پول در جامعه به چه موردی بستگی دارد و رابطه آن ها چگونه است؟

ت: چه زمانی می گوییم تورم زیان بار است؟

۱) الف: زمانی که یک واحد پول نتواند در طول زمان ارزش خود را حفظ کند. ب: زیرا نتوانسته است ارزش خود را حفظ کند.

پ: سطح عمومی قیمت ها - معکوس ت: وقتی افزایش سطح عمومی قیمت ها، بی رویه پرنوسان و مداوم باشد.

۲) الف: زمانی که ارزش یک واحد پول متناسب با رونق و شکوفایی اقتصادی افزایش نداشته باشد. ب: زیرا عرضه و تقاضای کل در جامعه بایکدیگر

نابرابر هستند پ: نقدینگی - مستقیم ت: وقتی افزایش قیمت ها هم پای افزایش درآمد نباشد.

۳) الف: زمانی که یک واحد پول نتواند در طول زمان ارزش خود را حفظ کند. ب: زیرا نتوانسته است ارزش خود را حفظ کند

پ: نقدینگی - مستقیم ت: وقتی سطح قیمت کالاهای لوکس پرنوسان باشد و ثبات قیمتی نداشته باشد.

۴) الف: زمانی که ارزش یک واحد پول متناسب با رونق و شکوفایی اقتصادی افزایش نداشته باشد. ب: زیرا عرضه و تقاضا کل در جامعه بایکدیگر

نابرابر هستند. پ: سطح عمومی قیمت ها - معکوس ت: وقتی میزان افزایش درآمد بی ثبات و سطح عمومی قیمت ها پرنوسان و مداوم باشد.

۳۶. با توجه به این مطلب : ((در سال های نه چندان دور ، کسی که یک یک میلیون تومان پول داشت می توانست با آن یک دستگاه آپارتمان بخرد یا با ۵۰,۰۰۰ تومان می شد یک دستگاه اتومبیل نو و ارزان قیمت خریداری کرد اما در حال حاضر با ده میلیون تومان هم نمی توان یک دستگاه آپارتمان خرید و برای خرید یک دستگاه اتومبیل نو و ارزان قیمت بیش از ۵ میلیون تومان نیاز است))

الف: چرا گفته می شود قدرت خرید پول دستخوش تغییر است.
پ: قدرت خرید پول جامعه وابسته به چیست؟
ت: پول در مقابل چه چیزی ارزش خود را حفظ کرده است؟
ث: رابطه قدرت خرید پول با چه چیزی یک رابطه غیرمستقیم است؟

ث: علت کاهش قدرت خرید پول در جامعه کدام است؟

۱) الف: چون یک واحد پول نتوانسته در طول زمان ارزش خود را حفظ کند ب: افزایش سطح عمومی قیمت ها پ: سطح عمومی قیمت ها ت: سطح عمومی قیمت ها
ث: وجود تورم

۲) الف: چون یک واحد نتوانسته در طول زمان ارزش خود را حفظ کند. ب: افزایش حجم پول در گردش پ: سطح عمومی قیمت ها ت: سطح عمومی قیمت ها
ث: وجود تورم رکودی

۳) الف: چون ارزش پول بتوجه به رونق و شکوفایی اقتصادی افزایش هماهنگ نداشته است ب: افزایش سطح عمومی قیمت ها پ: نقدینگی ت: سطح عمومی قیمت ها
ث: وجود تورم

۴) الف: چون ارزش پول بتوجه به رونق و شکوفایی اقتصادی افزایش هماهنگ نداشته است. ب: افزایش حجم پول در گردش پ: نقدینگی ت: سطح عمومی قیمت ها
ث: وجود تورم رکودی

۳۷. چرا تورم یکی از مشکلات اقتصادی است؟

۱) چون باعث کاهش رفاه خانواده ها ، امنیت اقتصادی و کاهش قدرت خرید پول می شود.

۲) زیرا باعث کاهش انگیزه پس انداز و افزایش قدرت خرید پول می شود.

۳) چون باعث افزایش سطح عمومی قیمت ها و ضرر سرمایه گذاران و کاهش رفاه می شود.

۴) زیرا باعث از بین رفتن توان خرید در آینده می شود و قدرت خرید همراه با افزایش قیمت ها بالا می رود.

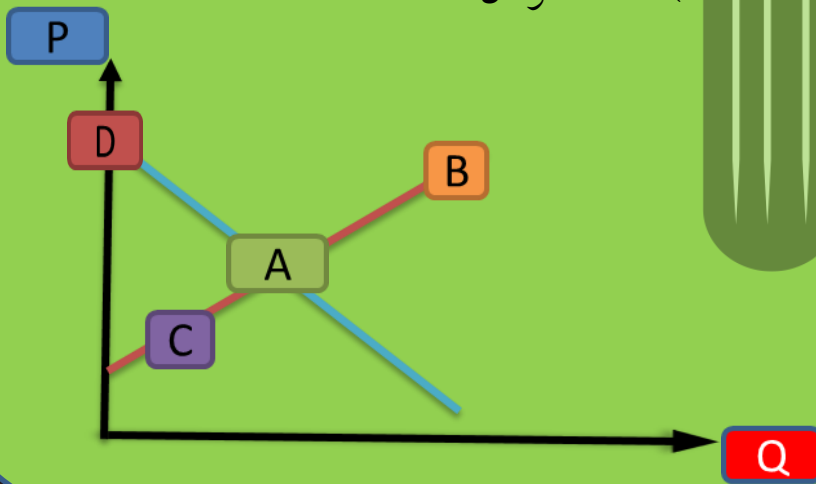
انتهای سال (به دلار)	ابتدای سال (به دلار)	سطح عمومی قیمت نام کشور
۲,۲۰۰	۲,۰۰۰	A
۵,۶۰۰	۴,۰۰۰	B
۷,۲۰۰	?	C
?	۳,۵۰۰	D
۷,۹۲۵	۶,۳۴۰	E

۳۸. با توجه به اطلاعات جدول زیر، کدام گزینه درست است؟

- (۱) Cpi در کشور A بیشتر از Cpi در کشور B است.
- (۲) اگر Cpi در کشور C برابر با ۲۰ درصد باشد آن گاه سطح عمومی قیمت ها در ابتدای سال برابر با ۶,۵۰۰ دلار خواهد بود.
- (۳) اگر Cpi در کشور D برابر با Cpi در کشور A باشد آن گاه سطح عمومی قیمت ها در انتهای سال در کشور D برابر با ۳,۸۵۰ دلار خواهد بود.
- (۴) Cpi در کشور E برابر با ۳۰ درصد است.

۳۹. در جامعه ای تورم در یک سال معادل ۲۰٪ است، اگر هزینه سبد بازار در ابتدای سال ۹۶، ۲۰,۰۰۰ تومان باشد قیمت آن در ابتدای سال ۹۷ چند تومان افزایش داشته است؟

- (۱) ۲۴,۰۰۰ تومان (۲) ۲,۰۰۰ تومان (۳) ۴,۰۰۰ تومان (۴) ۲۰,۰۰۰ تومان



۴۰. با توجه به نمودار روبه رو کدام گزینه مصداق شرایط تورمی است؟

- (۱) D چون در این نقطه با فزونی عرضه بر تقاضا مواجه هستیم و قیمت صفر است.
- (۲) A زیرا در این نقطه با وجود تساوی عرضه و تقاضا، تقاضای قیمت بالاست.
- (۳) B زیرا در این نقطه عرضه و تقاضا نابرابر هستند.
- (۴) C چون در این نقطه با مازاد تقاضا و کمبود عرضه مواجه هستیم.



- خانه سال ۱۳۴۲
- پیکان سال ۱۳۵۰
- موتورسیکلت سال ۱۳۶۰
- دوچرخه سال ۱۳۷۰
- یک حلقه لاستیک ماشین سال ۱۳۸۰
- هزینه پنچرگیری سال ۱۳۹۰



۴۱. باتوجه به نمودار تصویری روبه رو در رابطه با قدرت خرید پول :
الف: علت کاهش قدرت خرید پول کدام است؟
ب: پول در مقابل چه چیزی ارزش خود را حفظ **نکرده** است؟
پ: یکی از دلایل مهم کاهش قدرت خرید پول جامعه چیست؟
ت: رابطه قدرت خرید پول با چه چیزی یک رابطه **غیر مستقیم** است؟
ث: چرا گفته می شود قدرت خرید پول دستخوش تغییر است؟
ج: قدرت خرید پول جامعه وابسته به چیست؟

الف: تورم / ب: افزایش نقدینگی / پ: حجم زیاد پول نسبت به تولید جامعه / ت: حجم پول در گردش / ث: چون ارزش پول متناسب با رونق و شکوفایی اقتصادی، افزایش هماهنگ نداشته است. / قدرت موازنه پرداخت خارجی آن.
الف: تورم رکوردی / ب: افزایش نقدینگی / پ: نابرابری عرضه و تقاضای کل جامعه / ت: سطح عمومی قیمت ها / ث: چون ارزش پول متناسب با رونق و شکوفایی اقتصادی افزایش هماهنگ نداشته است. / ج: سطح عمومی قیمت ها
الف: تورم رکوردی / ب: سطح عمومی قیمت ها / پ: نابرابری عرضه و تقاضای کل جامعه / ت: حجم پول در گردش / ث: چون یک واحد پول نتوانسته ارزش خود را در طول زمان حفظ کند. / ج: قدرت موازنه پرداخت های خارجی
الف: تورم / ب: سطح عمومی قیمت ها / پ: حجم زیاد پول نسبت به تولید جامعه / ت: سطح عمومی قیمت ها / ث: چون یک واحد پول نتوانسته ارزش خود را در طول زمان حفظ کند / ج: سطح عمومی قیمت ها



- ۲) با کاهش قیمت ها و پدید آمدن تورم
- ۴) با کاهش قیمت ها و پدید آمدن رکود

۴۲. فزونی تقاضا بر عرضه چگونه بروز می کند؟

- ۱) با افزایش قیمت ها و پدید آمدن تورم
- ۳) با افزایش قیمت ها و پدید آمدن رکود

۴۳. در کشوری فرضی، در اخبار اعلام می شود **که در سال جاری با کاهش نرخ تورم مواجه شده ایم** این جمله به چه معناست؟

- ۲. با فزونی عرضه بر تقاضا مواجه شده ایم.
- ۴. شتاب افزایش قیمت ها کاهش یافته است.

- ۱) سطح عمومی قیمت ها کاهش یافته است.
- ۳) بیکاری به طور کامل رفع و رفاه مردم بیشتر شده است.

۴۴. هزینه سبد بازار در فروردین سال ۸۸ معادل ۱۰ میلیون تومان بوده و در فروردین سال ۸۹ به ۱۴ میلیون تومان رسید. شاخص قیمت مصرف کننده یا تورم در سال ۸۸ چند درصد رشد داشته است.

- ۱) ۴٪
- ۲) ۴۰٪
- ۳) ۰/۰۴٪
- ۴) ۱۰٪

۴۵. فرض کنید که هزینه سبد بازار در سال ۸۰ معادل ۱۰۰ واحد پولی باشد و شاخص قیمت مصرف کننده در سال های ۸۱، ۸۲ و ۸۳ به ترتیب ۲۰، ۲۵ و ۱۰ درصد باشد، در این شرایط، هزینه سبد بازار در سال ۸۲ چند واحد پولی خواهد بود؟

- ۱) ۱۲۵
- ۲) ۱۵۰
- ۳) ۱۲۰
- ۴) ۱۷۵



۴۶. هزینه سبد بازار در دو کشور انگلستان و چین در سال ۱۹۹۴ و ۱۹۹۵ میلادی به صورت جدول زیر بوده است. با توجه به این اطلاعات کدام گزینه در ارتباط با نرخ تورم در دو کشور مذکور درست است؟

هزینه سبد بازار در ابتدای سال ۱۹۹۵	هزینه سبد بازار در ابتدای سال ۱۹۹۴	
۷۰۰ پوند	۴۰۰ پوند	انگلستان
۶۰۰ یوان	۳۰۰۰ یوان	چین

- (۱) نرخ تورم در انگلستان کم تر از نرخ تورم در چین بوده است.
- (۲) نرخ تورم در انگلستان بیشتر از نرخ تورم در چین بوده است.
- (۳) نرخ تورم در دو کشور برابر بوده است.
- (۴) برای پاسخ به این سوال، باید نرخ تبدیل پوند به یوان را بدانیم.

۴۷. در جدول زیر هزینه سبد بازار در ابتدای سال جاری و ابتدای سال قبل مشخص برای سه کشور فرضی A، B و C آورده شده است. اگر نرخ تورم در هر سه کشور یکسان باشد:

- الف: هزینه سبد بازار در انتهای سال برای کشور B چند واحد پولی است؟
 ب: هزینه سبد بازار در ابتدای سال برای کشور C چند واحد پولی است؟
 پ: نرخ تورم در این کشورها چند درصد است؟

سطح عمومی قیمت ها در ابتدای سال جاری	سطح عمومی قیمت ها در ابتدای سال قبل	کشور
۷۰ واحد پولی	۵۰ واحد پولی	A
؟	۸۰ واحد پولی	B
۱۴۰ واحد پولی	؟	C

- (۱) الف: ۱۰۰ / ب: ۱۰۰ / پ: ۳۰
- (۲) الف: ۱۰۰ / ب: ۷۰ / پ: ۳۰
- (۳) الف: ۱۱۲ / ب: ۱۰۰ / پ: ۴۰
- (۴) الف: ۱۱۲ / ب: ۷۰ / پ: ۴۰

۴۸. در کشور فرضی هزینه سبد بازار در سال ۸۰ معادل ۱۰۰ واحد پولی باشد و شاخص قیمت مصرف کننده در سال های ۸۱ و ۸۲ به ترتیب ۲۰، ۲۵ و ۱۰ درصد باشد در این شرایط، هزینه سبد بازار در سال ۸۲ چند واحد پولی خواهد بود؟

۱۷۵(۴)

۱۲۰(۳)

۱۵۰(۲)

۱۲۵(۱)

۴۹. در کشور فرضی هزینه سبد بازار در سال قبل ۶۰،۰۰۰ تومان بوده و در سال جدید ۶۹،۰۰۰ تومان شده است. با فرض این که رشد نقدینگی ۷٪ باشد:

الف: در این جامعه رشد نقدینگی وجود دارد یا رشد تورم؟

ب: میزان تورم کالاها در این جامعه چقدر است؟

الف: رشد نقدینگی - ب: ۲۵٪ (۲) الف: رشد تورم - ب: ۱۵٪ (۳) الف: رشد نقدینگی - ب: ۱۰٪ (۴) الف: رشد تورم - ب: ۲۰٪

۵۰. جملات زیر را با حرف ص به نشانه صحیح بودن و حرف غ به نشانه غلط بودن مشخص کنید.

الف: نرخ تورم، درصد افزایش سالانه سطح عمومی قیمت هاست.

ب: وقتی می گوئیم تورم بیست درصدی داریم یعنی قدرت خرید ما هم ۲۰٪ افزایش یافته است.

پ: معمولا برای اندازه گیری تورم از شاخص قیمت مصرف کننده Cpi بهره می برند.

ت: دولت ها معمولا یک سبد بازار یعنی بسته ای از کالاهای گوناگون را که عموم مصرف کنندگان احتمالا خریداری می کنند در نظر می گیرند، سپس دولت هزینه این سبد بازار را در طول زمان رصد می کند.


ث: زمانی تورم زیان بار است که افزایش در سطح قیمت ها، بی رویه، پرنوسان و تدریجی باشد.

(۱) ص - غ - ص - غ - ص (۲) ص - غ - غ - ص - غ (۳) غ - ص - ص - ص - غ (۴) ص - ص - غ - غ - ص

۵۱. در کشوری فرضی تورم اتفاق افتاده است، دولت چگونه می تواند تا حدودی آن را کنترل کند؟

(۱) میزان عرضه کالا را افزایش دهد (۲) میزان تقاضا را با تزریق پول به جامعه بالا ببرد.

(۳) میزان عرضه کالا را با مقدار تقاضا هم سطح کند. (۴) مالیات سنگین بر واردات وضع کند تا عرضه کنترل شود.



۵۲. چند مورد از جملات زیر از پیامدهای تورم است؟

الف: بررفاه مردم وامنیت اقتصادی آن ها اثر منفی دارد.

ب: باعث بیکاری و فقر می شود.

پ: فضای کسب و کار بی ثبات می شود و تولید کنندگان نمی توانند پیش بینی درستی از آینده قیمت های بازار داشته باشند.

ت: به علت افزایش قیمت، تولید و فروش کالاها و در پی آن تقاضا، زیاد می شود.

ث: باعث کاهش قدرت خرید پول می شوند.

ج: باعث حرکت به بالای نقطه تعادل می شود پس رفاه عمومی را کاهش می دهد.

۴) پنج

۳) چهار

۲) سه

۱) دو

۵۳. دولت برای مقابله با تورم و کنترل آن چه سیاستی را می تواند بادر نظر گرفتن زمان به کار گیرد؟

۱) افزایش ظرفیت تولید

۲) افزایش میزان تقاضا

۳) کاهش سطح قیمت ها

۴) افزایش واردات

۵۴. کدام عامل می تواند موجب بروز تورم در کشور شود؟

۱) افزایش میزان صادرات کشور

۲) افزایش درآمدهای نفتی

۳) کاهش حجم نقدینگی کشور

۴) کاهش فروش اوراق مشارکت



۵۵. کدام گزینه نشان دهنده شرایط تورمی نیست؟

۱) زمانی که فزونی تقاضا بر عرضه به صورت افزایش قیمت ها بروز می کند.

۲) زمانی که سیاست پولی انبساطی اعمال می شود.

۲) هرگاه افزایش پول در جامعه با افزایش تولید هماهنگ نباشد.

۴) هرگاه بانک مرکزی حجم پول در گردش را کاهش دهد.



۵۶. با توجه به سیاست های پولی:

الف: این سیاست توسط کدام ارگان اعمال می شود؟
کنترل کرد؟

پ: در زمان رکود، چه سیاستی اعمال می شود؟

الف: دولت
ب: با افزایش حجم پول در گردش
و افزایش اشتغال زایی

الف: بانک مرکزی
ب: با کاهش حجم پول در گردش
و اشتغال زایی

الف: دولت
ب: با کاهش حجم پول در گردش
، افزایش انگیزه تولید و اشتغال زایی

الف: بانک مرکزی
ب: با افزایش حجم پول در گردش
و اشتغال زایی و کاهش بیکاری

ب: زمانی که جامعه ای دچار تورم می شود باید چگونه آن را

ت: در حالت رکود چه وضعیتی در جامعه رخ می دهد؟

پ: سیاست پولی انقباضی
ت: کاهش سطح تولید ، کاهش بیکاری ، کاهش انگیزه تولید

پ: سیاست پولی انبساطی
ت: کاهش سطح تولید ، افزایش بیکاری ، کاهش انگیزه تولید

پ: سیاست پولی انبساطی
ت: افزایش سطح تولید ، افزایش قیمت ها ، کاهش بیکاری

پ: سیاست پولی انقباضی
ت: افزایش سطح تولید ، افزایش قیمت ها ، افزایش انگیزه تولید

۵۷. زمانی که اقتصاد کشور دچار تورم می شود بانک مرکزی چه سیاستی را در پیش می گیرد و یکی از روش های اعمال این سیاست چیست؟

۱) سیاست کاهش حجم پول در گردش (سیاست پولی انبساطی) - فروش اوراق مشارکت

۲) سیاست کاهش حجم پول در گردش (سیاست پولی انقباضی) - فروش اوراق مشارکت

۳) سیاست افزایش حجم پول در گردش (سیاست پولی انبساطی) - خرید اوراق مشارکت

۴) سیاست افزایش حجم پول در گردش (سیاست پولی انقباضی) - خرید اوراق مشارکت

۵۸. زمانی که اقتصاد کشور دچار تورم می شود برای پیشگیری از افزایش قیمت ها یا کاهش شتاب آن در کوتاه مدت چه فعالیت هایی می توان انجام داد؟

۲) افزایش سطح تولید از طریق فروش اوراق مشارکت

۱) کاهش حجم پول در گردش از طریق اعمال سیاست پولی انقباضی

۴) افزایش حجم پول در گردش و افزایش انگیزه تولید کنندگان و ایجاد اشتغال

۳) کاهش سطح تولید و ایجاد اشتغال از طریق افزایش حجم پول

۵۸- با اعمال سیاست می تواند با از مقدار پول در دست مردم بکاهد.

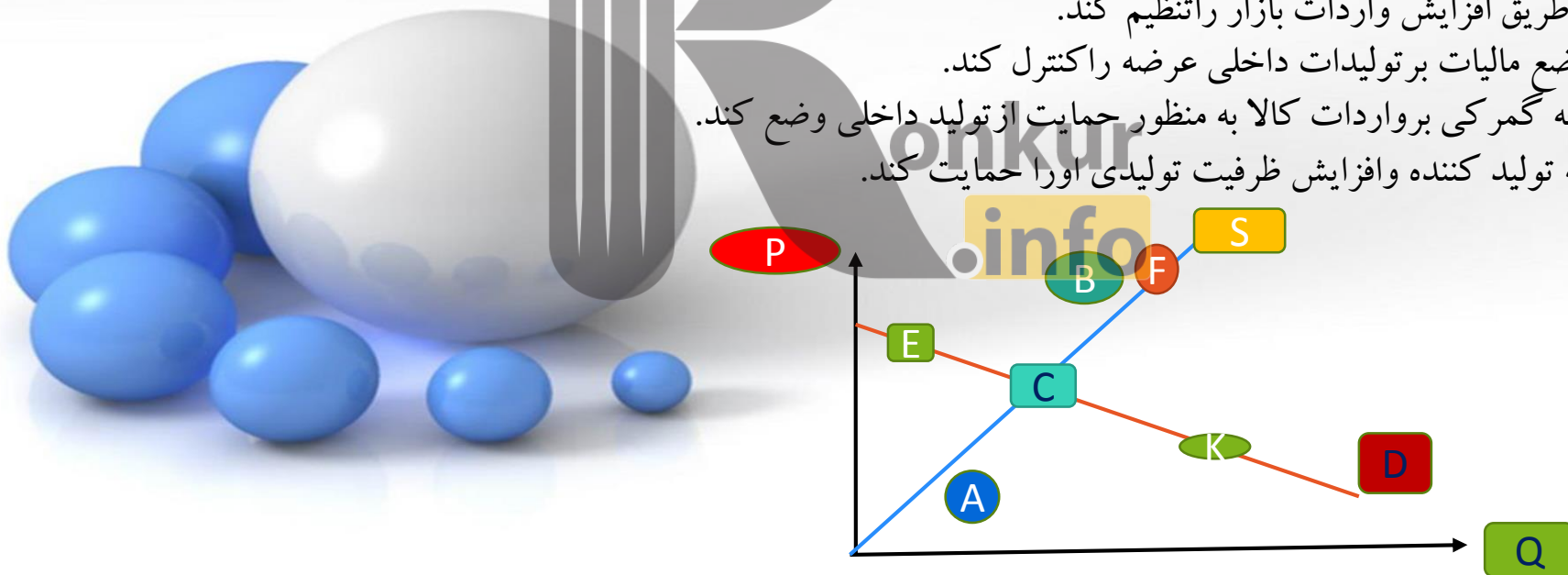
- (۱) مجمع عمومی بانک ها - بازار باز - خرید اوراق مشارکت
(۲) مجمع عمومی بانک ها - انبساطی پول - فروش اوراق مشارکت
(۳) بانک مرکزی - بازار باز - فروش اوراق مشارکت
(۴) بانک مرکزی - انبساطی پول - خرید اوراق مشارکت

۵۹. در جامعه ای فرضی بیکاری به شکل گسترده ای رواج یافته و تولید کنندگان انگیزه ای برای تولید ندارند و سطح تولید وهم چنین تقاضای کل در جامعه کاهش یافته ، باتوجه به این اوضاع دولت از طریق بانک مرکزی با اعمال چه سیاست پولی می تواند رونق را به بازار برگرداند؟

- (۱) سیاست پولی انبساطی - فروش اوراق مشارکت
(۲) سیاست پولی انقباضی - خرید اوراق مشارکت
(۳) سیاست پولی انبساطی - خرید اوراق مشارکت
(۴) سیاست پولی انقباضی - سیاست بازار باز

۶۰- در کدام نقطه ، کشور باتورم مواجه است و کدام گزینه راهکار بهتری برای رهایی از این شرایط است؟

- (۱) دولت می تواند از طریق افزایش واردات بازار را تنظیم کند.
(۲) دولت می تواند با وضع مالیات بر تولیدات داخلی عرضه را کنترل کند.
(۳) دولت می تواند تعرفه گمرکی بر واردات کالا به منظور حمایت از تولید داخلی وضع کند.
(۴) دولت با دادن یارانه به تولید کننده و افزایش ظرفیت تولیدی او را حمایت کند.



بروزترین و برترین
سایت کنکوری کشور

WWW.KONKUR.INFO

Konkur
.info

<https://konkur.info>