

بروزترین و برترین  
سایت کنکوری کشور

[WWW.KONKUR.INFO](http://WWW.KONKUR.INFO)

**K**onkur  
**.info**

<https://konkur.info>

## درس اول : آشنایی با منطق ریاضی

منطق ریاضی که عده ای آن را منطق نمادین نیز می گویند، دستور زبان ریاضی، یا مطالعه‌ی ساختار جمله‌هایی است که در ریاضی بکار برده می شود. این شاخه از ریاضیات به بررسی دقیق استدلال‌ها می پردازد و اعتبار یک استدلال را مشخص می کند. در این درس با مفاهیم اولیه‌ی منطق ریاضی آشنا می شویم.

### گزاره :

هر جمله‌ی خبری که درست یا نادرست باشد را **گزاره** می نامند. درستی یا نادرستی هر گزاره را ارزش گزاره گویند. اگر گزاره ای درست است، گویند ارزش این گزاره «درست» است و اگر گزاره ای نادرست باشد، گویند ارزش آن «نادرست» است. همچنین هر گزاره تنها دارای یکی از دو ارزش درست یا نادرست می باشد.

**مثال :** هر یک از جملات زیر گزاره هستند.

۱ : عدد  $\sqrt{2}$  یک عدد گنگ است.

۲ : توان دوم یک عدد همیشه از آن بزرگتر است.

۳ : مجموع زاویه‌های داخلی هر مثلث  $180$  درجه نیست.

۴ : بین هر دو عدد طبیعی متوالی، عدد طبیعی دیگری وجود ندارد.

که گزاره‌های ۱ و ۴ درست و گزاره‌های ۲ و ۳ نادرست می باشند.

**مثال :** هر یک از جملات زیر ، چون خبری نیستند، گزاره محسوب نمی شوند.

۱ : آیا عدد  $\pi$  یک عدد گویا است؟

۲ : معادله‌ی  $x^2 + 3x - 10 = 0$  را حل کن.

۳ : نامساوی مثلثی ، چه نامساوی مفیدی است!

توجه :

**الف:** چون گزاره باید، دقیقاً یکی از دو ارزش درست<sup>۱</sup> (صدق) یا نادرست<sup>۲</sup> (کذب) داشته باشد، لذا برای صحبت از صدق و کذب آن باید بار معنایی داشته باشد. در اینجا در مورد گزاره بودن یا نبودن جملات خبری

<sup>۱</sup> . True

<sup>۲</sup> . False

بدون بار معنایی صحبت نمی کنیم. برای مثال جمله‌های خبری زیر به دلیل نداشتن بار معنایی در مورد گزاره بودن یا نبودن آن صحبت نمی کنیم.

۱: درخت یک عدد زوج است. ۲: مربع بر مستطیل بخش پذیر است.

**ب:** جمله‌های خبری که نتوانیم ارزش آنها را تعیین کنیم، گزاره نیستند، برای مثال درستی یا نادرستی دو جمله‌ی نسبی است و گزاره محسوب نمی شوند.

۱: درس هندسه از درس حسابان آسان تر است. ۲: سیب قرمز از سیب زرد خوش مزه تر است.

**ج:** درستی یا نادرستی برخی گزاره‌ها ممکن است در حال حاضر مشخص نباشد و در آینده ارزش آنها معلوم می شود. برای مثال ارزش گزاره‌ی «آخرین پنجشنبه‌ی مهر هوا آلوده است.» روز پنجشنبه‌ی آخر مهر معلوم می شود.

**د:** یک گزاره نمی تواند هم درست و هم نادرست باشد و همچنین نمی تواند نه درست و نه نادرست باشد. لذا دقیقاً باید فقط یکی از این دو ارزش را داشته باشد. گر چه گاهی تعیین درستی یا نادرستی آن برای شخص مشکل باشد. برای مثال جمله‌ی خبری «صدمین رقم بعد از ممیز عدد  $\pi$  برابر ۵ است.» گزاره است و دقیقاً یکی از ارزش درست یا نادرست را دارد.

**ه:** لزومی ندارد که گزاره‌ها با یک زبان رسمی (مثلاً زبان فارسی) نوشته شوند. گاهی اوقات یک گزاره با نماد های ریاضی نوشته می شود.

**مثال:** هر یک از جملات زیر گزاره هستند.

$$1: \sqrt{2} \in (1,2) \quad 2: \sqrt{3} > 2 \quad 3: \frac{5}{\sqrt{5}} = \sqrt{5} \quad 4: (2+3) \times 4 = 25$$

که گزاره‌های ۱ و ۳ درست و گزاره‌های ۲ و ۴ نادرست می باشند.

**و:** در منطق ریاضی مرسوم است که گزاره‌ها را با یک حرف کوچک الفبای لاتین مانند  $p, q, r$  و ...

نامگذاری می کنند. این کار زمانی اهمیت پیدا می کند که همزمان با چند گزاره سروکار داشته باشیم.

برای مثال می نویسند:

$$p: 2 + 3 > 4$$

یا اینکه  $q$ : عدد ۵۳ بر ۹ بخش پذیر است.

**تمرین ۱:** از بین جملات زیر، گزاره ها را مشخص کنید و ارزش آنها را در صورت امکان تعیین کنید.

۱: ایران یک کشور آسیایی است.



۲: در پرتاب یک تاس، احتمال آنکه تاس مضرب ۳ بیاید، برابر  $\frac{1}{3}$  است.

۳: ای کاش می توانستم در یک هوای پاک زندگی کنم.

۴: آیا  $2 + 3$  برابر ۵ است؟

۵: هر عدد فرد بزرگتر از ۵ را می توان به صورت مجموع سه عدد اول نوشت.

۶: هر معادله‌ی درجه‌ی دوم دو ریشه‌ی حقیقی متمایز دارد.

۷: پنجمین رقم بعد از ممیز عدد  $\pi$  برابر ۹ است.

\*\*\*

**نقیض گزاره:** اگر ضمن حفظ موضوعیت و ارتباط، یک گزاره چنان تغییر کند که ارزش آن تغییر کند،

گویند **نقیض گزاره** نوشته شده است. نقیض یک گزاره‌ی درست، گزاره‌ی نادرست و نقیض یک گزاره‌ی

نادرست، گزاره‌ی درست می باشد. در واقع ارزش نقیض یک گزاره دقیقاً مخالف آن گزاره است.

**تمرین ۲:** ارزش گزاره‌ی زیر را بنویسید و سپس گزاره‌ی نقیض آن را بنویسید.

« عدد  $\sqrt{5}$  عددی گنگ است. »

**حل:** این گزاره درست است و هر یک از گزاره‌های زیر نقیض آن محسوب می شوند.

الف: « عدد  $\sqrt{5}$  عددی گنگ نیست. »

ب: « عدد  $\sqrt{5}$  عددی گویا است. »

ج: « چنین نیست که عدد  $\sqrt{5}$  عددی گنگ باشد. »

**توجه:** نقیض گزاره‌ی  $p$  را به صورت  $\sim p$  نمایش می دهند.

$p$	$\sim p$
د	ن
ن	د

## تمرین برای حل :

۳: نقیض هر یک از گزاره های زیر را بنویسید.

الف: مجموع زاویه های داخلی هر مثلث ۱۸۰ درجه نیست.

ب: دو قطر لوزی بر هم عمودند.

۴: نقیض نقیض گزاره ی زیر را بنویسید. سپس ارزش آن را تعیین کنید.

عدد ۵ عدد اول است.

\*\*\*

## گزاره های هم ارز

اگر دو گزاره ی  $p$  و  $q$  هم ارزش باشند، گوییم این دو گزاره هم ارز (معادل) هستند و می نویسیم:

$$p \equiv q$$

برای مثال همانطور که حدس می زنید، نقیض نقیض هر گزاره با خود آن گزاره هم ارز است. لذا

$$p \equiv \sim(\sim p)$$

به جدول زیر نیز توجه کنید، که مؤید این موضوع نیز می باشد.

$p$	$\sim p$	$\sim(\sim p)$
د	ن	د
ن	د	ن

\*\*\*

## جدول ارزش گزاره ها

هر گزاره دارای دو حالت ارزشی « درست یا نادرست » است. اما وقتی دو یا چند گزاره با هم در نظر گرفته

شوند، تعداد حالت های ارزشی آنها بیشتر می شوند. به جداول زیر توجه کنید.

الف: تعداد حالت های ارزشی یک گزاره

$p$
د
ن

ب : تعداد حالت های ارزشی دو گزاره

$p$	$q$
د	د
د	ن
ن	د
ن	ن

ج : تعداد حالت های ارزشی سه گزاره

$p$	$q$	$r$
د	د	د
د	د	ن
د	ن	د
د	ن	ن
ن	د	د
ن	د	ن
ن	ن	د
ن	ن	ن

**تمرین ۵ :** تعیین کنید که جدول ارزشی چهار گزاره چند حالت دارد؟ چرا؟

**تمرین ۶ :** ثابت کنید، جدول ارزشی  $n$  گزاره دارای  $2^n$  حالت است.

\*\*\*

**گزاره های مرکب :** هر گزاره می تواند تنها یک خبر را اعلام کند که به آن گزاره ی ساده نیز می گویند.

ممکن است گزاره ای بیش از یک خبر را اعلام کند و ترکیبی از دو یا چند گزاره ی ساده باشد، چنین گزاره هایی را گزاره ی مرکب می گویند.

برای مثال گزاره ی زیر یک گزاره ی مرکب است.

« عدد ۵ اول است و عدد ۷ مرکب است.»

همانطور که معلوم است این گزاره از دو گزاره ی ساده تشکیل شده است که با حرف رابط « و » به هم متصل شده اند. گزاره ی اول درست ولی گزاره ی دوم نادرست می باشد. کل گزاره نیز نادرست محسوب می شود.

در واقع از ترکیب گزاره ها با رابط های گزاره ای، موسوم به ادات ربط مانند، « و ، یا ، اگر ... آنگاه ، اگر و تنها اگر » و غیره « انجام می گیرد و ارزش گزاره ی مرکب نیز با توجه به نوع ترکیب آنها بستگی به گزاره های ساده ی تشکیل دهنده ی آن است. در این جا گزاره ها به چهار صورت ترکیب می کنیم.

**الف : ترکیب عطفی دو گزاره :** ترکیب دو گزاره با حرف ربط « و » را **ترکیب عطفی** می نامند.

مثال : « عدد ۱۵ مرکب است و عدد  $\sqrt{5}$  گنگ است.»

اگر  $p$  و  $q$  دو گزاره ی ساده باشند، ترکیب عطفی آنها به صورت  $p \wedge q$  نمایش می دهند و می خوانند  $p$  و  $q$ . ترکیب عطفی دو گزاره وقتی درست است که هر دو گزاره ی تشکیل دهنده ی آن درست باشند. به جدول زیر توجه کنید.

$p$	$q$	$p \wedge q$
د	د	د
د	ن	ن
ن	د	ن
ن	ن	ن

**مثال :** گزاره ی مرکب « عدد ۱۵ مرکب است و عدد  $\sqrt{5}$  گنگ است.» درست است زیرا هر دو گزاره ی تشکیل دهنده آن یعنی « عدد ۱۵ مرکب است.» و « عدد  $\sqrt{5}$  گنگ است.» هر دو درست می باشند.

**مثال :** گزاره ی مرکب « عدد ۱۵ مربع کامل است و عدد  $\sqrt{5}$  گنگ است.» نادرست است. زیرا گزاره ی « عدد ۱۵ مربع کامل است.» نادرست و گزاره ی « عدد  $\sqrt{5}$  گنگ است.» درست است.

**تمرین ۷ :** درستی یا نادرستی گزاره های مرکب زیر را تعیین کنید.

الف : شهریور ششمین ماه سال است و شهریور ۳۱ روز است.

ب : ۲ عددی زوج است و  $\pi$  عدد گویا است.

ج :  $3 \leq 4$  و  $\sqrt{16+9} = \sqrt{25}$

د : بغداد پایتخت کویت است و تهران پایتخت ایران است.

ه : ابوالوفای بوزجانی ریاضی دان آلمانی نیست و گاوس ریاضی دان ایرانی است.

**تمرین ۸:** جاهای خالی جدول زیر با توجه به ارزش گزاره ها را با یک گزاره‌ی ساده کامل کنید.

ارزش گزاره	گزاره	ردیف
$T$	..... هفته هفت روز دارد و .....	۱
$F$	..... قرآن دارای ۳۰ جزء است و .....	۲
$F$	..... خیام پزشک ایرانی است و .....	۳
$F$	..... و عدد ۱۹۱۷ عددی اول است.	۴

**ب: ترکیب فصلی دو گزاره:** ترکیب دو گزاره با حرف ربط «یا» را **ترکیب فصلی** می نامند.

مثال: «عدد ۱۵ فرد است یا عدد ۱۲ مضرب ۳ است.»

اگر  $p$  و  $q$  دو گزاره‌ی ساده باشند، ترکیب فصلی آنها به صورت  $p \vee q$  نمایش می دهند و می خوانند  $p$  یا  $q$ . ترکیب فصلی دو گزاره وقتی درست است که حداقل یکی از دو گزاره‌ی تشکیل دهنده‌ی آن درست باشند. به جدول زیر توجه کنید.

$p$	$q$	$p \vee q$
د	د	د
د	ن	د
ن	د	د
ن	ن	ن

**مثال:** گزاره‌ی مرکب «عدد ۱۵ فرد است یا عدد ۱۲ مضرب ۳ است.» درست است. زیرا هر دو گزاره‌ی

تشکیل دهنده آن یعنی «عدد ۱۵ فرد است.» و «عدد ۱۲ مضرب ۳ است.» هر دو درست می باشند.

**مثال:** گزاره‌ی مرکب «عدد ۱۲ مضرب ۳ است یا عدد ۱۲ مضرب ۷ است.» درست است. زیرا یکی از گزاره

های تشکیل دهنده‌ی آن «یعنی عدد ۱۲ مضرب ۳ است.» درست می باشد.

**مثال:** گزاره‌ی مرکب «عدد ۱۲ مضرب ۷ است یا عدد ۱۲ مضرب ۵ است.» نادرست است. زیرا هر دو گزاره

ی تشکیل دهنده‌ی آن نادرست می باشند.



**تمرین ۹:** درستی یا نادرستی گزاره های مرکب زیر را تعیین کنید.

الف : دومین عدد اول ۳ است یا ۲۳ عدد زوج است.

ب : ۲ عددی زوج است یا  $\pi$  عدد گنگ است.

ج :  $\sqrt{2} \in Z$  یا  $4 \leq 3$

**تمرین ۱۰:** جاهای خالی جدول زیر با توجه به ارزش گزاره ها را با یک گزاره ی ساده کامل کنید.

ارزش گزاره	گزاره	ردیف
$T$	..... هفته هفت روز دارد یا .....	۱
$F$	..... خورشید دور زمین می چرخد یا .....	۲
$T$	..... زکریای رازی کاشف الکل است یا .....	۳
$F$	..... یا عدد ۱۷ عددی اول نیست.	۴

**ج : ترکیب شرطی دو گزاره :** ترکیب دو گزاره با حرف ربط « اگر ... آنگاه ... » را **ترکیب شرطی**

می نامند.

مثال : « اگر  $3 < 5$  آنگاه  $\frac{1}{3} > \frac{1}{5}$  است. »

اگر  $p$  و  $q$  دو گزاره ی ساده باشند، ترکیب شرطی آنها به صورت  $p \Rightarrow q$  نمایش می دهند و به یکی از

صورت های زیر می خوانند :

- اگر  $p$  آنگاه  $q$
- $p$  شرط کافی برای  $q$  است.
- $p$  نتیجه می دهند  $q$  را
- $q$  شرط لازم برای  $p$  است.
- $q$  از  $p$  نتیجه می شود.

در ترکیب شرطی دو گزاره به صورت  $p \Rightarrow q$ ، گزاره ی  $p$  را مقدم (فرض) و گزاره ی  $q$  را تالی (حکم) می

نامند. ترکیب شرطی دو گزاره وقتی نادرست است که مقدم درست و تالی نادرست باشد. به جدول زیر توجه

کنید.

$p$	$q$	$p \Rightarrow q$
د	د	د
د	ن	ن
ن	د	د
ن	ن	د

**مثال :** گزاره‌ی مرکب « اگر عدد ۱۵ فرد است **آنگاه** عدد ۱۲ مضرب ۳ است.» درست است. زیرا هم مقدم و هم تالی درست می باشند.

**مثال :** گزاره‌ی مرکب « اگر عدد ۱۲ مضرب ۳ است **آنگاه** عدد ۱۲ مضرب ۷ است.» نادرست است. زیرا مقدم درست ولی تالی نادرست می باشد.

**تمرین ۱۱ :** درستی یا نادرستی گزاره های مرکب زیر را تعیین کنید.

الف : اگر عدد ۴ فرد باشد **آنگاه** ۴ مربع کامل نیست.

ب : اگر ۱۲ عددی زوج است **آنگاه**  $\pi$  عدد گنگ است.

ج : اگر  $\sqrt{5} \in Z$  **آنگاه**  $4 \geq 5$

د : اگر ایران یک کشور آسیایی است **آنگاه** ژاپن همسایه‌ی شرقی آن است.

**تمرین ۱۲ :** جاهای خالی جدول زیر با توجه به ارزش گزاره ها را با یک گزاره‌ی ساده کامل کنید.

ردیف	گزاره	ارزش گزاره
۱	اگر ..... <b>آنگاه</b> .....	$T$
۲	اگر ..... <b>آنگاه</b> .....	$F$
۳	اگر ..... <b>آنگاه</b> ۹۹ عددی اول است.	$F$
۴	اگر ..... <b>آنگاه</b> $5^2 + 8$ عددی اول باشد.	$F$

**توجه :** همانطور که متوجه شدید، در یک ترکیب شرطی دو گزاره اگر مقدم نادرست باشد، تالی هر ارزشی داشته باشد، گزاره‌ی مرکب درست است. این حالت را در اصطلاح **انتفای مقدم** می نامند. برای مثال گزاره-ی مرکب زیر بنا به انتفای مقدم همواره درست است، گرچه ما از ارزش تالی آن خبر نداریم.

**اگر ۲ عددی فرد باشد، **آنگاه** .....**

**د : ترکیب دو شرطی دو گزاره :** ترکیب دو گزاره با حروف ربط « اگر .... **آنگاه** .... و برعکس» یا « ....

اگر و فقط اگر ..... » یا « .... شرط لازم و کافی است برای ..... » را **ترکیب دوشروطی** می نامند

مثال : « اگر  $3 < 5$  **آنگاه**  $\frac{1}{3} > \frac{1}{5}$  است و برعکس»

مثال : « یک مثلث قائم الزاویه است اگر و تنها اگر زاویه‌ی قائمه داشته باشد. »

مثال : « شرط لازم و کافی برای زوج بودن یک عدد طبیعی آن است که بر ۲ بخش پذیر باشد. »

اگر  $p$  و  $q$  دو گزاره‌ی ساده باشند، ترکیب دوشروطی آنها به صورت  $p \Leftrightarrow q$  نمایش می‌دهند و به یکی از صورت‌های زیر می‌خوانند:

- اگر  $p$  آنگاه  $q$  و برعکس
- $p$  اگر و تنها اگر  $q$
- $p$  شرط لازم و کافی است برای  $q$

ترکیب دوشروطی دو گزاره وقتی درست است که هر دو گزاره‌ی تشکیل دهنده‌ی آن درست یا هر دو نادرست باشند. به جدول زیر توجه کنید.

$p$	$q$	$p \Leftrightarrow q$
د	د	د
د	ن	ن
ن	د	ن
ن	ن	د

**مثال:** گزاره‌ی مرکب «اگر عدد ۱۵ فرد است آنگاه عدد ۱۲ مضرب ۷ است و برعکس» نادرست است. زیرا یکی از گزاره‌های تشکیل دهنده‌ی آن درست و دیگری نادرست است.

**تمرین ۱۳:** درستی یا نادرستی گزاره‌های مرکب زیر را تعیین کنید.

الف: اگر عدد ۴ فرد باشد آنگاه ۴ مربع کامل است و برعکس.

ب:  $\sqrt{2}$  عددی گویا است اگر و تنها اگر  $\pi$  عدد گویا باشد.

ج: شرط لازم و کافی برای اینکه ۵ عددی فرد باشد، آن است بر ۲ بخش پذیر نباشد.

**تمرین ۱۴:** جاهای خالی جدول زیر با توجه به ارزش گزاره‌ها را با یک گزاره‌ی ساده کامل کنید.

ارزش گزاره	گزاره	ردیف
$T$	..... اگر و تنها اگر ۱۱۹ عددی مرکب باشد.	۱
$F$	..... آنگاه ..... و برعکس.	۲
$F$	..... آنگاه ۲ مربع کامل است و برعکس	۳
$F$	..... آنگاه $۵^2 + ۸$ عددی مرکب است و برعکس	۴

**تمرین ۱۵:** جدول ارزشی گزاره‌ی مرکب مقابل را تشکیل دهید.  $\sim q \vee p$

**توجه:** در تشکیل یک جدول ارزشی ستون‌های زیر به ترتیب لازم است.  
 الف: گزاره‌های ساده  
 ب: نقیض گزاره‌های ساده (در صورت لزوم)  
 ج: ترکیب‌های درون پرانتزی  
 د: نقیض گزاره‌های درون پرانتزی (در صورت لزوم)  
 هـ: ترکیب‌های بیرون پرانتزی

**حل:** تعداد گزاره‌ها ۲ تا می‌باشند. لذا جدول دارای ۴ حالت می‌باشد.

$p$	$q$	$\sim q$	$\sim q \vee p$
د	د	ن	د
د	ن	د	د
ن	د	ن	ن
ن	ن	د	د

**تمرین ۱۶:** جدول ارزشی گزاره‌ی مرکب مقابل را تشکیل دهید.  $(\sim q \wedge p) \Rightarrow q$

**تمرین ۱۷:** جدول ارزشی برای گزاره‌ی مرکب زیر تشکیل دهید.

$$(p \wedge q) \Rightarrow (\sim q \vee p)$$

**حل:** تعداد گزاره‌ها ۲ تا می‌باشند. لذا جدول دارای ۴ حالت می‌باشد.

$p$	$q$	$p \wedge q$	$\sim q$	$\sim q \vee p$	$(p \wedge q) \Rightarrow (\sim q \vee p)$
د	د	د	ن	د	د
د	ن	ن	د	د	د
ن	د	ن	ن	ن	د
ن	ن	ن	د	د	د

**تمرین ۱۸:** جدول ارزشی گزاره‌ی مرکب مقابل را تشکیل دهید.  $(\sim q \wedge \sim p) \vee r$

**تمرین ۱۹:** با تشکیل جدول ارزشی ثابت کنید که:

$$p \Leftrightarrow q \equiv (p \Rightarrow q) \wedge (q \Rightarrow p)$$

**حل:** تعداد گزاره‌ها ۲ تا می‌باشند. لذا جدول دارای ۴ حالت می‌باشد.

$p$	$q$	$p \Leftrightarrow q$	$p \Rightarrow q$	$q \Rightarrow p$	$(p \Rightarrow q) \wedge (q \Rightarrow p)$
د	د	د	د	د	د
د	ن	ن	ن	د	ن
ن	د	ن	د	ن	ن
ن	ن	د	د	د	د

لذا:

$$p \Leftrightarrow q \equiv (p \Rightarrow q) \wedge (q \Rightarrow p)$$

**تمرین ۲۰:** اگر  $p$  گزاره ای درست و  $q$  گزاره ای نادرست و  $r$  گزاره ای دلخواه باشد. مانند نمونه‌ی حل شده و بدون تشکیل جدول، ارزش هر یک از گزاره‌های مرکب زیر را تعیین کنید.

۱)  $(p \vee q) \vee r$

۵)  $(p \wedge q) \Leftrightarrow (p \vee q)$

۲)  $(p \vee q) \wedge (\sim q)$

۶)  $(\sim p \vee q) \Leftrightarrow (p \Rightarrow q)$

۳)  $(p \Rightarrow q) \wedge r$

۷)  $(\sim p \vee \sim q) \Leftrightarrow \sim (p \vee q)$

۴)  $(p \Leftrightarrow q) \wedge r$

۸)  $(q \Rightarrow p) \wedge r$

حل ۱:

$$\begin{cases} p \equiv T \\ q \equiv F \end{cases} \rightarrow (p \vee q) \equiv T \rightarrow (p \vee q) \vee r \equiv T$$

**تمرین برای حل:**

**۲۱:** درستی یا نادرستی گزاره‌های مرکب زیر را تعیین کنید.

الف:  $1 + 10^2$  عددی اول است یا  $28 = 4!$

ب: همه‌ی اعداد اول فرد هستند و همه‌ی اعداد زوج مرکب هستند.

پ: اگر ۲ تنها عدد زوج و اول باشد، آنگاه  $\binom{5}{2} = 10$

ت: اگر  $5 = \sqrt{16}$ ، آنگاه  $3 = 2 + 1$

ث: اگر ۱۵ زوج باشد آنگاه ۱۶ فرد است و برعکس

ج: اگر ۵ عددی اول و ۱۲ فرد باشد، آنگاه ۱۵ مربع کامل نمی باشد.

**۲۲:** با تشکیل جدول ارزشی هم ارزی زیر را ثابت کنید.

$$\sim (p \Rightarrow q) \equiv p \wedge \sim q$$

**۲۳:** با تشکیل جدول ارزشی ثابت کنید که گزاره‌های زیر همیشه درست می باشند.

الف)  $(p \wedge q) \Rightarrow p$

ج)  $(p \wedge q) \Rightarrow (p \vee q)$

ب)  $p \Rightarrow (p \vee q)$

د)  $[\sim q \wedge (p \Rightarrow q)] \Rightarrow \sim p$

۲۴: با تشکیل جدول ارزشی هر یک از موارد زیر را ثابت کنید.

الف)  $p \Rightarrow q \equiv \sim p \vee q$

هـ)  $\sim (p \vee q) \equiv \sim p \wedge \sim q$

ب)  $p \Rightarrow q \equiv \sim q \Rightarrow \sim p$

و)  $\sim (p \Leftrightarrow q) \equiv \sim p \Leftrightarrow q$

ج)  $\sim (p \Rightarrow q) \equiv p \wedge \sim q$

ز)  $p \vee (p \wedge q) \equiv p$

د)  $\sim (p \wedge q) \equiv \sim p \vee \sim q$

ح)  $p \Leftrightarrow q \equiv \sim p \Leftrightarrow \sim q$

توجه:

۱: برخی گزاره های مرکب نظیر  $p \Rightarrow p$  یا  $p \vee \sim p$  همیشه درست و برخی دیگر نظیر  $p \wedge \sim p$

همیشه نادرست می باشند. در این صورت می نویسند:

$(p \vee \sim p) \equiv T$

$(p \Rightarrow p) \equiv T$

$(p \wedge \sim p) \equiv F$

۲: برای هر دو گزاره  $p$  و  $q$  همواره داریم.

الف)  $\sim (p \wedge q) \equiv \sim p \vee \sim q$

ب)  $\sim (p \vee q) \equiv \sim p \wedge \sim q$

این دو هم ارزی منطقی را قوانین دمورگان می نامند.

۳: برای هر دو گزاره  $p$  و  $q$  همواره داریم.

الف)  $p \vee (p \wedge q) \equiv p$

ب)  $p \wedge (p \vee q) \equiv p$

این دو هم ارزی منطقی را قوانین جذب می نامند.

۴: اگر  $p$  و  $q$  و  $r$  سه گزاره دلخواه باشند، قوانین نیز را می توان برای این گزاره ها بیان کرد.

الف) قوانین جا به جایی (تعویض پذیری)

$p \wedge q \equiv q \wedge p$

$p \vee q \equiv q \vee p$

ب) قوانین شرکت پذیری (انجمنی)

$(p \wedge q) \wedge r \equiv p \wedge (q \wedge r)$

$$(p \vee q) \vee r \equiv p \vee (q \vee r)$$

ج) قوانین توزیع پذیری (پخششی)

$$p \wedge (q \vee r) \equiv (p \wedge q) \vee (p \wedge r)$$

$$p \vee (q \wedge r) \equiv (p \vee q) \wedge (p \vee r)$$

در زیر یکی از قوانین اثبات شده است. اثبات دیگر قوانین را فراگیران محترم واگذار می کنیم.

$p$	$q$	$r$	$q \vee r$	$p \wedge q$	$p \wedge r$	$p \wedge (q \vee r)$	$(p \wedge q) \vee (p \wedge r)$
د	د	د	د	د	د	د	د
د	د	ن	د	د	ن	د	د
د	ن	د	د	ن	د	د	د
د	ن	ن	ن	ن	ن	ن	ن
ن	د	د	د	ن	ن	ن	ن
ن	د	ن	د	ن	ن	ن	ن
ن	ن	د	د	ن	ن	ن	ن
ن	ن	ن	ن	ن	ن	ن	ن

۵: گزاره  $p \Rightarrow q$  عکس ترکیب شرطی  $p \Rightarrow q$  نامیده می شود. همچنین گزاره  $\sim p \Rightarrow \sim q$  را

عکس نقیض ترکیب شرطی  $p \Rightarrow q$  گفته می شود. همانطور که در تمرین های قبل مشاهده کردید:

$$p \Rightarrow q \equiv \sim q \Rightarrow \sim p$$

\*\*\*

### هم ارزی های اساسی گزاره های مرکب

همانطور که تاکنون مشاهده کردید، هم ارزی های بین گزاره های مرکب متعدد اند. در این قسمت به چند

مورد مهم آنها اشاره می کنیم.

$$۱) \sim(\sim p) \equiv p$$

$$۶) p \Rightarrow q \equiv \sim q \Rightarrow \sim p$$

$$۲) \sim(p \wedge q) \equiv \sim p \vee \sim q$$

$$۷) p \Leftrightarrow q \equiv \sim p \Leftrightarrow \sim q$$

$$۳) \sim(p \vee q) \equiv \sim p \wedge \sim q$$

$$۸) p \Leftrightarrow q \equiv (p \Rightarrow q) \wedge (q \Rightarrow p)$$

$$۴) \sim(p \Rightarrow q) \equiv p \wedge \sim q$$

$$۹) p \wedge (p \vee q) \equiv p$$

$$۵) \sim(p \Leftrightarrow q) \equiv \sim p \Leftrightarrow q$$

$$۱۰) p \vee (p \wedge q) \equiv p$$

۶: به کمک هم ارزی های اساسی و بدون تشکیل جدول، می توان برخی دیگر از هم ارزی های گزاره ای را ثابت کرد.

**مثال:** بدون تشکیل جدول هم ارزی ثابت کنید که

$$p \Rightarrow q \equiv \sim p \vee q$$

حل:

$$p \Rightarrow q \equiv \sim (\sim (p \Rightarrow q)) \equiv \sim (p \wedge \sim q) \equiv \sim p \vee q$$

**تمرین ۲۵:** بدون تشکیل جدول هم ارزی های زیر را ثابت کنید.

الف)  $\sim (p \vee (\sim q)) \equiv \sim (q \Rightarrow p)$

ب)  $\sim (p \Rightarrow (\sim q)) \equiv p \wedge q$

ج)  $p \wedge (\sim p \vee q) \equiv p \wedge q$

د)  $p \vee (\sim p \wedge q) \equiv p \vee q$

**تمرین ۲۶:** بدون تشکیل جدول هم ارزی، ارزش گزاره‌ی مرکب زیر را تعیین کنید.

$$\sim ((p \Rightarrow q) \vee \sim q)$$

۷: هر ترکیب دو شرطی همیشه درست از دو گزاره، با معادل بودن آنها یکی است. پس اگر دو گزاره‌ی  $p$  و  $q$  معادل باشند، ارزش  $p \Leftrightarrow q$  درست است و اگر  $p \Leftrightarrow q$  درست باشد، دو گزاره‌ی تشکیل دهنده‌ی آن یعنی  $p$  و  $q$  معادل هستند. همچنین اگر دو گزاره‌ی  $p$  و  $q$  معادل نباشند، در این صورت  $p \Leftrightarrow q$  درست نیست.

**تمرین ۲۷:** ارزش هر یک از گزاره های دو شرطی زیر درست است. جای خالی را در هر مورد کامل کنید.

الف) اگر ..... ، آنگاه برف سیاه است و برعکس

ب) اگر  $\pi$  عددی گنگ باشد، آنگاه ..... و برعکس

**تمرین ۲۸:** گزاره‌ی دو شرطی زیر نادرست است. جای خالی را در هر مورد کامل کنید.

اگر ..... ، آنگاه ..... و برعکس



▲: قواعد و قوانین مربوط به جبر گزاره ها، مبانی اولیه استدلال هستند. این قواعد و قوانین برای استدلال در

کلیه شاخه های ریاضیات مورد استفاده قرار می گیرند. برای مثال هم ارزی  $p \Rightarrow q \equiv \sim q \Rightarrow \sim p$  نشان می دهد که اگر بخواهیم از گزاره  $p$  گزاره  $q$  را نتیجه بگیریم، می توان به جای آن ( و شاید به جهت سهولت کار ) نقیض  $p$  را از نقیض  $q$  نتیجه بگیریم. به مثال زیر توجه کنید:

**مثال:** ثابت کنید که اگر  $a \in Z$  و  $a^2$  عددی فرد باشد، آنگاه  $a$  عددی فرد است.

اثبات: برای سادگی به جای اثبات این حکم، معادل آن یعنی عکس نقیض آن را ثابت می کنیم. عکس نقیض این گزاره به صورت زیر است.

اگر  $a \in Z$  و  $a$  عددی زوج باشد، آنگاه  $a^2$  عددی زوج است.

در فرض جدید ( فرض خلف ) عدد صحیح  $a$  زوج در نظر گرفته شده است. لذا وجود دارد عدد صحیح  $k$  بطوری که :

$$a = 2k$$

در نتیجه :

$$a^2 = (2k)^2 = 4k^2 = 2k'$$

یعنی  $a^2$  عددی زوج است.

**تمرین ۲۹:** ثابت کنید که هرگاه  $n$  عددی صحیح و  $n^2$  مضرب ۳ باشد، آنگاه  $n$  نیز مضرب ۳ است.

\*\*\*

**گزاره نما:** گاهی اوقات یک جمله‌ی خبری مانند نمونه‌های زیر شامل یک یا چند متغیر است و به ازاء قرار

دادن مقادیر مختلف به جای متغیر آن تبدیل به یک گزاره می‌شود، چنین جملاتی را گزاره نما می‌نامند. در

واقع بدون قرار دادن مقدار به جای متغیر نمی‌توان در مورد درستی یا نادرستی گزاره نما قضاوت کرد.

مثال:

الف:  $x$  یک عدد اول است.      ب: فلانی امروز غایب است.

ج: فلان برادر بهمان است.      د:  $x + y = 5$

$$\text{ه: } \frac{x+y}{2} \geq \sqrt{xy}$$

مجموعه‌ی تمام اعضای که به جای متغیر گزاره نما جایگزین شوند و گزاره نما را به یک گزاره تبدیل کنند، را دامنه‌ی متغیر گزاره نما می‌نامند.

زیر مجموعه‌ای از دامنه‌ی متغیر که اگر اعضای آنرا به جای متغیر گزاره نما جایگزین کنیم گزاره نما را به یک گزاره‌ی درست تبدیل کند را مجموعه‌ی جواب گزاره نما می‌نامند.

مثال: جمله‌ی خبری  $\sqrt{x} \geq 3$  یک گزاره نما است.

دامنه‌ی متغیر این گزاره نما  $D = \{x \mid x \in R, x \geq 0\}$  ولی مجموعه‌ی جواب این گزاره نما مجموعه‌ی

$$S = \{x \mid x \in R, x \geq 9\} \text{ می‌باشد. توجه داشته باشیم که برای هر گزاره نما داریم: } S \subseteq D$$

**تمرین ۳۰:** دامنه‌ی متغیر گزاره نما‌های زیر داده شده است. مجموعه‌ی جواب هر یک را مشخص کنید.

الف)  $x$  مضرب ۷ است. ( $D = Z$ )

$$\text{ب) } (D = R) \quad 15x^2 - 7x - 8 = 0$$

$$\text{ج) تاس را پرتاب می‌کنیم و } P(x) = \frac{1}{6} \quad (D = \{1, 2, 3, 4, 5, 6\})$$

**تمرین ۳۱:** دامنه‌ی متغیر هر یک از گزاره نماهای زیر، مجموعه‌ای اعداد صحیح است. مجموعه‌ی جواب

هر یک را بنویسید.

$$\text{الف) } x \text{ مربع کامل است.} \quad \text{ج) } \frac{2x+1}{3} \leq -1$$

$$\text{ب) } a \text{ یک واحد از مضرب ۵ بیشتر است.} \quad \text{د) } \{n(n+1) = 0 \mid n \in W\}$$

مشابه نقیض گزاره ، برای گزاره نما هم می توان نقیض نوشت. به مثال زیر توجه کنید.

گزاره نما :  $a$  عددی فرد است.

نقیض گزاره نما :  $a$  عددی زوج است.

توجه داشته باشد که اگر به ازای مقداری برای متغیر ، یک گزاره نما تبدیل به یک گزاره‌ی درست شود، به

ازای این مقدار نقیض گزاره نما ، تبدیل به یک گزاره‌ی نادرست می شود و برعکس

**تمرین ۳۲:** نقیض گزاره نما‌ی زیر را بنویسید.

« عدد  $a$  از  $b$  بزرگتر است. »

حل : هر یک از گزاره نما‌ی های زیر نقیض گزاره نما‌ی فوق محسوب می شوند.

الف : « عدد  $a$  از  $b$  بزرگتر نیست. »

ب : « عدد  $a$  کوچکتر یا مساوی  $b$  است. »

ج : « چنین نیست که عدد  $a$  از  $b$  بزرگتر باشد. »

**تمرین ۳۳:** نقیض گزاره نما‌ی زیر را بنویسید.

الف )  $x^2 - 1 = 0$

ب )  $x > 5$



## سورها

الفاظ و کلماتی از قبیل « به ازای هر»، « همواره»، « به ازای بعضی مقادیر» یا « هیچ مقدار » و... که به ابتدای یک گزاره نما ( عبارت شامل متغیر) اضافه شده و آن را تبدیل به یک گزاره می کنند را **سور**<sup>۳</sup> می نامند. گزاره های زیر همگی شامل سور می باشند.

- همه ی دانش آموزان کلاس سال گذشته قبول شده اند.
- همه ی اعداد اول فرد هستند.
- مربع بعضی از اعداد حقیقی از خودشان کوچکترند.
- هیچ عدد صحیح منفی بزرگتر از ۵ وجود ندارد.
- هر دو زاویه ی متقابل به رأس مساویند.
- فقط یک عدد زوج وجود دارد که اول می باشد.

در این قسمت سه نماد رایج برای سورها در ریاضیات را معرفی می کنیم.

**سور عمومی :** برای نمایش کلیت بکار می رود و به صورت « $\forall$ » نشان داده میشود و خوانده می شود. « برای هر». مثلاً: گزاره ی معروف « مربع هر عدد حقیقی غیرمنفی است.» که با زبان ریاضی به صورت  $\forall x \in R; x^2 \geq 0$  نوشته می شود.

هر  $x$  خاصیت  $p$  را دارد.

$$\forall x; p(x)$$

**سور وجودی :** برای نمایش وجود به کار می رود و به صورت « $\exists$ » نشان داده میشود و خوانده می شود. « وجود دارد». مثلاً: گزاره ی « وجود دارد عدد حقیقی که تفاضل مربع آن با ۴ برابر صفر می شود.» که با زبان ریاضی به صورت  $\exists x \in R; x^2 - 4 = 0$  نوشته می شود.<sup>۴</sup>

<sup>۳</sup> چون این الفاظ، برای متغیر، قید تعیین می کنند و قلمرو متغیر گزاره نما را مشخص می کنند به همین دلیل آنها را سور به معنای « بارو» یا « حصار» یا « دیوار گرداگرد شهر» نامگذاری کرده اند. چون حصار، قلمرو شهر را مشخص می کند.  
<sup>۴</sup> یک حالت خاص از سور وجودی، سور وحدت یا سور یگانه است. این سور برای نمایش یکتایی به کار می رود و به صورت « $\exists!$ » نشان داده می شود و خوانده می شود. « فقط و فقط یک». مثلاً: گزاره ی « معادله ی  $(x - 3)^2 = 0$  فقط و فقط یک ریشه ی حقیقی دارد.» که با زبان ریاضی به صورت  $\exists! x \in R; (x - 3)^2 = 0$  نوشته می شود.

وجود دارد  $x$  که خاصیت  $p$  را داشته باشد.

$$\exists x; p(x)$$

**سور صفر:** برای نمایش عدم وجود به کار می رود و به صورت « $\nexists$ » نشان داده میشود و خوانده می شود. «وجود ندارد». مثلاً: گزاره‌ی «هیچ عدد حقیقی وجود ندارد که مجموع مربع آن با ۴ برابر صفر شود.» که با زبان ریاضی به صورت  $\nexists x \in R; x^2 + 4 = 0$  نوشته می شود.

وجود ندارد  $x$  که خاصیت  $p$  را داشته باشد.

$$\nexists x; p(x)$$

**توجه :**

**۱:** هر گزاره نما که با سور عمومی همراه شود، وقتی به یک گزاره‌ی درست تبدیل می شود که هر عضو از دامنه‌ی متغیر آن در گزاره نما صدق کند، یعنی مجموعه‌ی جواب آن برابر دامنه‌ی متغیر باشد. به عبارت دیگر مثال نقض نداشته باشد.

**۲:** هر گزاره نما که با سور وجودی همراه شود، وقتی به یک گزاره‌ی درست تبدیل می شود که مجموعه‌ی جواب آن تهی نباشد.

**۳:** هر گزاره نما که با سور صفر همراه شود، وقتی به یک گزاره‌ی درست تبدیل می شود که مجموعه‌ی جواب آن تهی باشد. مثال : هر یک عبارت های زیر را با نماد سوری بنویسید.

الف: مجموع هر عدد مثبت و معکوس آن حداقل برابر ۲ است.

$$\forall x \in (0, +\infty); x + \frac{1}{x} \geq 2$$

ب: بعضی از اعداد صحیح ریشه‌ی معادله‌ی  $x^2 + 3x = 0$  می باشند.

$$\exists x \in Z; x^2 + 3x = 0$$

این سور برای بیان عبارت «فقط و فقط یک  $x$  دارای خاصیت  $p$  می باشد.» استفاده می شود. این سور که به سور یکتایی معروف است، با نماد  $\exists!$  نمایش داده می شود. هر گزاره نما که با سور یکتا همراه شود، وقتی به یک گزاره‌ی درست تبدیل می شود که مجموعه‌ی جواب آن یک عضوی باشد.

$$\exists! x; p(x)$$

تمرین ۳۴: جدول زیر را کامل کنید.

عبارت با زبان ریاضی	عبارت با زبان طبیعی
$\forall x \in R; x^2 \geq 0$	برای هر عدد حقیقی $x$ داریم: $x^2 \geq 0$
$\forall x \in E; x = 2k \quad (k \in Z)$	
$\exists p \in P; p = 2k \quad (k \in Z)$	
	بعضی از اعداد فرد، عدد اول هستند.
$\exists n \in N; \sqrt{n} < 0$	

تمرین ۳۵: گزاره های زیر را ابتدا به زبان ساده بیان کنید و سپس ارزش آنها را تعیین کنید.

- الف)  $\forall x \in R; x^2 \geq x$   
 ب)  $\forall x \in Z; x(x+1) = 2k \quad (k \in Z)$   
 ج)  $\forall x \in R; \tan x \times \cot x = 1$   
 د)  $\exists x \in Z; |x| - 1 < 0$

حل:

الف) مربع هر عدد حقیقی بزرگتر یا مساوی آن است. (نادرست: زیرا مربع  $\frac{1}{2}$  بزرگتر از  $\frac{1}{2}$  نیست.)

ب) حاصل ضرب هر دو عدد صحیح متوالی عددی زوج است. (درست)

ج) حاصل ضرب تانژانت و کتانژانت هر زاویه برابر یک است. (نادرست: زیرا تانژانت  $x = \frac{\pi}{2}$  تعریف نمی شود.)

د) بعضی از اعداد صحیح وجود دارد که اگر از قدرمطلق آنها یک واحد کم کنیم، حاصل منفی می شود. (درست، عدد  $x = 0$  این خاصیت را دارد.)

\*\*\*

## نقیض گزاره های سوری

نقیض یک گزاره سوری باید طوری بیان شود که، مجموعه‌ی جواب را از حالتی کلی به حالت جزئی و بر عکس کند. مثلاً: نقیض گزاره‌ی نادرست «هر آسیایی ایرانی است.» می‌شود، «بعضی از آسیایی ها، ایرانی نیستند.» که درست می‌باشد.

لذا برای نوشتن نقیض یک گزاره سوری، کافی است نماد های  $\forall$  و  $\exists$  را به یکدیگر تبدیل کنیم و به جای خاصیت داده شده، نقیض آن را بنویسیم. یا اینکه نماد های  $\exists$  و  $\forall$  را به یکدیگر تبدیل نماییم و خاصیت را بدون هیچگونه تغییری بنویسیم. مانند:

$$۱) \sim [\forall x ; P(x)] \equiv \exists x ; \sim P(x)$$

$$۲) \sim [\exists x ; P(x)] \equiv \forall x ; \sim P(x) \equiv \forall x ; \bar{P}(x)$$

$$۳) \sim [\forall x ; P(x)] \equiv \exists x ; \bar{P}(x)$$

$$۴) \sim [\forall x, \forall y ; P(x, y)] \equiv \exists x, \exists y ; \sim P(x, y)$$

$$۵) \sim [\forall x, \exists y ; P(x, y)] \equiv \exists x, \forall y ; \sim P(x, y)$$

**مثال :** نقیض گزاره های سوری زیر را بنویسید.

الف : هر لوزی مربع است.

ب : بعضی از فلزات جامد نیستند.

حل :

الف : بعضی از لوزی ها ، مربع نیستند.

ب : تمامی فلزات جامد هستند.

**تمرین ۳۶ :** ارزش گزاره های سوری زیر را تعیین کرده و سپس نقیض آنها را بنویسید.

$$\text{الف) } \forall x \in R ; x^2 > 0$$

$$\text{ب) } \exists y \in R ; (y < 0 \wedge y^2 \leq 1)$$

حل :

الف: گزاره نادرست است. (مثال نقض آن  $x = 0$ )

$$\sim [\forall x \in R ; x^2 > 0] \equiv \exists x \in R ; x^2 \not> 0 \equiv \exists x \in R ; x^2 \leq 0$$

ب : درست است. زیرا  $y = -1$  در آن صدق می‌کند.

$$\sim [\exists y \in R ; (y < 0 \wedge y^2 \leq 1)] \equiv \forall y \in R ; \sim (y < 0 \wedge y^2 \leq 1)$$

$$\equiv \forall y \in R ; (y \geq 0 \vee y^2 > 1)$$

**تمرین ۳۷:** نقیض گزاره‌ی زیر را بنویسید.

همه‌ی دانشجویان بعضی از دانشگاه های تهران با هوشند.

**حل:** بعضی از دانشجویان هر دانشگاهی در تهران با هوش نیستند.

**تمرین برای حل:**

**۳۸:** درستی یا نادرستی گزاره های سوری زیر را با ذکر دلیل مشخص کنید.

۱: هر عدد اول، فرد است.

$$\exists x \in \mathbb{N} : 2x^2 + 3x + 1 = 0 \quad ۲$$

$$\exists x \in \mathbb{Z} : 2x^2 + 3x + 1 = 0 \quad ۳$$

۴: هر عدد زوج، غیر اول است.

۵: در آمار، هر متغیر ترتیبی یک متغیر کیفی است.

۶: در احتمال، هر مجموعه‌ی پیشامد زیر مجموعه‌ی فضای نمونه ای است.

۷: در فضای نمونه‌ی  $S$ ، پیشامدی مانند  $A$  وجود دارد که  $P(A) > ۱$

۸: طول هر پاره خط، عددی حقیقی است.

**۳۹:** ارزش گزاره های زیر را تعیین کنید و سپس آنها را به زبان ریاضی بنویسید.

۱: هر عدد طبیعی زوج یا فرد است.

۲: همه‌ی اعداد اول فردند.

۳: برای بعضی از مقادیر  $a$  در مجموعه‌ی اعداد حسابی داریم:  $a^2 < ۰$

۴: عدد صحیح مثبتی مانند  $x$  وجود دارد به طوری که  $۱ - 2x > ۵$

۵: حاصل جمع هر عدد حقیقی ناصفر با معکوسش، بزرگ تر یا مساوی ۲ است.

۶: به ازای بعضی از مقادیر حقیقی  $x$  داریم:  $x^3 = x$

**۴۰:** هرگاه  $A = \{x \in \mathbb{Z} \mid ۰ < x \leq ۵\}$  دامنه‌ی متغیر باشد، ارزش گزاره های سوری زیر را تعیین کنید.

الف)  $\exists x \in A ; x + 4 = 10$

ج)  $\exists x \in A ; x + 3 \leq 4$

ب)  $\forall x \in A ; x + 2 \leq 9$

د)  $\forall x \in A ; x + 1 \geq 6$



۴۱: ارزش گزاره های سوری زیر را تعیین کرده و سپس نقیض آنها را بنویسید.

الف)  $\forall x \in R; \frac{x^2 - 1}{x - 1} = x + 1$

ج)  $\forall x \in (-\infty, 0); x - \frac{1}{x} \leq -2$

ب)  $\forall n \in N; (2^n + 1) \in P$

د)  $\exists y \in R; \frac{y - 3}{5} = 0$

۴۲: نقیض گزاره های زیر را بنویسید.

الف) بعضی از کشورها به آبهای آزاد راه ندارند.

ب) هر مثلث یک دایره‌ی محیطی دارد.

۴۳: ارزش گزاره های سوری زیر را تعیین کنید.

الف) هر مربع، لوزی است و هیچ عدد زوجی اول نیست.

ب)  $(\exists x \in Z; x^2 < 0) \Rightarrow (\forall x \in R; x^2 > 0)$

ج)  $(\exists x \in Q; x^2 + 1 = 0) \vee (\forall n \in N; n^2 + 1 > 2)$

د)  $\sim (\exists x \in R; x > 1) \Leftrightarrow (\exists n \in N; n^2 - 9 = 0)$

هـ)  $\sim (\exists x \in R; 2x + 3 > 1) \Leftrightarrow \sim (\forall y \in Z; |y| = \sqrt{y^2})$

۴۴: نقیض گزاره‌ی سوری زیر را بنویسید.

$(\forall x \in R; x^2 + 1 > 0) \wedge (\exists n \in N; n^2 - 4 = 0)$

۴۵: نقیض گزاره‌ی سوری زیر را بنویسید.

بعضی از دانش آموزان همه‌ی کلاس های دبیرستان باهوش نیستند.

\*\*\*

استنتاج به مفهوم نتیجه گیری است و عمل استنتاج به معنی نتیجه گیری از یک کسری گزاره‌های داده شده می باشد. اگر از  $p_1$  و  $p_2$  و ... و  $p_n$  گزاره‌ی  $q$  نتیجه شده باشد، در این صورت می نویسند.

$$\begin{array}{c} p_1 \\ p_2 \\ \cdot \\ \cdot \\ \cdot \\ \hline p_n \\ \therefore q \end{array}$$

یا

$$p_1 \wedge p_2 \wedge \dots \wedge p_n \vdash q$$

یعنی گزاره‌ی شرطی  $q \Rightarrow (p_1 \wedge p_2 \wedge \dots \wedge p_n)$  درست می باشد. گزاره های  $p_1$  و  $p_2$  و ... و  $p_n$  را مقدمات استنتاج می گوئیم و همواره آنها را درست در نظر می گیریم. در اینجا به چند مورد از قوانین استنتاج اشاره می کنیم.

**(۱) قانون انتزاع:** اگر گزاره‌ی شرطی درست و مقدم آن نیز درست باشد، نتیجه می گیریم تالی آن نیز درست است. به عبارت دیگر

$$\begin{array}{c} p \Rightarrow q \\ p \\ \hline \therefore q \end{array}$$

یا

$$(p \Rightarrow q) \wedge p \vdash q$$

**(۲) قانون نقیض انتزاع:** اگر یک گزاره شرطی درست و نقیض تالی آن نیز درست باشد، نتیجه می گیریم نقیض مقدم نیز درست است. به عبارت دیگر

$$\begin{array}{c} \sim q \Rightarrow \sim p \\ p \\ \hline \therefore q \end{array}$$

یا

$$(\sim q \Rightarrow \sim p) \wedge q \vdash q$$

**۳) قانون رفع مولفه:** اگر ترکیب فصلی دو گزاره درست و نقیض یکی از مولفه های آن نیز درست باشد،

نتیجه می گیریم مولفه ی دیگر آن نیز درست است. به عبارت دیگر

$$\frac{\sim p \vee q}{p} \therefore q$$

یا

$$(\sim p \vee q) \wedge q \vdash q$$

**۴) قانون قیاس:** اگر گزاره های شرطی  $p \Rightarrow q$  و  $q \Rightarrow r$  درست باشند، گزاره ی شرطی  $p \Rightarrow r$  نیز

درست است. به عبارت دیگر

$$\frac{p \Rightarrow q}{q \Rightarrow r} \therefore p \Rightarrow r$$

یا

$$(p \Rightarrow q) \wedge (q \Rightarrow r) \vdash (p \Rightarrow r)$$

**۵) قانون ادخال فاصل:** از هر گزاره ای می توان از ترکیب فصلی آن را با گزاره های دیگر نتیجه بگیریم.

به عبارت دیگر

$$\frac{p}{\therefore p \vee q}$$

یا

$$p \vdash p \vee q$$

زیرا اگر  $p$  درست باشد، ترکیب فصلی آن با هر گزاره ی دلخواه نیز درست است.

**۶) قانون حذف عاطف:** از ترکیب عطفی دو یا چند گزاره می توانیم هر یک از آنها را نتیجه بگیریم. به

عبارت دیگر

$$\frac{p \wedge q}{\therefore p}$$

یا

$$(p \wedge q) \vdash p$$

زیرا اگر  $p \wedge q$  درست باشد، هر دو مولفه ی آن درست است.

**توجه:** با تشکیل جدول ارزشی، می توان نشان داد که گزاره های مرکب زیر مربوط به قوانین فوق همواره درست هستند. بررسی درستی آنها به فراگیران محترم واگذار می شود.

الف)  $((p \Rightarrow q) \wedge q) \Rightarrow q$

ب)  $((\sim q \Rightarrow \sim p) \wedge q) \Rightarrow q$

ج)  $((\sim p \vee q) \wedge q) \Rightarrow q$

د)  $((p \Rightarrow q) \wedge (q \Rightarrow r)) \Rightarrow (p \Rightarrow r)$

هـ)  $(p \wedge q) \Rightarrow p$

و)  $p \Rightarrow (p \vee q)$

\*\*\*

**مثال:** نتیجه گیری زیر طبق قانون انتزاع درست است.

هر عدد مرکب، عدد اول نیست.

$x$  عددی مرکب است.

نتیجه:  $x$  عدد اول نیست.

**مثال:** نتیجه گیری زیر طبق قانون نقیض انتزاع درست است.

اگر فرهاد موفق نیست، آنگاه فرهاد حسود نیست.

فرهاد حسود است.

نتیجه: فرهاد موفق است.

**تمرین ۴۴:** درستی یا نادرستی هر یک از استنتاج های زیر را مشخص کنید.

الف) اگر فردا جمعه باشد، آنگاه مدرسه تعطیل خواهد بود.

فردا مدرسه تعطیل است.

نتیجه: فردا جمعه است.

ب) هر عدد طبیعی بزرگتر از یک که دو مقسوم علیه طبیعی داشته باشد، عددی اول است.

عدد طبیعی و بزرگتر از یک  $x$  دو مقسوم علیه طبیعی دارد.

نتیجه:  $x$  عددی اول است.

**تمرین ۴۵:** استنتاج های زیر را کامل کنید.

الف) اگر هوا آلوده باشد، آنگاه مدارس تعطیل خواهند بود.

چهارشنبه هوا آلوده است.

نتیجه : .....

ب) دانش آموزان پایه‌ی دوازدهم باید کنکور بدهند.

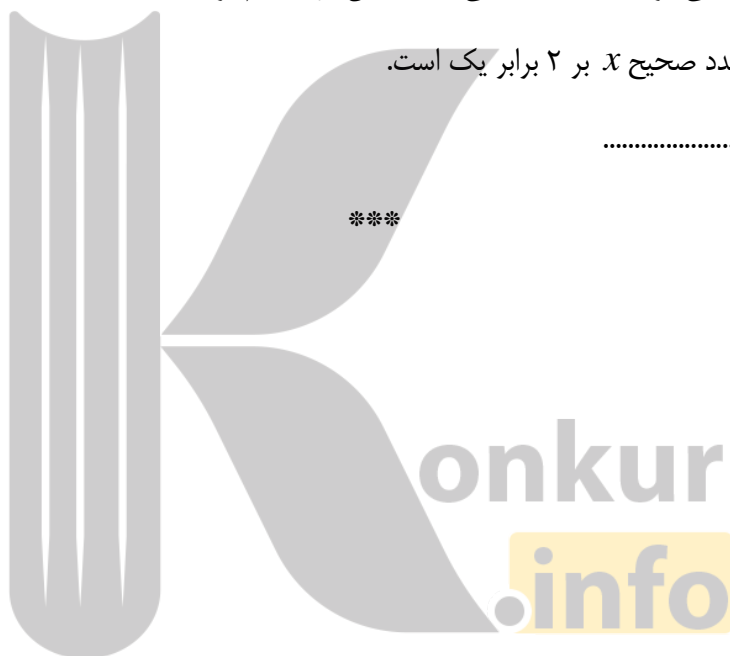
علی پایه‌ی دوازدهم است.

نتیجه : .....

ج) اگر یک عدد طبیعی فرد نباشد، آنگاه باقی مانده‌ی آن در تقسیم بر ۲ یک نیست.

باقی مانده تقسیم عدد صحیح  $x$  بر ۲ برابر یک است.

نتیجه : .....



## درس دوم: آشنایی با نظریه ی مجموعه ها

نظر به اهمیت نظریه ی مجموعه ها در علم ریاضی، در این درس با مفاهیم مربوط به این نظریه آشنا می شویم.

### یادآوری مفهوم مجموعه

مجموعه، دسته ای از اشیای کاملاً معین می باشد.

**مثال:** هر یک از موارد زیر یک مجموعه مشخص می کند.

۱: اعداد طبیعی یک رقمی مضرب ۳

۲: رنگهای پرچم ایران

۳: مقسوم علیه های مشترک دو عدد ۱۲ و ۱۸

۴: حروف الفبای صدا دار انگلیسی

۵: اعداد اول

که مجموعه ی آخر بر خلاف دیگر مجموعه ها نامتناهی است.

**توجه:** هر یک از موارد زیر، یک مجموعه مشخص نمی کنند. زیرا شامل یک واژه ی تعریف نشده و نامشخص می باشند و لذا نمی توان اشیاء را کاملاً شناخت و یا متمایز نمود.

۱: دانش آموزان زرنگ کلاس

۲: دبیران خوش فکر آموزشگاه

۳: دانش آموزان باسلیقه ی آموزشگاه

یک مجموعه را با یک حرف بزرگ الفبای لاتین نامگذاری می کنند. هر یک از اشیاء تشکیل دهنده ی مجموعه را عضو آن مجموعه می نامند. اگر شیء  $a$  در مجموعه ی  $A$  باشد، می گوئیم  $a$  عضو مجموعه ی  $A$  است و می نویسیم  $a \in A$  و اگر شیء  $a$  در مجموعه ی  $A$  نباشد، می گوئیم  $a$  عضو مجموعه ی  $A$  نیست و می نویسیم  $a \notin A$ .

هر مجموعه به روش های مختلفی نمایش داده می شود. روش های زیر، متداول ترین این روش ها است.

۱: نمایش تفصیلی یا گسترده (از طریق نام بردن اعضاء)

۲: نمایش توصیفی (از طریق بیان خاصیتی برای اعضاء)

۳: نمایش هندسی یا نمودار ون (از طریق رسم شکل هندسی بسته)

اگر در نمایش توصیفی از علائم ریاضی استفاده شود، می‌گوییم که مجموعه را با **علائم ریاضی** نمایش

داده ایم. در این نمایش اگر  $P(x)$  خاصیتی برای اعضاء مجموعه‌ی  $S$  باشد، در این صورت می‌نویسند:

$$S = \{x | P(x)\}$$

**تمرین ۱:** مجموعه‌ی اعداد طبیعی و فرد کمتر از ۱۰ را به صورت های فوق نمایش دهید.

حل:

۱: نمایش تفصیلی

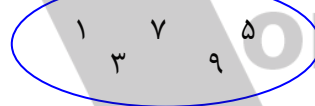
$$S = \{1, 3, 5, 7, 9\}$$

۲: نمایش توصیفی

$$S = \{x | x \in \mathbb{N}, k \in \mathbb{Z}, x < 10, x = 2k - 1\}$$

۳: نمایش هندسی

$S$



**تمرین ۲:** مجموعه‌ی اعداد اول یک رقمی را با علائم ریاضی بنویسید.

حل: اگر  $P$  مجموعه‌ی اعداد اول باشد. در این صورت:

$$S = \{2, 3, 5, 7\} = \{x | x \in P, x < 10\}$$

**تمرین برای حل:**

۳: مجموعه‌ی مقابل را با عضوهایش نمایش دهید.

$$A = \{x^2 - 1 | x \in \mathbb{Z}, -2 < x \leq 3\}$$

۴: مجموعه‌ی  $S = \{3 - \sqrt{2}, 3 + \sqrt{2}\}$  را با علائم ریاضی نمایش دهید.

۵: مجموعه‌ی مقابل را با علائم ریاضی نمایش دهید.

$$A = \{-1, 0, 1, 8, 27, \dots\}$$

۶: مجموعه های زیر را با نوشتن اعضای آنها مشخص کنید.

الف)  $A = \{x \in Z \mid |x| \leq 2\}$

ب)  $B = \{m \in Z \mid m^3 = m\}$

ج)  $C = \{k \in R \mid k^2 - 1 = 0\}$

د)  $D = \{a \in S \mid S \text{ فضای نمونه‌ای پرتاب یک تاس}\}$

\*\*\*

### مجموعه‌ی تهی

اگر مجموعه ای دارای عضو نباشد، آنرا تهی می نامند. مانند مجموعه‌ی اعداد طبیعی یک رقمی مضرب ۱۳

مجموعه‌ی تهی را با نماد  $\Phi$  یا  $\{\}$  نمایش می دهند.

تمرین ۷: کدام یک از مجموعه های زیر تهی است؟

الف)  $A = \{x \in Z \mid x^2 = 9, 2x = 4\}$

ت)  $D = \{x \in N \mid x^2 = 7x\}$

ب)  $B = \{t \in Z \mid t + 8 = 8\}$

ث)  $E = \{r \in Z \mid r^3 - 9r = 0\}$

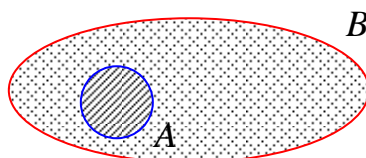
پ)  $C = \{x \in Z \mid x \neq x\}$

\*\*\*

زیر مجموعه‌ی یک مجموعه

مجموعه‌ی  $A$  را زیر مجموعه‌ی  $B$  گویند، هرگاه هر عضو  $A$  در مجموعه‌ی  $B$  باشد. یعنی

$$(\forall x \in A \rightarrow x \in B) \Leftrightarrow A \subseteq B$$

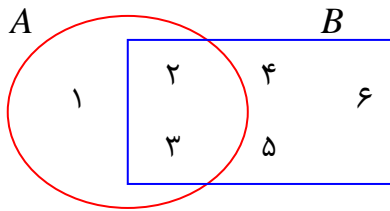


مثلاً مجموعه‌ی  $A = \{2, 3, 5\}$  زیر مجموعه‌ی، مجموعه‌ی  $B = \{1, 2, 3, \dots, 9\}$  می باشد.

همچنین اگر عضوی در مجموعه‌ی  $A$  باشد که در مجموعه‌ی  $B$  نباشد، می گویند  $A$  زیر مجموعه‌ی  $B$

نیست و می نویسند  $A \not\subseteq B$ .





مثلاً در نمودار مقابل مجموعه‌ی  $A$  زیر مجموعه‌ی  $B$  نمی باشد.

\*\*\*

در ادامه چند قضیه در مورد زیر مجموعه‌ها ذکر و اثبات می کنیم.

**قضیه** هر مجموعه زیر مجموعهی خودش است. ( $S \subseteq S$ )

اثبات: (به روش برهان خلف) فرض کنیم که  $S \subseteq S$  نباشد. یعنی اینکه در مجموعه‌ی  $S$  عضوی وجود دارد که در خود مجموعه‌ی  $S$  نباشد و این تناقض است. پس حکم درست است نه خلاف آن.

\*\*\*

**قضیه** مجموعه‌ی تهی زیر مجموعه‌ی تمام مجموعه‌ها است. ( $\Phi \subseteq S$ )

اثبات: (به روش برهان خلف) فرض کنیم که  $\Phi \subseteq S$  نباشد. یعنی اینکه در مجموعه‌ی  $\Phi$  عضوی وجود دارد که در خود مجموعه‌ی  $S$  نباشد. این تناقض است چون مجموعه‌ی تهی فاقد عضو است. پس حکم درست است نه خلاف آن.

\*\*\*

**قضیه** اگر  $B \subseteq C$  و  $A \subseteq B$  آنگاه  $A \subseteq C$  است.

اثبات:

$$\left\langle \begin{array}{l} A \subseteq B \Rightarrow (\forall x \in A \rightarrow x \in B) \\ B \subseteq C \Rightarrow (\forall x \in B \rightarrow x \in C) \end{array} \right\rangle \Rightarrow (\forall x \in A \rightarrow x \in C) \Rightarrow A \subseteq C$$

\*\*\*

**قضیه** تعداد کل زیر مجموعه‌های هر مجموعه‌ی  $n$  عضوی برابر  $2^n$  است.

اثبات: بدیهی است که هر عضو مجموعه‌ی  $S$  دو حالت (یا عضو زیر مجموعه هست یا نیست) دارد. پس بنا

$$\underbrace{2 \times 2 \times \dots \times 2}_{n \text{ مرتبه}} = 2^n$$

به اصل شمارش (ضرب)، تعداد کل حالت‌ها (زیر مجموعه‌ها) می شود.

نتیجه: مجموعه‌ی تهی تنها دارای یک زیر مجموعه است.

$$n = 0 \Rightarrow 2^n = 2^0 = 1$$

\*\*\*

توجه: چون تعداد زیر مجموعه‌های  $r$  عضوی یک مجموعه‌ی  $n$  عضوی، با تعداد انتخاب‌های  $r$  عضو از

$n$  عضو ( $r \leq n$ ) است. تعداد این انتخاب‌ها برابر  $\binom{n}{r}$  می‌باشد. لذا تعداد زیر مجموعه‌های  $r$  عضوی از

یک مجموعه‌ی  $n$  عضوی برابر  $\frac{n!}{r!(n-r)!}$  است.

\*\*\*

تمرین ۸: مجموعه‌ی  $S = \{x, y, z\}$  را در نظر بگیرید. ابتدا تعداد کل زیرمجموعه‌های مجموعه‌ی  $S$  را تعیین کنید و سپس تمام زیرمجموعه‌ها را بنویسید.

\*\*\*

تمرین ۹: تمام زیرمجموعه‌های مجموعه‌ی  $A = \{x \mid x^2 - 4x = 5\}$  را بنویسید.

\*\*\*

تمرین ۱۰: مجموعه‌ی  $B = \{\alpha, \beta, 4, 6, 7\}$  داده شده است.

الف) تعیین کنید که این مجموعه، چند زیر مجموعه دارد؟

ب) تعداد زیر مجموعه‌های سه عضوی مجموعه‌ی  $B$  را بنویسید.

ب) تمام زیرمجموعه‌های سه عضوی این مجموعه را مشخص کنید.

\*\*\*

تمرین ۱۱: مجموعه‌ی  $\{a, b, \{a\}, \{b\}\}$  دارای چند زیر مجموعه‌ی شامل عضو  $a$  می‌باشد؟

حل: تعداد زیر مجموعه‌های بدون عضو  $a$  از مجموعه‌ی  $\{b, \{a\}, \{b\}\}$  را تعیین می‌کنیم.

$$2^3 = 8 \text{ تعداد مورد نظر}$$

**تمرین ۱۲:** تعداد زیر مجموعه های سه عضوی از مجموعه  $\{a, b, c, d, e, f\}$  شامل عضو  $a$  را

تعیین کنید.

حل: کافی است، تعداد زیر مجموعه های دو عضوی مجموعه  $\{b, c, d, e, f\}$  را به دست آوریم.

$$\binom{5}{2} = \frac{5 \times 4}{2} = 10.$$

**توجه:** به هر کدام از زیر مجموعه های دو عضوی مجموعه  $\{b, c, d, e, f\}$  اگر عضو  $a$  را اضافه

کنیم، یک زیر مجموعه از زیر مجموعه های سه عضوی مجموعه  $\{a, b, c, d, e, f\}$  شامل  $a$  به دست

می آید.

**تمرین ۱۳:** اگر دو عضو به تعداد اعضای مجموعه  $A$  اضافه کنیم. تعداد زیرمجموعه های آن ۴۸ واحد

افزایش می یابد. تعداد اعضای مجموعه  $A$  را به دست آورید.

حل:

۴۸ = تعداد زیرمجموعه های مجموعه  $n$  عضوی - تعداد زیرمجموعه های مجموعه  $n + 2$  عضوی

$$2^{n+2} - 2^n = 48 \rightarrow 2^n \times 2^2 - 2^n = 48$$

$$\rightarrow 2^n \times 4 - 2^n = 48 \rightarrow 2^n \times (4 - 1) = 48 \rightarrow 2^n \times 3 = 48 \rightarrow 2^n = 16 \rightarrow n = 4$$

**تمرین ۱۴:** تعداد زیر مجموعه های یک مجموعه  $k$  عضوی ۲۲۴ مجموعه بیشتر از تعداد زیر مجموعه

های مجموعه  $k - 3$  عضوی است، مقدار  $k$  را بیابید.

حل:

۲۲۴ = تعداد زیر مجموعه های مجموعه  $k - 3$  عضوی - تعداد زیر مجموعه های  $k$  عضوی

$$\rightarrow 2^k - 2^{k-3} = 224 \rightarrow 2^{k-3} \times 2^3 - 2^{k-3} = 224$$

$$\rightarrow 2^{k-3} (8 - 1) = 224 \rightarrow 2^{k-3} = \frac{224}{7} \rightarrow 2^{k-3} = 32$$

$$\rightarrow 2^{k-3} = 2^5 \rightarrow k - 3 = 5 \rightarrow k = 8$$

**تمرین ۱۵:** مثال هایی برای هر یک از موارد زیر برای سه مجموعه  $A$  و  $B$  و  $C$  بنویسید.

الف)  $A \in B$  و  $B \in C$  و  $A \in C$

ب)  $A \in B$  و  $B \in C$  و  $A \notin C$

ج)  $A \in B$  و  $A \subseteq B$

## تساوی دو مجموعه

دو مجموعه را مساوی گویند، هرگاه در هیچ کدام عضوی نباشد که در دیگری یافت نشود. یعنی اعضاء هر دو یکسان باشد. مانند دو مجموعه‌ی زیر

$$\left. \begin{array}{l} A = \{1, 2, 3\} \\ B = \{1, 1, 3, 2, 2, 2\} \end{array} \right\} \rightarrow A = B$$

توجه کنید که در یک مجموعه تغییر ترتیب اعضا و همچنین تکرار آنها مجموعه را تغییر نمی دهد.

**تمرین ۱۶:** مجموعه های زیر مساویند، مقدار  $a$  و  $b$  را بیابید.

$$A = \{1, \{a\}, \{a, b\}\} \quad \text{و} \quad B = \{\{3\}, \{2, 3\}, 1\}$$

**نتیجه:** اگر  $A \subseteq B$  و  $B \subseteq A$  آنگاه  $A = B$  است.

اثبات:

$$\begin{cases} A \subseteq B \Rightarrow (\forall x \in A \rightarrow x \in B) \\ B \subseteq A \Rightarrow (\forall x \in B \rightarrow x \in A) \end{cases}$$

لذا تمام عضوهای دو مجموعه‌ی  $A$  و  $B$  یکسان است یعنی  $A = B$ .

**تمرین ۱۷:** اگر  $A = \{2, x + 2y, 4\}$  و  $B = \{4, 5, x - y\}$  و  $A = B$  در این صورت مقادیر  $x$  و  $y$  را بیابید.

\*\*\*

## زیر مجموعه های محض

هر زیر مجموعه از یک مجموعه که با خود آن مجموعه برابر نباشد، را زیر مجموعه‌ی محض (اکید یا سره) می نامند. مثلاً: مجموعه‌ی  $A = \{1, 3\}$  یک زیر مجموعه‌ی محض مجموعه‌ی  $B = \{1, 2, 3\}$  است، زیرا

$$A \neq B$$

**نتیجه:**

۱. هر زیر مجموعه‌ی  $n$  عضوی دارای  $2^n - 1$  زیر مجموعه‌ی سره است.

۲. مجموعه‌ی تهی زیر مجموعه‌ی سره ندارد.

**تمرین ۱۸:** تعداد زیر مجموعه‌های اکید یک مجموعه‌ی  $k$  عضوی به تعداد  $2^3$  زیر مجموعه بیشتر از

تعداد کل زیر مجموعه‌های مجموعه‌ی  $k - 2$  عضوی است. مقدار  $k$  را بیابید.

حل:

$$\begin{aligned}(2^k - 1) - 2^{k-2} &= 2^3 \rightarrow 2^k - 2^{k-2} = 2^4 \rightarrow 2^{k-2} \times 4 - 2^{k-2} = 2^4 \\ \rightarrow 2^{k-2} \times (4 - 1) &= 2^4 \rightarrow 2^{k-2} \times 3 = 2^4 \rightarrow 2^{k-2} = 8 \\ \rightarrow 2^{k-2} &= 2^3 \rightarrow k - 2 = 3 \rightarrow k = 5\end{aligned}$$

\*\*\*

**تمرین برای حل:**

۱۹: اگر تعداد زیر مجموعه‌های یک مجموعه‌ی  $k + 1$  عضوی  $36$  واحد از  $4$  برابر تعداد زیر مجموعه‌های اکید یک مجموعه‌ی  $k - 2$  عضوی بیشتر باشد. مقدار  $k$  را بیابید.

۲۰: مجموعه‌ای دارای  $35$  زیر مجموعه‌ی  $3$  عضوی است. تعداد عضوهای آن مجموعه را تعیین کنید.

۲۱: اگر دو عضو از مجموعه‌ی  $A$  را حذف کنیم. تعداد زیر مجموعه‌های آن  $384$  واحد کم می‌شود. مجموعه‌ی  $A$  چند زیر مجموعه دارد؟

\*\*\*

**مجموعه‌ی توانی**

مجموعه‌ی شامل تمام زیر مجموعه‌های یک مجموعه را مجموعه‌ی توانی آن مجموعه می‌نامند. به عبارت ساده‌تر، اگر  $X$  یک مجموعه باشد، مجموعه‌ی کلیه‌ی زیر مجموعه‌های  $X$  را مجموعه‌ی توانی آن می‌نامند و آن را با  $P(X)$  نمایش می‌دهند.

**تمرین ۲۲:** اگر  $A = \{1, 2, 3\}$  مجموعه‌ی توانی  $A$  را بنویسید.

حل:

$$P(A) = \{\Phi, \{1\}, \{2\}, \{3\}, \{1, 2\}, \{1, 3\}, \{2, 3\}, \{1, 2, 3\}\}$$

**نتیجه:** اگر  $X$  یک مجموعه‌ی  $n$  عضوی باشد، در این صورت  $P(X)$  دارای  $2^n$  عضو است.

تمرین ۲۳: مجموعه‌ی توانی مجموعه‌ی  $A = \{\varnothing, \{\varnothing\}\}$  را بنویسید.

تمرین ۲۴: اگر  $A = \{a\}$  باشد. مجموعه‌ی  $P(P(A))$  چند عضو دارد؟

### افراز یک مجموعه

اگر  $A$  یک مجموعه‌ی غیر تهی باشد، گوییم که مجموعه‌ی  $A$  به  $n$  زیر مجموعه‌ی  $A_1, A_2, \dots, A_n$  افراز شده است، هرگاه:

(الف) هیچ یک از زیر مجموعه‌ها تهی نباشد.

$$\forall i \quad 1 \leq i \leq n \rightarrow A_i \neq \Phi \quad \text{یعنی}$$

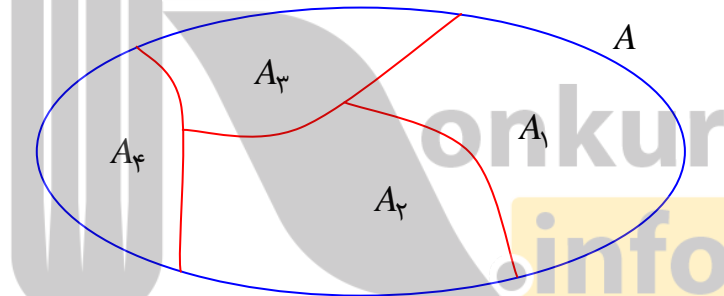
(ب) اشتراک هر دو زیر مجموعه‌ی متمایز تهی باشد. یعنی

$$\forall i, j \quad 1 \leq i \leq n, 1 \leq j \leq n \quad \xrightarrow{i \neq j} A_i \cap A_j = \Phi$$

(ج) اجتماع تمام زیر مجموعه‌ها با مجموعه‌ی اصلی برابر باشد. یعنی

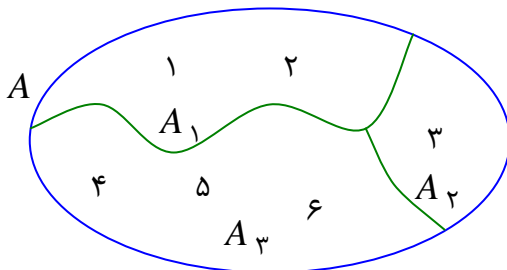
$$A_1 \cup A_2 \cup \dots \cup A_n = \bigcup_{i=1}^n A_i = A$$

به شکل مقابل توجه کنید. این شکل مجموعه‌ی  $A$  را به ۴ زیر مجموعه افراز کرده است.



مثال: اگر  $A = \{1, 2, 3, 4, 5, 6\}$  آنگاه مجموعه‌های زیر یک افراز از مجموعه‌ی  $A$  است.

$$A_1 = \{1, 2\}, A_2 = \{3\}, A_3 = \{4, 5, 6\}$$



**توجه:** بنابراین تفای مقدم هر مجموعه‌ی غیر تهی، افراز خودش است.

تمرین ۲۵: تمام افرازهای ممکن برای مجموعه‌ی  $B = \{a, b, c\}$  را بنویسید.

حل: این مجموعه دارای ۵ افراز متفاوت است.

۱)  $\{a\}, \{b\}, \{c\}$

۲)  $\{a\}, \{b, c\}$

۳)  $\{b\}, \{a, c\}$

۴)  $\{c\}, \{a, b\}$

۵)  $\{a, b, c\}$

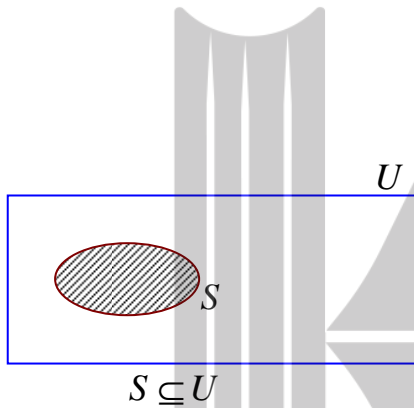
**تمرین ۲۶:** فرض کنید،  $X = \{a, b, c, d, e, f, g\}$ ، کدام یک از حالت های زیر یک افراز برای  $X$

محسوب می شود.

الف)  $\{a, c, e\}$  و  $\{b\}$  و  $\{d, g\}$       ب)  $\{a, e, g\}$  و  $\{c, d\}$  و  $\{b, e, f\}$

پ)  $\{a, b, e, g\}$  و  $\{c\}$  و  $\{d, f\}$       ت)  $\{a, b, c, d, e, f, g\}$

ث)  $\{a\}$  و  $\{b, c\}$  و  $\{d\}$  و  $\{f, g\}$  و  $\{e\}$



در هر بحثی می توان مجموعه ای در نظر گرفت که ،  
مجموعه های دیگر زیر مجموعه ای آن باشد، این مجموعه را  
مجموعه ی مرجع (جهانی) می نامند و آن را با  $M$  یا  $U$   
نمایش می دهند.

در واقع مجموعه ی مرجع، بزرگترین مجموعه ای است که در مورد عضو های آن صحبت به میان می آید.<sup>۱</sup>

**تمرین ۲۷:** هر یک از موارد زیر را ثابت کنید.

الف) اگر  $S \subseteq \Phi$  آنگاه  $S = \Phi$ .

ب) اگر  $U \subseteq S$  آنگاه  $S = U$ .

حل:

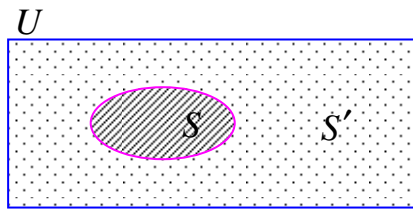
$$\begin{cases} U \subseteq S \\ S \subseteq U \end{cases} \rightarrow S = U \quad \text{ب)}$$

$$\begin{cases} S \subseteq \Phi \\ \Phi \subseteq S \end{cases} \rightarrow S = \Phi \quad \text{الف)}$$

\*\*\*

<sup>۱</sup> . این مجموعه را نیز عالم سخن گویند.

## مجموعه‌ی متمم



$$S \subseteq U$$

$$S' \subseteq U$$

$$S' = \{x | x \in U \wedge x \notin S\}$$

اگر  $U$  مجموعه‌ی مرجع و  $S$  زیر مجموعه‌ی ای از آن باشد، در این صورت اعضایی که در مرجع باشند ولی در مجموعه‌ی  $S$  نباشند، مجموعه‌ی  $S'$  را تشکیل می‌دهند که آنرا متمم  $S$  می‌نامند. متمم یک مجموعه مانند  $S$  را با  $S'$  یا  $S^c$  یا  $\bar{S}$  نمایش می‌دهند.

**تمرین ۲۸:** اگر  $U = \{x \in Z | |x| \leq 3\}$  مجموعه‌ی مرجع

باشد، متمم مجموعه‌ی  $A = \{x | x^3 - x = 0\}$  را بنویسید.

**نتیجه:**

۱: متمم مجموعه‌ی مرجع، مجموعه‌ی تهی است. ( $U' = \Phi$ )

۲: متمم مجموعه‌ی تهی، مجموعه‌ی مرجع است. ( $\Phi' = U$ )

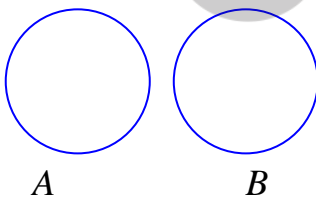
**تمرین ۲۹:** ثابت کنید که متمم متمم هر مجموعه، برابر همان مجموعه است. ( $(S')' = S$ )

حل:

$$(S')' = \{x | x \in U \wedge x \notin S'\} = \{x | x \in U \wedge x \in S\} = S$$

\*\*\*

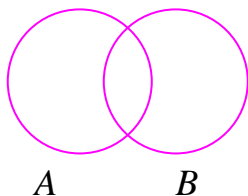
## مجموعه‌های مجزا



دو مجموعه‌ی غیر تهی را جدا از هم (مجزا) گویند، هرگاه هیچ عضو مشترکی نداشته باشند. برای مثال مجموعه‌ی اعداد طبیعی یک رقمی فرد

و مجموعه‌ی اعداد طبیعی یک رقمی زوج جدا از هم هستند.

**نتیجه:** هر مجموعه و متمم آن جدا از هم هستند.



اگر دو مجموعه جدا از هم نباشند (دارای عضو یا اعضای مشترک) آنها را

متقاطع<sup>۲</sup> می‌گویند. برای مثال اعداد طبیعی یک رقمی زوج و اعداد اول یک رقمی مجزا نیستند.

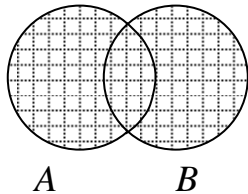
<sup>۲</sup> در رسم نمودار ون برای دو مجموعه، آنها را متقاطع رسم می‌کنیم. مگر اینکه خلاف آن مشخص شده باشد.



## اعمال روی مجموعه ها

الف) اجتماع (اتحاد)

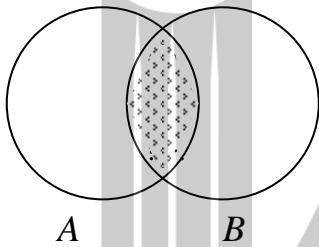
اگر  $A$  و  $B$  دو مجموعه باشند،  $A \cup B$  مجموعه‌ی عضو هایی است که یا عضو  $A$  یا عضو  $B$  یا هر دو باشند.



$$A \cup B = \{x \mid x \in A \vee x \in B\}$$

ب) اشتراک (مقطع)

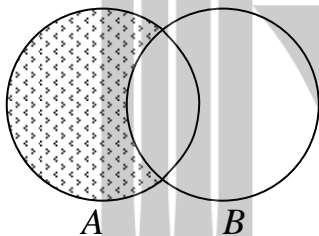
اگر  $A$  و  $B$  دو مجموعه باشند،  $A \cap B$  مجموعه‌ی عضو هایی است که هم عضو  $A$  و هم عضو  $B$  باشند.



$$A \cap B = \{x \mid x \in A \wedge x \in B\}$$

ج) تفاضل

اگر  $A$  و  $B$  دو مجموعه باشند،  $A - B$  مجموعه‌ی عضو هایی است که در  $A$  باشند ولی در  $B$  نباشند.



$$A - B = \{x \mid x \in A \wedge x \notin B\}$$

تمرین ۳۰: اگر  $A = \{x \in \mathbb{N} \mid x < 5\}$  و  $B = \{x \in \mathbb{N} \mid 2 < x \leq 5\}$  مجموعه های زیر را بنویسید.

- ۱)  $A \cup B$       ۲)  $A \cap B$       ۳)  $A - B$       ۴)  $B - A$

نتیجه :

۱. هر مجموعه زیر مجموعه‌ی اجتماعش با مجموعه‌ی دلخواه دیگر است .

$$A \subseteq (A \cup B) \text{ و } B \subseteq (A \cup B)$$

۲. اشتراک دو مجموعه زیر مجموعه‌ی هر یک از آنها است.

$$(A \cap B) \subseteq A \text{ و } (A \cap B) \subseteq B$$

۳. اشتراک دو مجموعه زیر مجموعه‌ی اجتماع آنها است.

$$(A \cap B) \subseteq (A \cup B)$$

۴. تفاضل دو مجموعه زیر مجموعه‌ی اولی است.  $(A - B) \subseteq A$  و  $(B - A) \subseteq B$

۵. اجتماع و اشتراک دو مجموعه خاصیت جابجایی دارند ولی تفاضل آنها جابجایی نیست.

$$A \cup B = B \cup A \quad \text{و} \quad A \cap B = B \cap A \quad \text{و} \quad A - B \neq B - A$$

۶. اشتراک هر دو مجموعه‌ی جدا از هم  $A$  و  $B$  تهی است.  $A \cap B = \Phi$

۷. دو مجموعه‌ی  $A - B$  و  $B - A$  جدا از هم هستند. یعنی  $(A - B) \cap (B - A) = \Phi$

\*\*\*

### اثبات به روش عضو گیری دلخواه

پیشتر دیدید که برای  $A \subseteq B$ ، عضوی دلخواه از  $A$  را در نظر می‌گرفتیم و سپس نشان می‌دادیم که این

عضو در مجموعه‌ی  $B$  واقع است. سپس نتیجه می‌گرفتیم که  $A \subseteq B$ .

این روش اثبات که در بسیاری از موارد، کاربرد دارد را روش عضو گیری دلخواه می‌نامند.

**تمرین ۳۱:** اگر  $A$  و  $B$  دو مجموعه از مجموعه‌ی مرجع  $U$  باشند و  $A \subseteq B$  ثابت کنید که  $B' \subseteq A'$

حل:

$$x \in B' \rightarrow x \notin B \xrightarrow{A \subseteq B} x \notin A \rightarrow x \in A'$$

$$\therefore B' \subseteq A'$$

\*\*\*

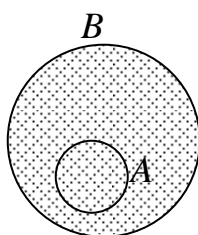
**تمرین ۳۲:** اگر  $A$  و  $B$  دو مجموعه از مجموعه‌ی مرجع  $U$  باشند، ثابت کنید که  $A \subseteq A \cup B$

حل:

$$x \in A \rightarrow x \in A \vee x \in B \rightarrow x \in A \cup B$$

$$\Rightarrow (x \in A \rightarrow x \in A \cup B) \Rightarrow A \subseteq A \cup B$$

\*\*\*



فرض:  $A \subseteq B$

**قضیه)** اگر  $A \subseteq B$  آنگاه  $A \cup B = B$  و برعکس

حکم:  $A \cup B = B$

اثبات:

$$x \in A \cup B \rightarrow (x \in A \vee x \in B) \xrightarrow{A \subseteq B} (x \in B \vee x \in B) \rightarrow x \in B \Rightarrow A \cup B \subseteq B$$

از طرفی می دانیم که  $B \subseteq A \cup B$  لذا  $A \cup B = B$

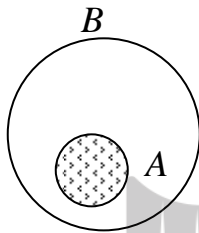
.....

فرض :  $A \cup B = B$

حکم :  $A \subseteq B$

$$A \subseteq A \cup B \xrightarrow{A \cup B = B} A \subseteq B$$

اثبات :



فرض :  $A \subseteq B$

حکم :  $A \cap B = A$

**قضیه** اگر  $A \subseteq B$  آنگاه  $A \cap B = A$  و برعکس

اثبات :

$$x \in A \rightarrow (x \in A \wedge x \in A) \xrightarrow{A \subseteq B} (x \in A \wedge x \in B) \rightarrow x \in A \cap B \Rightarrow A \subseteq A \cap B$$

از طرفی می دانیم که  $A \cap B \subseteq A$  لذا  $A \cap B = A$

.....

فرض :  $A \cap B = A$

حکم :  $A \subseteq B$

$$A \cap B \subseteq B \xrightarrow{A \cap B = A} A \subseteq B$$

اثبات :

\*\*\*

**نتیجه** : اگر  $S$  یک مجموعه از مجموعه‌ی مرجع  $U$  باشد، در این صورت احکام زیر همواره برقرار هستند.

- |                      |                         |                       |                    |
|----------------------|-------------------------|-----------------------|--------------------|
| ۱. $S \cup S = S$    | ۴. $S \cup U = U$       | ۷. $S \cap S' = \Phi$ | ۱۰. $S - S = \Phi$ |
| ۲. $S \cup \Phi = S$ | ۵. $S \cap S = S$       | ۸. $S \cap U = S$     | ۱۱. $S - \Phi = S$ |
| ۳. $S \cup S' = U$   | ۶. $S \cap \Phi = \Phi$ | ۹. $U - S = S'$       | ۱۲. $S - S' = S$   |

**نتیجه:** اگر  $A$  و  $B$  دو مجموعه باشند، در این صورت احکام زیر همواره برقرار هستند.

$$۱. A \cup (A \cap B) = A \cap B$$

$$۴. A \cap (A \cup B) = A \cup B$$

$$۲. A \cap (A \cup B) = A$$

$$۵. A \cup (A - B) = A$$

$$۳. A \cup (A \cap B) = A$$

$$۶. A \cap (A - B) = A - B$$

**قضیه)** اگر  $A$  و  $B$  دو مجموعه از مجموعه‌ی مرجع  $U$  باشند، آنگاه  $A - B = A \cap B'$  (قانون تبدیل)

اثبات: (به روش عضوگیری)

$$x \in A - B \rightarrow (x \in A \wedge x \notin B) \rightarrow (x \in A \wedge x \in B') \rightarrow x \in A \cap B'$$

$$\Rightarrow A - B \subseteq A \cap B'$$

$$x \in A \cap B' \rightarrow (x \in A \wedge x \in B') \rightarrow (x \in A \wedge x \notin B) \rightarrow x \in A - B$$

$$\Rightarrow A \cap B' \subseteq A - B$$

$$\therefore A - B = A \cap B'$$

\*\*\*

**قضیه)** اگر  $A$  و  $B$  و  $C$  سه مجموعه باشند، آنگاه

الف)  $A \cup (B \cup C) = (A \cup B) \cup C$

خاصیت شرکت پذیری اجتماع

ب)  $A \cap (B \cap C) = (A \cap B) \cap C$

خاصیت شرکت پذیری اشتراک

ج)  $A \cup (B \cap C) = (A \cup B) \cap (A \cup C)$

خاصیت توزیع پذیری اجتماع نسبت به اشتراک

د)  $A \cap (B \cup C) = (A \cap B) \cup (A \cap C)$

خاصیت توزیع پذیری اشتراک نسبت به اجتماع

اثبات: (به روش عضوگیری)

الف:

$$A \cup (B \cup C) = \{x \mid x \in A \vee x \in (B \cup C)\}$$

$$= \{x \mid x \in A \vee (x \in B \vee x \in C)\}$$

$$= \{x \mid (x \in A \vee x \in B) \vee x \in C\}$$

$$= \{x \mid x \in (A \cup B) \vee x \in C\} = (A \cup B) \cup C$$

..... ب:

$$\begin{aligned}
A \cap (B \cap C) &= \{x \mid x \in A \wedge x \in (B \cap C)\} \\
&= \{x \mid x \in A \wedge (x \in B \wedge x \in C)\} \\
&= \{x \mid (x \in A \wedge x \in B) \wedge x \in C\} \\
&= \{x \mid x \in (A \cap B) \wedge x \in C\} = (A \cap B) \cap C
\end{aligned}$$

..... ج:

$$\begin{aligned}
A \cup (B \cap C) &= \{x \mid x \in A \vee x \in (B \cap C)\} \\
&= \{x \mid x \in A \vee (x \in B \wedge x \in C)\} \\
&= \{x \mid (x \in A \vee x \in B) \wedge (x \in A \vee x \in C)\} \\
&= \{x \mid x \in (A \cup B) \wedge x \in (A \cup C)\} = (A \cup B) \cap (A \cup C)
\end{aligned}$$

..... د:

$$\begin{aligned}
A \cap (B \cup C) &= \{x \mid x \in A \wedge x \in (B \cup C)\} \\
&= \{x \mid x \in A \wedge (x \in B \vee x \in C)\} \\
&= \{x \mid (x \in A \wedge x \in B) \vee (x \in A \wedge x \in C)\} \\
&= \{x \mid x \in (A \cap B) \vee x \in (A \cap C)\} = (A \cap B) \cup (A \cap C)
\end{aligned}$$

\*\*\*

**نکته:** برای هر دو مجموعه‌ی  $A$  و  $B$  داریم

$$\begin{aligned}
\text{۱. } x \notin (A \cup B) &\leftrightarrow x \notin A \wedge x \notin B & \text{۲. } x \notin (A \cap B) &\leftrightarrow x \notin A \vee x \notin B
\end{aligned}$$

\*\*\*

**قضیه** ( اگر  $A$  و  $B$  دو مجموعه از مجموعه‌ی مرجع  $U$  باشند، آنگاه

$$\begin{aligned}
\text{۱. } (A \cup B)' &= A' \cap B' & \text{۲. } (A \cap B)' &= A' \cup B'
\end{aligned}$$

تساوی های فوق به **قوانین دمورگان** موسومند.

اثبات: ( به روش عضوگیری)

۱:

$$\begin{aligned}
x \in (A \cup B)' &\rightarrow x \notin (A \cup B) \rightarrow x \notin A \wedge x \notin B \rightarrow x \in A' \wedge x \in B' \rightarrow x \in A' \cap B' \\
&\Rightarrow (A \cup B)' \subseteq A' \cap B'
\end{aligned}$$

$$\begin{aligned}
x \in A' \cap B' &\rightarrow x \in A' \wedge x \in B' \rightarrow x \notin A \wedge x \notin B \rightarrow x \notin (A \cup B) \rightarrow x \in (A \cup B)' \\
&\Rightarrow A' \cap B' \subseteq (A \cup B)'
\end{aligned}$$

$$\therefore (A \cup B)' = A' \cap B'$$

:۲

$$x \in (A \cap B)' \rightarrow x \notin (A \cap B) \rightarrow x \notin A \vee x \notin B \rightarrow x \in A' \vee x \in B' \rightarrow x \in A' \cup B' \\ \Rightarrow (A \cap B)' \subseteq A' \cup B'$$

$$x \in A' \cup B' \rightarrow x \in A' \vee x \in B' \rightarrow x \notin A \wedge x \notin B \rightarrow x \notin (A \cap B) \rightarrow x \in (A \cap B)' \\ \Rightarrow A' \cup B' \subseteq (A \cap B)'$$

$$\therefore (A \cap B)' = A' \cup B'$$

\*\*\*

**تمرین ۳۳:** اگر  $D$  و  $C$  و  $B$  و  $A$  چهار مجموعه از مجموعه‌ی مرجع  $U$  باشند. ثابت کنید که

$$\text{اگر } A \subseteq B \text{ و } C \subseteq D \text{ آنگاه } A \cup C \subseteq B \cup D$$

حل:

$$x \in A \cup C \rightarrow x \in A \vee x \in C \xrightarrow{A \subseteq B, C \subseteq D} x \in B \vee x \in D \rightarrow x \in B \cup D$$

$$\Rightarrow (x \in A \cup C \rightarrow x \in B \cup D) \Rightarrow A \cup C \subseteq B \cup D$$

**تمرین ۳۴:** اگر  $C$  و  $B$  و  $A$  سه مجموعه از مجموعه‌ی مرجع  $U$  باشند. ثابت کنید که اگر  $A \subseteq C$  و

$$B \subseteq C \text{ آنگاه } A \cup B \subseteq C$$

حل: با توجه به تمرین قبل می‌توان نوشت:

$$\left. \begin{array}{l} A \subseteq C \\ B \subseteq C \end{array} \right\} \rightarrow A \cup B \subseteq C \cup C \rightarrow A \cup B \subseteq C$$

**تمرین ۳۵:** اگر  $B$  و  $A$  دو مجموعه از مجموعه‌ی مرجع  $U$  باشند و  $A \subseteq B$  ثابت کنید که

$$A - B = \Phi$$

حل:

$$A - B = \{x \in U \mid x \in A \wedge x \notin B\} = \{x \in U \mid x \in B \wedge x \notin B\} = \Phi$$

\*\*\*

تمرین برای حل :

۳۶: برای مجموعه های دلخواه  $A$  و  $B$  ثابت کنید،  $A - B \subseteq A$

۳۷: اگر  $A$  و  $B$  دو مجموعه دلخواه و  $A \cap B = \Phi$  باشند. ثابت کنید،

الف)  $A - B = A$

ب)  $B - A = B$

۳۸: اگر  $A$  و  $B$  و  $C$  سه مجموعه دلخواه و  $A \subseteq B$  باشند. ثابت کنید،

الف)  $A \cap C \subseteq B \cup C$

ب)  $A \cap C \subseteq B \cap C$

۳۹: اگر  $A$  و  $B$  و  $C$  و  $D$  چهار مجموعه دلخواه و  $A \subseteq B$  و  $C \subseteq D$  باشند. ثابت کنید،

الف)  $A \cap C \subseteq B \cap D$

ب)  $A \cap C \subseteq B \cup D$

۴۰: اگر  $B \subseteq A$  و  $B \subseteq A'$  ثابت کنید که  $B = \Phi$

۴۱: اگر  $A \cup B = A \cap B$  ثابت کنید که  $A = B$

۴۲: اگر  $A_n = \{x \in Z \mid -n \leq x \leq n\}$  مطلوب است  $A_4 - (A_1 \cap A_3)$

۴۳: اگر  $A_n = \{x \in N \mid x > 2^n\}$  آنگاه  $\bigcup_{n=1}^4 A_n - \bigcap_{n=1}^4 A_n$  را تعیین کنید.

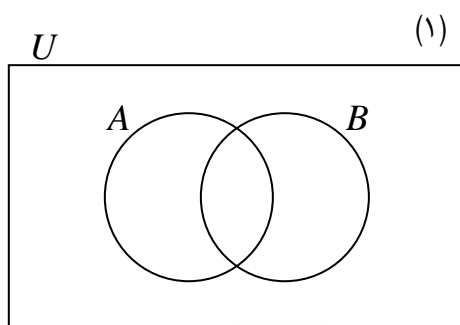
\*\*\*

## اثبات به کمک نمودار ون

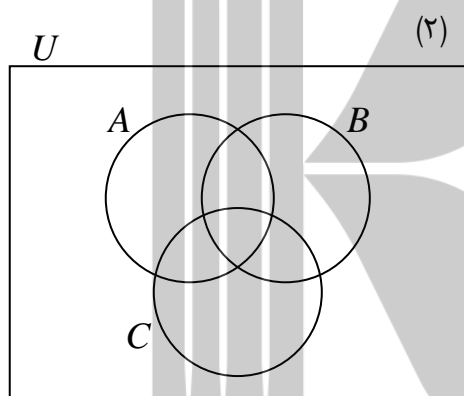
همانطور که می دانید یکی از روش های نمایش یک مجموعه استفاده از نمودار ون<sup>۳</sup> است. استفاده از نمودار

ون برای درک و فهم اعمال روی مجموعه ها ، دارای اهمیت زیاد است.

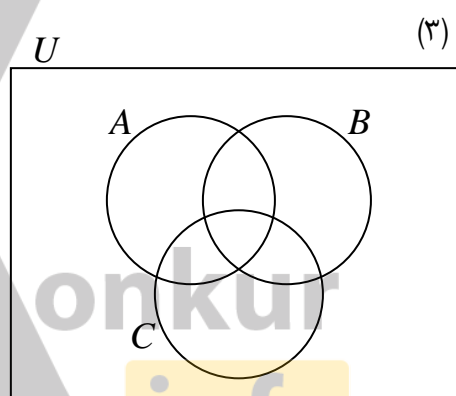
**تمرین ۴۴:** در هر مورد مجموعه‌ی داده شده را هاشور بزنید.



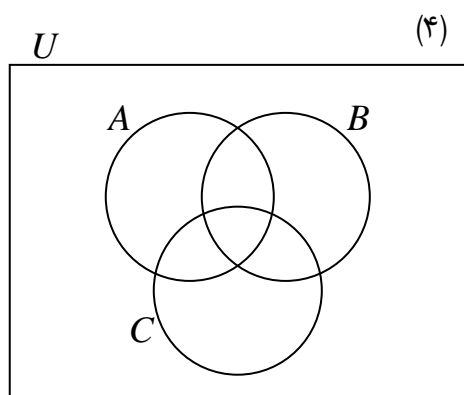
$$(A - B) \cup (B - A)$$



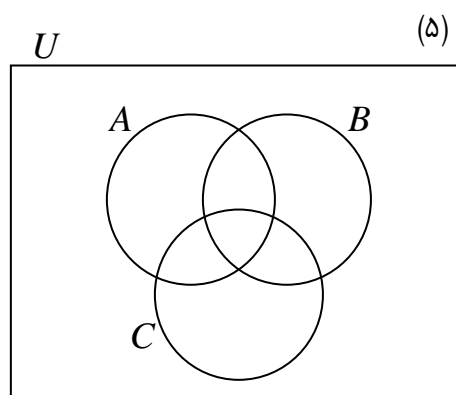
$$(A \cup B) \cap C$$



$$A - (B \cap C)$$



$$(A \cup B) - C$$



$$(A \cup B) \cap C'$$

<sup>۳</sup>. این روش گاهی نارسایی دارد، ولی حالت شهودی دارد.

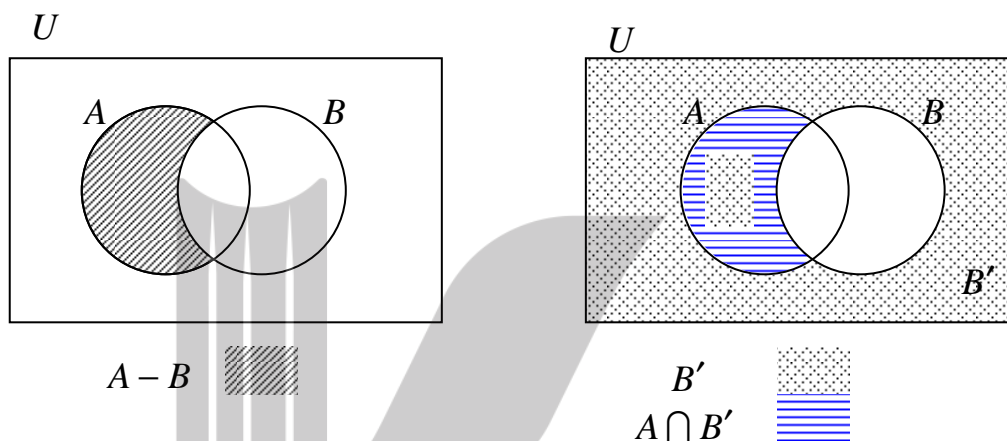


برای بیان درستی تساوی های مجموعه ای می توان از نمودار ون استفاده نمود. برای این کار کافی است، برای هر یک از دو طرف تساوی نمودار جداگانه ای رسم نمود، سپس نشان داد که قسمت هاشور خورده کاملاً یکسان هستند.

**مثال:** برای دو مجموعه  $A$  و  $B$  از مجموعه مرجع  $U$  به کمک نمودار ون تساوی زیر را ثابت کنید.

$$A - B = A \cap B'$$

حل:



$$\Rightarrow A - B = A \cap B'$$

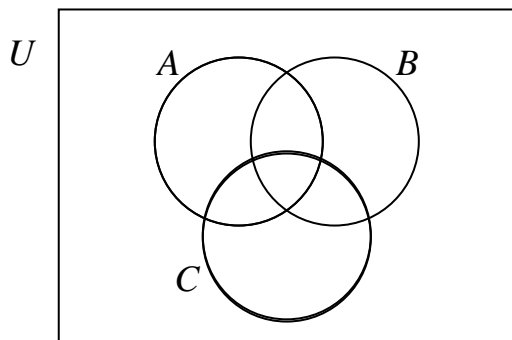
**تمرین برای حل:**

**۴۵:** قوانین دمورگان را با استفاده از نمودار ون ثابت کنید.

**۴۶:** به کمک نمودار ون تساوی زیر را ثابت کنید.

$$A' - B' = B - A$$

**۴۷:** برای سه مجموعه  $A$  و  $B$  و  $C$  در هر مورد با توجه به توصیف داده شده، بخشی را هاشور بزیند.



الف: اعضای که فقط در  $A$  باشند.

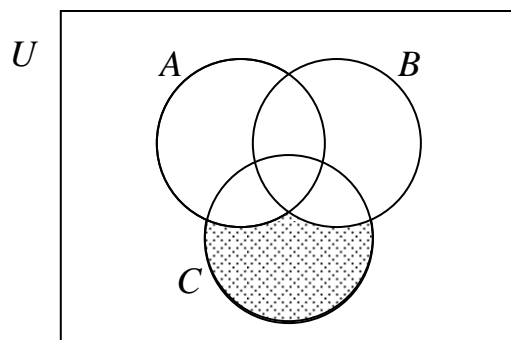
ب: اعضای که فقط در یک مجموعه باشند.

ج: اعضای که در  $A$  یا  $B$  باشند، ولی در  $C$  نباشند.

د: اعضای که در  $A$  یا  $B$  باشند، ولی در  $C$  نباشند.

نمودار هر مورد را با توجه به مجموعه ها جداگانه رسم کنید.

۴۸: متناظر با قسمت هاشور خورده در شکل مقابل مجموعه‌ی مناسب بنویسید.



.....

\*\*\*



## درس سوم: جبر مجموعه ها و ضرب دکارتی

در این درس مفاهیم تکمیلی پیرامون نظریه‌ی مجموعه‌ها، را بیان می‌کنیم، آشنایی با این مفاهیم برای درک مفاهیم اساسی ریاضیات و احتمالات لازم و مفید است.

### جبر مجموعه‌ها

در درس قبل با اعمال روی مجموعه‌ها آشنا شده ایم. مهمترین قوانین برای اعمال روی مجموعه‌ها به شرح زیر هستند. در این قوانین  $U$  مجموعه‌ی مرجع فرض شده است.

### الف: خاصیت جابجایی

$$۱) A \cup B = B \cup A$$

خاصیت جابجایی اجتماع

$$۲) A \cap B = B \cap A$$

خاصیت جابجایی اشتراک

### ب: خاصیت شرکت پذیری

$$۱) A \cup (B \cap C) = (A \cup B) \cap C$$

خاصیت شرکت پذیری اجتماع

$$۲) A \cap (B \cup C) = (A \cap B) \cup C$$

خاصیت شرکت پذیری اشتراک

### پ: خاصیت توزیع پذیری

$$۱) A \cup (B \cap C) = (A \cup B) \cap (A \cup C)$$

خاصیت توزیع پذیری اجتماع نسبت به اشتراک

$$۲) A \cap (B \cup C) = (A \cap B) \cup (A \cap C)$$

خاصیت توزیع پذیری اشتراک نسبت به اجتماع

### ت: قانون جذب (همپوشانی)

اگر  $A$  و  $B$  دو مجموعه باشند، در این صورت احکام زیر همواره برقرار هستند.

$$۱) A \cap (A \cup B) = A$$

$$۲) A \cup (A \cap B) = A$$

### ج: قوانین دمورگان

اگر  $A$  و  $B$  دو مجموعه از مجموعه‌ی مرجع  $U$  باشند، آنگاه

$$۱) (A \cup B)' = A' \cap B'$$

$$۲) (A \cap B)' = A' \cup B'$$

## د: قانون تبدیل

اگر  $A$  و  $B$  دو مجموعه از مجموعه‌ی مرجع  $U$  باشند، آنگاه

$$A - B = A \cap B'$$

استفاده از قوانین مربوط اعمال روی مجموعه‌ها در اثبات تساوی‌های مجموعه‌ای را در اصطلاح جبر مجموعه‌ها می‌نامند. در این درس می‌خواهیم به جبر مجموعه‌ها، بیشتر بپردازیم.

**تمرین ۱:** به کمک قوانین جبر مجموعه‌ها، ثابت کنید که  $A - B' = A \cap B$

**تمرین ۲:** به کمک قوانین جبر مجموعه‌ها تساوی زیر را ثابت کنید.

$$(A - B) \cap B = \Phi$$

اثبات:

$$\begin{aligned}(A - B) \cap B &= (A \cap B') \cap B \\ &= A \cap (B' \cap B) \\ &= A \cap \Phi = \Phi\end{aligned}$$

**تمرین ۳:** هر یک از احکام زیر را به کمک جبر مجموعه‌ها ثابت کنید.

الف)  $A' - B' = B - A$

ب)  $A \cup (A - B) = A$

ج)  $A \cap (B - C) = (A \cap B) - (A \cap C)$

د)  $A \cap (A' \cup B) = A \cap B$

هـ)  $(A - B) \cap C = (A \cap C) - B$

و)  $(A \cup B) - (B \cup C) = (A - B) - C$

ز)  $(A \cup B) \cap (C - A)' = A \cup (B - C)$

اثبات:

(الف)

$$A' - B' = A' \cap (B')' = A' \cap B = B \cap A' = B - A$$

(ب)

$$A \cup (A - B) = A \cup (A \cap B') = A$$

(ج)

$$\begin{aligned} (A \cap B) - (A \cap C) &= (A \cap B) \cap (A \cap C)' \\ &= (A \cap B) \cap (A' \cup C') = [(A \cap B) \cap A'] \cup [(A \cap B) \cap C'] \\ &= [(A \cap A') \cap B] \cup [(A \cap (B \cap C'))] = (\Phi \cap B) \cup [(A \cap (B - C))] \\ &= \Phi \cup [A \cap (B - C)] = A \cap (B - C) \end{aligned}$$

(د)

$$A \cap (A' \cup B) = (A \cap A') \cup (A \cap B) = \Phi \cup (A \cap B) = A \cap B$$

(هـ)

$$\begin{aligned} (A - B) \cap C &= (A \cap B') \cap C = A \cap (B' \cap C) \\ &= A \cap (C \cap B') = (A \cap C) \cap B' = (A \cap C) - B \end{aligned}$$

(و)

$$\begin{aligned} (A \cup B) - (B \cup C) &= (A \cup B) \cap (B \cup C)' = (A \cup B) \cap (B' \cap C') \\ &= (A \cap B' \cap C') \cup (B \cap B' \cap C') = [(A - B) \cap C'] \cup \Phi = (A - B) - C \end{aligned}$$

(ز)

$$\begin{aligned} (A \cup B) \cap (C - A)' &= (A \cup B) \cap (C \cap A')' = (A \cup B) \cap [C' \cup (A')'] = \\ &= (A \cup B) \cap (C' \cup A) = (A \cup B) \cap (A \cup C') = A \cup (B \cap C') = A \cup (B - C) \end{aligned}$$

**تمرین ۴:** به کمک جبر مجموعه ها تساوی زیر را ثابت کنید.

$$A \cap (A - B)' = A \cap B$$

**تمرین ۵:** اگر  $A = \{1, 2, 3, \dots, 10\}$  و  $B = \{5, 6, 7, \dots, 15\}$  و  $U = \{1, 2, 3, \dots, 20\}$  حاصل هر یک از

عبارت های زیر را به دست آورید.

الف)  $(A \cap B') \cup (A \cap B) =$

ب)  $(A - B) \cup ((A \cap B') \cap (B - A) \cup A') =$

## تمرین برای حل :

۶: به کمک جبر مجموعه ها ثابت کنید که  $(A - B)' = B \cup A'$

۷: برای هر سه مجموعه دلخواه اگر  $C$  و  $B$  و  $A$  از مجموعه  $U$  مرجع ثابت کنید.

$$(A \cup B \cup C)' = A' \cap B' \cap C'$$

۸: با استفاده از جبر مجموعه ها ثابت کنید.

$$(A - C) - (B - C) = (A - B) - C$$

۹: با استفاده از قوانین جبر مجموعه ها درستی تساوی زیر را ثابت کنید.

$$(A - B) \cup (A \cap C) = A - (B - C)$$

۱۰: با استفاده از قوانین جبر مجموعه ها ، درستی رابطه‌ی زیر را ثابت کنید:

$$(A - B) \cup (A \cup B)' = B'$$

\*\*\*

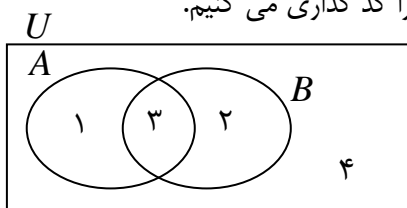
یکی از روش های اثبات تساوی های مربوط به تساوی های بین مجموعه ها، روشی موسوم به کد گذاری نواحی است. اساس این روش همان نمودار ون است، با این تفاوت که به جای هاشور زدن نواحی، آنها را کد گذاری می کند.

در این روش، ابتدا نمودار ون مربوط به مجموعه ها را در حالت کلی رسم می کنیم، سپس نواحی را کد گذاری می کنیم. در ادامه اعمال روی مجموعه ها را روی کد ها انجام می دهیم. در این روش نیازی به حفظ کردن قوانین بین اعمال بین مجموعه ها نیست، لذا روشی مناسب برای پاسخ گویی به سئوالات تستی محسوب می شود.

مثال : ثابت کنید که

$$A \cap (A' \cup B) = A \cap B$$

حل : ابتدا نمودار ون را برای دو مجموعه، رسم می کنیم و نواحی را کد گذاری می کنیم.



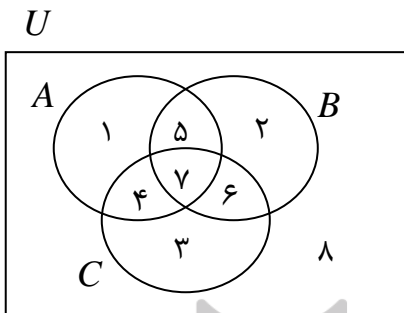
$$A = \{1, 3\} \rightarrow A' = \{2, 4\}$$

$$A' \cup B = \{2, 3, 4\} \rightarrow A \cap (A' \cup B) = \{3\} = A \cap B$$

مثال : ثابت کنید که

$$A \cap (B - C) = (A \cap B) - (A \cap C)$$

حل :



$$B - C = \{2, 5\} \rightarrow A \cap (B - C) = \{5\}$$

$$\left. \begin{array}{l} A \cap B = \{5, 7\} \\ A \cap C = \{4, 7\} \end{array} \right\} \rightarrow (A \cap B) - (A \cap C) = \{5\}$$

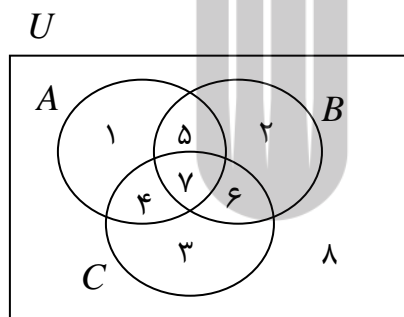
$$\rightarrow A \cap (B - C) = (A \cap B) - (A \cap C)$$

مثال : مجموعه‌ی  $(A - B) \cup ((B \cap C)' \cap (B' \cup A) - B)$ ، با کدام مجموعه برابر است؟

(کنکور ۹۹ ریاضی)

$$B' \ (4) \quad A \ (3) \quad A \cap B' \ (2) \quad A \cup B' \ (1)$$

حل :



$$A - B = \{1, 4\}$$

$$B \cap C = \{7, 6\} \rightarrow (B \cap C)' = \{1, 2, 3, 4, 5, 8\}$$

$$B' = \{1, 3, 4, 8\}$$

$$B' \cup A = \{1, 3, 4, 5, 7, 8\} \rightarrow (B' \cup A) - B = \{1, 3, 4, 8\}$$

$$((B \cap C)' \cap (B' \cup A) - B) = \{1, 3, 4, 8\}$$

$$\rightarrow (A - B) \cup ((B \cap C)' \cap (B' \cup A) - B) = B'$$

\*\*\*

## ضرب دکارتی دو مجموعه

اگر  $A$  و  $B$  دو مجموعه باشند،  $A \times B$  مجموعه‌ی زوج‌های مرتبی است که مؤلفه‌ی اول آنها عضو  $A$  و مؤلفه‌ی دوم آنها عضو  $B$  باشند.

$$A \times B = \{(x, y) \mid x \in A \wedge y \in B\}$$

**تمرین ۱۱:** اگر  $A = \{۱, ۲, ۳\}$  و  $B = \{۲, ۵\}$  باشد، مجموعه‌های زیر را تعیین کرده و نمودار هر یک از آنها را رسم کنید.

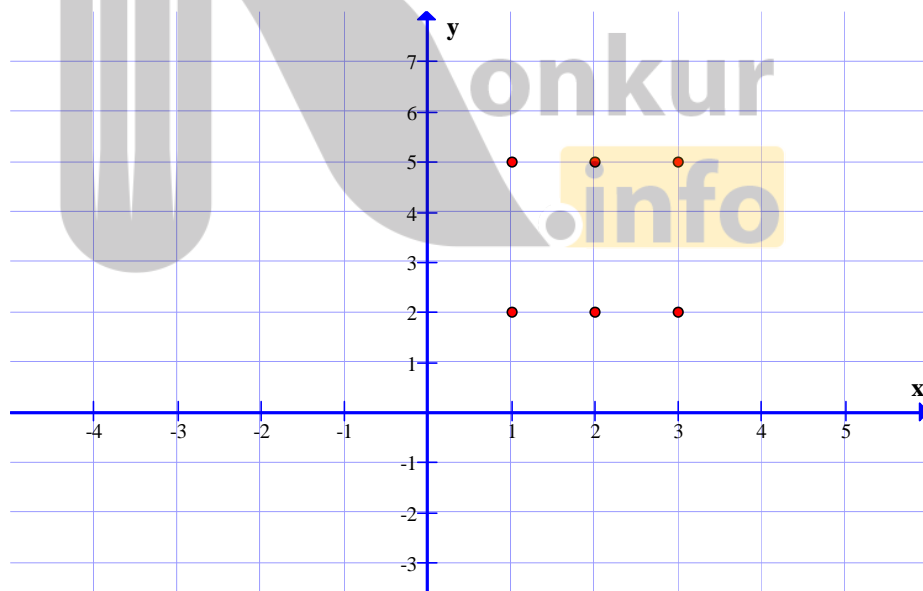
۱)  $A \times B =$                       ۲)  $B \times A =$                       ۳)  $A^2 =$

حل:

(۱)

		B	
		۲	۵
A	۱	(۱, ۲)	(۱, ۵)
	۲	(۲, ۲)	(۲, ۵)
	۳	(۳, ۲)	(۳, ۵)

$$A \times B = \{(۱, ۲), (۲, ۲), (۳, ۲), (۱, ۵), (۲, ۵), (۳, ۵)\}$$



**نتیجه:** اگر  $A$  و  $B$  دو مجموعه باشند، در این صورت:

۱)  $n(A \times B) = n(A) \times n(B)$

۳)  $A \times B \neq B \times A$

۲)  $n(A^2) = n(A) \cdot n(A)$

۴)  $A \times \Phi = \Phi \times A = \Phi$



**تمرین ۱۲:** اگر  $B = \{1, 2, 3, 4\}$  و  $A = \{1, 4, 5\}$  باشد. مجموعه  $A \times B - B^2$  را با عضوهایش بنویسید.

**توجه:** برای هر دو مجموعه  $A$  و  $B$ ، اگر  $A = B$  آنگاه  $A \times B = B \times A$  و برعکس

**تمرین ۱۳:** اگر  $A = \{y - 1, 5, z\}$  و  $B = \{x + 1, 4, 3\}$  در این صورت، با فرض  $A \times B = B \times A$ ، کمترین مقدار برای  $x + y + z$  را بیابید.

**تمرین ۱۴:** اگر  $A = \{y, 8, z\}$  و  $B = \{x, 3\}$  در این صورت، با فرض  $A \times B = B \times A$ ، بیشترین مقدار عبارت  $x + y - z$  را بیابید. (جواب ۱۳)

**تمرین ۱۵:** ثابت کنید که اگر  $A \times B = \Phi$ ، آنگاه حداقل یکی از دو مجموعه  $A$  یا  $B$  تهی است و برعکس

$$A \times B = \Phi \leftrightarrow A = \Phi \vee B = \Phi$$

اثبات:

$$A \times B = \Phi \rightarrow A = \Phi \vee B = \Phi$$

حالت اول

اثبات (به روش برهان خلف) اگر  $A \neq \Phi$  و  $B \neq \Phi$  باشد، آنگاه وجود دارد  $x \in A$  و  $y \in B$  بطوری که  $(x, y) \in A \times B$  و این مخالف فرض است.

$$A = \Phi \vee B = \Phi \rightarrow A \times B = \Phi$$

حالت دوم

اگر  $A = \Phi$  و  $B \neq \Phi$  باشد، آنگاه وجود دارد  $A \times B = \Phi \times B = \Phi$

اگر  $A \neq \Phi$  و  $B = \Phi$  باشد، آنگاه وجود دارد  $A \times B = A \times \Phi = \Phi$

اگر  $A = \Phi$  و  $B = \Phi$  باشد، آنگاه وجود دارد  $A \times B = \Phi \times \Phi = \Phi$

\*\*\*

**تمرین ۱۶:** حکم مقابل را ثابت کنید.

$$\begin{cases} A \times B = A \times C \\ A \neq \Phi \end{cases} \rightarrow B = C$$

اثبات:

$$y \in B \xrightarrow{A \neq \Phi \rightarrow \exists x \in A} (x, y) \in A \times B \xrightarrow{A \times B = A \times C} (x, y) \in A \times C \rightarrow y \in C$$

$$\Rightarrow B \subseteq C$$

$$y \in C \xrightarrow{A \neq \Phi \rightarrow \exists x \in A} (x, y) \in A \times C \xrightarrow{A \times C = A \times B} (x, y) \in A \times B \rightarrow y \in B$$

$$\Rightarrow C \subseteq B$$

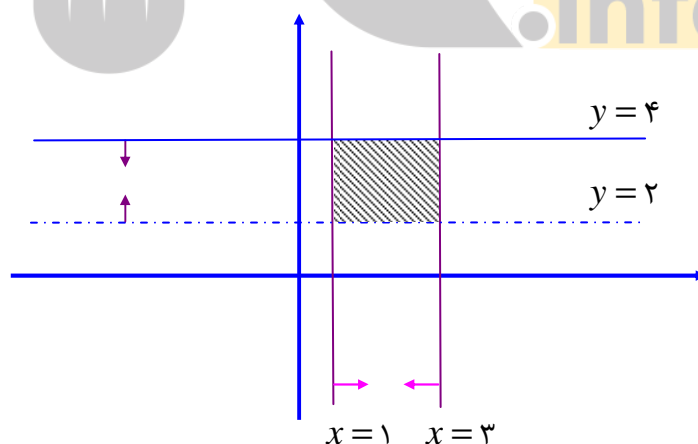
$$\therefore B = C$$

**توجه:** اگر دو مجموعه‌ی  $A$  یا  $B$  زیر مجموعه‌ی اعداد حقیقی باشند. در این صورت تعیین تمام عضوهای  $A \times B$  یا  $B \times A$  ممکن نیست. لذا فقط به نمایش ریاضی و رسم نمودار اکتفا می‌شود. برای رسم نمودار چنین مجموعه‌هایی ابتدا محدوده‌ی تعیین شده روی هر یک از محورهای مختصات، با توجه به مجموعه‌ی  $A \times B$  یا  $B \times A$  تعیین می‌کنیم. سپس ناحیه‌ی مشترک را هاشور می‌زنیم. (در صورتی که نامعادله‌ی متناظر آن شامل مساوی باشد نمودار کامل و اگر شامل مساوی نباشد، نمودار بصورت نقطه چین رسم می‌شود).

**مثال:** اگر  $A = \{x \in \mathbb{R} \mid 1 \leq x \leq 3\}$  و  $B = \{x \in \mathbb{R} \mid 2 < x \leq 4\}$  مجموعه‌ی  $A \times B$  را با نماد ریاضی نوشته و سپس نمودار آن را در صفحه نمایش دهید.

حل:

$$A \times B = \{(x, y) \mid x \in A, y \in B\} = \{(x, y) \mid 1 \leq x \leq 3, 2 < y \leq 4\}$$



**تمرین ۱۷:** در صورتی که  $A = [1, 4]$  و  $B = [0, 2]$  در این صورت، مجموعه‌ی  $A \times B$  را با نماد ریاضی نوشته و سپس نمودار آن را در صفحه‌ی مختصات دکارتی، هاشور بزنید.

**تمرین ۱۸:** حاصل ضرب دکارتی هر یک از مجموعه های زیر را در دستگاه محور های مختصات رسم کنید.

الف)  $A = (-۱, ۲]$  و  $B = [-۳, ۲] \rightarrow (A \times B) = ?$

ب)  $A = (۱, +\infty)$  و  $B = (۱, ۳] \rightarrow (B \times A) = ?$

ج)  $A = [۱, ۲]$  و  $B = (-\infty, ۲] \rightarrow (A \times B) = ?$

**تمرین برای حل :**

**۱۹:** اگر  $A = R$  و  $B = \{۰, ۱, ۲\}$ ، نمودار  $A \times B$  را رسم کنید.

**۲۰:** اگر  $A = \{y, ۵, -z\}$  و  $B = \{x + ۱, ۳, -۲\}$  در این صورت، با فرض  $A \times B = B \times A$ ، بیشترین مقدار برای  $x + y + z$  را بیابید.

**۲۱:** با توجه به مجموعه های داده شده، نمودار هر یک از حاصل ضرب های  $A \times B$  و  $B \times A$  را رسم کنید.

الف)  $A = \{۲, ۳\}$  و  $B = \{۲, ۳, ۴\}$

ب)  $A = \{۳, ۴\}$  و  $B = (۱, ۵]$

پ)  $A = [۲, ۶]$  و  $B = [۳, ۸]$

ت)  $A = R$  و  $B = \{۲, ۳\}$

ث)  $A = N$  و  $B = [۱, ۴]$

**۲۲:** اگر  $A = \{x \mid -۲ \leq x < ۲\}$  و  $B = \{x \mid -۱ \leq x \leq ۱\}$  نمودار  $A^c - B^c$  را رسم کنید.

\*\*\*

بروزترین و برترین  
سایت کنکوری کشور

[WWW.KONKUR.INFO](http://WWW.KONKUR.INFO)

**K**onkur  
**info**

<https://konkur.info>