

بروزترین و برترین  
سایت کنکوری کشور

[WWW.KONKUR.INFO](http://WWW.KONKUR.INFO)

**K**onkur  
**info**

<https://konkur.info>



# دهم انسانی



۱۴ مهر ۱۴۰۲

دفترچه سؤال



فیلم تحلیل آموزشی آزمون امروز  
برای مشاهده در سایت کانون، کد روبه‌رو را با دوربین تلفن همراه  
خود اسکن کنید.

# پدید آورندگان آزمون

## طراحان به ترتیب حروف الفبا

نام طراحان	نام درس
محمد بحیرایی، مهدی تک، عاطفه خان محمدی، نیما خانعلی پور، زهره رامشینی، حمیدرضا صالحی، امیر محمودیان، رحیم مشتاق نظم، احمد مهرایی، سهند ولی زاده	ریاضی (نهم)
سپهر حسن خان پور، آرش عتیق، آگیتا محمدزاده، یاسین مهدیان، کتاب آبی	فارسی (نهم)
درویشعلی ابراهیمی، مریم آقایی، ابوالفضل فلاح، احمدرضا قربانی، شعیب مقدم، کتاب آبی	عربی، زبان قرآن (نهم)

## گزینشگران و ویراستاران

نام درس	گزینشگر	مسئول درس	ویراستار	مستندسازی
ریاضی (نهم)	رضا سیدنجفی	رضا سیدنجفی	مهرداد ملوندی	الهه شهبازی
فارسی (نهم)	یاسین مهدیان	یاسین مهدیان	الهام محمدی، مهشید خدامرادی	الناز معتمدی
عربی، زبان قرآن (نهم)	اسماعیل علی پور	اسماعیل علی پور	درویشعلی ابراهیمی	لیلا ایزدی

## گروه فنی و تولید

مدیر گروه	زهرا دامیار
مسئول دفترچه	فاطمه رئیس زیدی
گروه مستندسازی	مدیر: محیا اصغری، مسئول دفترچه: زهره قموشی
حروف چین و صفحه آرا	زهرا تاجیک
ناظر چاپ	سوران نعیمی

# آزمون ۱۴ مهر ماه ۱۴۰۲

## دهم انسانی

نام درس	معمولاً دانش‌آموزان در هر رده‌ی ترازى به چند سؤال از هر ۱۰ سؤال پاسخ می‌دهند.					این قسمت را قبل از شروع آزمون پر کنید شما به چند سؤال از هر ۱۰ سؤال پاسخ خواهید داد؟
	۴۰۰۰	۴۷۵۰	۵۵۰۰	۶۲۵۰	۷۰۰۰	
ریاضی (نهم)	۱	۲	۳	۴	۶	
فارسی (نهم)	۱	۲	۳	۵	۶	
عربی، زبان قرآن (نهم)	۲	۳	۵	۶	۷	

مدت پاسخ‌گویی: ۷۰ دقیقه

تعداد سؤال: ۶۰

### عنوان مواد امتحانی، تعداد، شماره سؤال‌ها و مدت پاسخ‌گویی

ردیف	مواد امتحانی	وضعیت پاسخ‌گویی	تعداد سؤال	از شماره	تا شماره	مدت پاسخ‌گویی (به دقیقه)
۱	ریاضی (نهم)	اجباری	۲۰	۱	۲۰	۳۰
۲	فارسی (نهم)	اجباری	۲۰	۲۱	۴۰	۲۰
۳	عربی، زبان قرآن (نهم)	اجباری	۲۰	۴۱	۶۰	۲۰

وقت پیشنهادی: ۳۰ دقیقه

ریاضی (نهم)

مباحث کل کتاب

 ۱- اگر  $A = \{\emptyset, \{\{\}, \{\emptyset\}, \emptyset, \emptyset\}$  باشد، مجموعه زیرمجموعه‌های ناتهی مجموعه  $A$  چند عضو دارد؟

۸ (۱)

۱۶ (۲)

۱۵ (۳)

۷ (۴)

 ۲- اگر دو مجموعه  $A = \{-۲, ۴\}$  و  $B = \{y - x, -۲y, x + y\}$  با هم برابر باشند، چند مقدار مختلف برای  $x$  وجود دارد؟

۴ (۱)

۳ (۲)

۲ (۳)

۱ (۴)

 ۳- از بین اعداد اول کوچک‌تر از  $۵۰$ ، عددی را به تصادف انتخاب می‌کنیم. احتمال آن که رقم یکان عدد انتخاب شده، کوچک‌تر از  $۵$  باشد، چقدر است؟

 $\frac{1}{3}$  (۱)

 $\frac{1}{2}$  (۲)

 $\frac{8}{15}$  (۳)

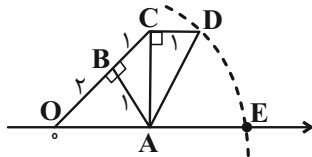
 $\frac{2}{5}$  (۴)

 ۴- در شکل زیر به مرکز  $A$  و به شعاع  $AD$  کمانی زده‌ایم. نقطه  $E$  چه عددی را نشان می‌دهد؟

 $\sqrt{5}$  (۱)

 $\sqrt{3} + \sqrt{2}$  (۲)

 $\sqrt{5} + \sqrt{3}$  (۳)

 $\sqrt{8}$  (۴)

 ۵- حاصل عبارت  $|\sqrt{45} - 7| - 3\sqrt{(3 - \sqrt{5})^2}$  کدام است؟

 $۱۶ - ۶\sqrt{5}$  (۱)

۱۶ (۲)

 $۳\sqrt{5} - ۷$  (۳)

-۲ (۴)

محل انجام محاسبات

۶- در مثلث  $ABC$  نیمساز زاویه  $\hat{A}$ ، ضلع  $BC$  را در نقطه  $D$  قطع می‌کند. کدام عبارت لزوماً درست است؟

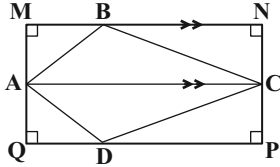
$$DA > DB \quad (۲)$$

$$AB > BD \quad (۱)$$

$$DB > DA \quad (۴)$$

$$AB > AC \quad (۳)$$

۷- در شکل زیر، چهار ضلعی  $MNPQ$  مفروض است. اگر  $BC > AB$  و  $MN \parallel AC$ ، کدام گزینه لزوماً درست نیست؟



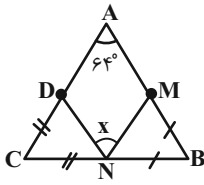
$$BC > BN \quad (۱)$$

$$\hat{MAB} < \hat{BCN} \quad (۲)$$

$$BN > BM \quad (۳)$$

$$MQ > BM \quad (۴)$$

۸- در شکل مقابل  $BN = BM$  و  $CN = CD$  می‌باشد، زاویه  $\hat{x}$  کدام است؟



$$۵۶^\circ \quad (۱)$$

$$۵۸^\circ \quad (۲)$$

$$۶۰^\circ \quad (۳)$$

$$۶۴^\circ \quad (۴)$$

۹- اگر ریشه سوم عدد  $x$  برابر با  $\frac{۳}{۲}$  باشد، جذر معکوس عدد  $x$  کدام است؟

$$\frac{۲\sqrt{۶}}{۳} \quad (۲)$$

$$\frac{\sqrt{۶}}{۳} \quad (۱)$$

$$\frac{۲\sqrt{۶}}{۹} \quad (۴)$$

$$\frac{\sqrt{۶}}{۹} \quad (۳)$$

۱۰- اگر رابطه  $۳^{۲x+۵} \times ۲^{y+۳} = ۲^{۳x+۷} \times ۳^۳$  برقرار باشد،  $x$  و  $y$  کدام است؟ ( $x, y \in \mathbb{Z}$ )

$$y = ۱ \text{ و } x = -۱ \quad (۲)$$

$$y = -۱ \text{ و } x = -۱ \quad (۱)$$

$$y = ۱ \text{ و } x = -۲ \quad (۴)$$

$$y = -۱ \text{ و } x = ۲ \quad (۳)$$

محل انجام محاسبات

۱۱- چند مورد از موارد زیر درست است؟

(ج)  $(-\frac{8}{15})^{\circ} < 1$

(ب)  $(0/3)^{-3} > (0/3)^{-4}$

(الف)  $(0/5)^{-2} > (0/6)^{-2}$

(ه)  $(0/95)^{1^{\circ}} < 1^{\circ}$

(د)  $-5^{-2} = (-5)^{-2}$

۳ (۲)

۲ (۱)

۱ (۴)

۴ (۳)

 ۱۲- اجتماع مجموعه جواب‌های دو نامعادله  $(2x+3)^2 \leq 4x^2 + 12x + 9$  و  $(-3x-2)^2 - x(x+2) < 8x^2 + 10x + 4$  کدام است؟

 $\mathbb{R}$  (۲)

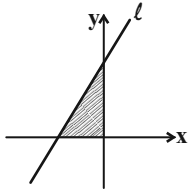
 $\emptyset$  (۱)

 $\mathbb{R} - \{0\}$  (۴)

 $\{0\}$  (۳)

 ۱۳- با توجه به شکل زیر، اگر مساحت محصور بین خط  $l: 3x - 4y = -3m + 9$  و محورهای مختصات، برابر با ۶ واحد مربع باشد، در این صورت  $m$ 

کدام است؟



(۱)  $m = -1$  یا  $m = 7$

(۲)  $m = -7$

(۳)  $m = -1$

(۴)  $m = 7$

 ۱۴- اگر نقاط  $A = \begin{bmatrix} 3 \\ a \end{bmatrix}$ ،  $B = \begin{bmatrix} 5 \\ a+2 \end{bmatrix}$  و  $C = \begin{bmatrix} 7 \\ 8 \end{bmatrix}$  روی خط  $l$  قرار داشته باشند، کدام یک از خط‌های زیر، خط  $l$  را قطع نمی‌کند؟ ( $a \neq 0$ )

(۲)  $\frac{a-1}{3}x - y = -1$

(۱)  $(a+2)y - ax = 2 - a^2$

(۴)  $4y - \left(\frac{a}{2} + 2\right)x = a$

(۳)  $y = \frac{4}{a}x + \frac{2a-2}{a}$

 ۱۵- اگر  $x$  و  $y$  در دستگاه دو معادله دو مجهول  $\begin{cases} 3(x+y) + \frac{5}{2}(y+1) = 1/1 \\ -2(x+y) + 3(y+1) = 0/2 \end{cases}$  صدق کنند، در این صورت  $xy$  کدام است؟

۰/۲ (۲)

-۰/۸ (۱)

۰/۸ (۴)

-۰/۲ (۳)

محل انجام محاسبات

۱۶- عبارت گویای  $\frac{(a+5)}{(a+5)(4a^3 - 20a^2 + 24a)}$  به ازای چه مقادیری از  $a$  تعریف نشده است؟

(۱)  $\{0, 2, 3\}$  (۲)  $\{\pm 5, 0\}$

(۳)  $\{-5, 0, 2, 3\}$  (۴)  $\{0, 2, 3, 5\}$

۱۷- ساده شده عبارت  $\frac{x^2y^2 - 16y^2}{3x^2y - 3xy - 36y} - \frac{xy+y}{x^2-9}$  کدام است؟ (مخرج کسرها مخالف صفر است.)

(۱)  $\frac{x(x-5)}{3(x+3)}$  (۲)  $\frac{x(x-5)}{3(x-3)}$

(۳)  $\frac{y(x-5)}{3(x-3)}$  (۴)  $\frac{y(x+5)}{3(x+3)}$

۱۸- اگر  $A = a^2 - b^2$ ،  $B = a^2 + b^2$  و  $C = 2ab$  باشد، کدام یک از گزینه‌های زیر نادرست است؟ ( $ab \neq 0, |a| \neq |b|$ )

(۱)  $\frac{B^2 - A^2}{C^2} = 1$  (۲)  $\frac{A}{B} - \frac{B}{A} = \frac{C^2}{(a^2 - b^2)(a^2 + b^2)}$

(۳)  $\frac{A+B}{C} = \frac{a}{b}$  (۴)  $\frac{A^2 - B^2}{C} = -2ab$

۱۹- مثلث قائم‌الزاویه‌ای مفروض است. اگر مثلث را حول وترش دوران دهیم، حجم حاصل از دوران برابر با  $\frac{16\pi\sqrt{3}}{9}$  واحد مکعب می‌شود. ابعاد مثلث

کدام یک از گزینه‌ها می‌تواند باشد؟

(۱)  $5, 4, 3$  (۲)  $2\sqrt{2}, \sqrt{6}, \sqrt{2}$

(۳)  $2\sqrt{2}, 5, \sqrt{3}$  (۴)  $2\sqrt{3}, 2\sqrt{2}, 2$

۲۰- کره‌ای به شعاع ۵ واحد بر استوانه‌ای قائم به ارتفاع ۸ واحد، محیط شده است. حجم بین استوانه و کره، چند واحد مکعب است؟ ( $\pi = 3$ )

(۱) ۲۱۶ (۲) ۱۵۲

(۳) ۲۸۴ (۴) ۱۱۶

محل انجام محاسبات





فارسی (نهم)

وقت پیشنهادی: ۲۰ دقیقه

مباحث کل کتاب

۲۱- متن زیر چند نادرستی املایی دارد؟

«آب نیل از میان جنوب و مغرب می‌آید و از این میان به دریای روم می‌رود. آب نیل چون زیادت می‌شود، دو بار چندان می‌شود که «جیحون» به «ترمذ». و چون کشتی به شهر «اسوان» رسد از آن جا برنگردد، چه آب از دره‌ای تنگ بیرون می‌آید و تیز می‌رود. از آن بالاتر سوی جنوب ولایت «نوبه» است و پادشاه آن زمین دیگر است و مردم آن جا سیاه‌پوست باشند و دین ایشان ترسای باشد.»

(۱) یک (۲) دو (۳) سه (۴) چهار

۲۲- کدام وابسته‌های پیشین گروه اسمی را در عبارت زیر می‌توان یافت؟

«پیش از این با تفاوت «زبان» و «ادبیات» آشنا شدیم و دانستیم که هر گاه بخواهیم منظور خود را زیباتر و دلنشین‌تر بیان کنیم، از ادبیات بهره می‌گیریم. به همین دلیل است که ادبیات را زبان هنری یا زبان برتر می‌نامند.»

(۱) شمارشی - تعجبی (۲) مبهم - شمارشی (۳) اشاره - مبهم (۴) تعجبی - اشاره

۲۳- بیشترین و کم‌ترین غلط معنایی، به ترتیب در کدام گروه کلمات وجود دارد؟

(الف) محاورات: گویندگان / عنب: انگور / اقناع: خشنودساختن / متقدم: پیشین / خوض نمودن: در امری اندیشیدن  
(ب) فرزانه: دانشمند / گردون: فلک / مُراد: پیرو / شوریده: پریشان حال / هوا: آرزومند  
(ج) زی: صاحب / پویه کردن: تلاش و جست‌وجو / سفله: دانا / شکیب: صبور / مایه‌ور: ارجمند  
(د) آزادگان: انسان‌های اصیل و نجیب / بعید: نزدیک / احزان: غم‌ها / طعن: صدا / خیره: بی‌پروا

(۱) «ج» - «ب» (۲) «ج» - «الف» (۳) «د» - «ب» (۴) «د» - «الف»

۲۴- کدام گزینه، بیت تخلص نیست؟

(۱) عیب سعدی مکن ای خواجه اگر آدمی‌ای  
(۲) حافظ غم دل با که بگویم که در این دور  
(۳) کشتی‌ای برخشک می‌رانیم در دریای عشق  
(۴) چنین است رسم و ره دهر، پروین  
کادمی نیست که میلش به پری‌رویان نیست  
جز جام نشاید که بود محرم رازم  
وین تن خاکی ز چشم افتاده چون لنگر در آب  
بدین گونه شد گردش آسمانی

۲۵- کدام بیت پرسش انکاری ندارد؟

(۱) دکان چرا رویم که کان و دکان تویی  
(۲) صد هزاران گل شکفت و بانگ مرغی برخواست  
(۳) خوشتر از جان چه بود جان برود باک مدار  
(۴) فتاده‌ای که تو برداشتی ز خاک مذلت  
بازار چون رویم که بازار ما تویی  
عندلیبان را چه پیش آمد هزاران را چه شد  
غم رفتن چه خوری چون به از آن می‌آید  
کجا زمانه تواند که افکند به زمینش



## ۲۶- «ملک» در کدام بیت واژه‌های متفاوت است؟

- (۱) منم که گاه کتابت سواد شعر مرا  
فلک سزد که شود دفتر و ملک وراق
- (۲) ز تعظیم و جلال و منزل و قصر رفیع تو  
ملک دربان فلک چاکر قضا واله قدر حیران
- (۳) جان خاک آن مهی که خداهش است مشتری  
آن کس ملک ندید و نه انسان و نی پری
- (۴) ملک را بود بر عدو دست چیر  
چو لشکر دل آسوده باشند و سیر

## ۲۷- واژه‌های «زهره، طرار، مقرب، مشقت» به ترتیب چه معنایی دارند؟

- (۱) نام سیاره‌ای است، دزد، نزدیک‌شده، مهربانی  
(۲) جرئت، پرنده، نزدیک‌شده، رنج
- (۳) شجاعت، دزد، کسی که قرب و منزلت یافته باشد، رنج  
(۴) بیم، کاهن صومعه، کسی که قرب و منزلت یافته باشد، زحمت

## ۲۸- متن زیر با کدام واژه‌ها کامل می‌شود؟

«باباطاهر همدانی، شاعر ... و هم‌عصر دوره ... است که دوبیتی‌های او ...»

- (۱) قرن‌های چهارم و پنجم، سلجوقیان، عمدتاً در مدح پادشاهان زمان هستند.
- (۲) قرن‌های پنجم و ششم، خوارزمشاهیان، مضامین لطیف عرفانی دارند.
- (۳) قرن‌های چهارم و پنجم، سلجوقیان، مضامین لطیف عرفانی دارند.
- (۴) قرن‌های پنجم و ششم، خوارزمشاهیان، عمدتاً در مدح پادشاهان زمان هستند.

## ۲۹- بیت زیر ...

«تصحیح گوش کن جانا که از جان دوست‌تر دارند جوانان سعادت‌مند، پند پیر دانا را»

- (۱) دو جمله و یک شبه‌جمله دارد.  
(۲) سه جمله و یک شبه‌جمله دارد.
- (۳) سه جمله دارد ولی شبه‌جمله ندارد.  
(۴) دو جمله دارد ولی شبه‌جمله ندارد.

## ۳۰- در بیت کدام گزینه «تشبیه» وجود دارد؟

- (۱) عشقت بنای عقل به کَلّی خراب کرد  
جورت در امید به یک بار برگرفت
- (۲) شوری ز وصف روی تو در خانگه فتاد  
صوفی طریق خانۀ خَمّار برگرفت
- (۳) با هر که مشورت کنم از جور آن صنم  
گویند ببایدت دل از این کار برگرفت
- (۴) دل بر توانم از سر و جان برگرفت و چشم  
نتوانم از مشاهده یار برگرفت



## ۳۱- بیت کدام گزینه، با آرایه‌های ذکرشده در مقابلش، مطابقت کامل ندارد؟

- (۱) ستودن نداند کس او را چو هست  
میان، بندگی را بیایدت بست (جناس، کنایه)
- (۲) دیده‌ای نیست نبیند رخ زیبای تو را  
نیست گوشی که همی‌نشنود آوای تو را (تکرار، مراعات‌نظیر)
- (۳) که تواند که دهد میوه‌ الوان از چوب؟  
یا که داند که برآرد گل صدبرگ از خار؟ (تشبیه، مبالغه)
- (۴) سعديا، راست‌روان گوی سعادت بردند  
راستی کن که به منزل نرسد، کج‌رفتار (تضاد، نغمهٔ حروف)

## ۳۲- بیت کدام گزینه تلمیح ندارد؟

- (۱) چون عمر به سر رسد چه شیرین و چه تلخ  
پیمانۀ چو پر شود چه بغداد و چه بلخ
- (۲) یا رب اندر دل آن خسرو شیرین انداز  
که به رحمت‌گذری بر سر فرهاد کند
- (۳) بر ماجرای خسرو و شیرین قلم کشید  
شوری که در میان من است و میان دوست
- (۴) گر بیستون صبرم هجران ز پا درآورد  
بادا بقای شیرین فرهاد رفته باشد

## ۳۳- در بیت زیر کدام دو آرایهٔ ادبی را می‌توان یافت؟

- «چو ما را به دنیا تو کردی عزیز»  
تضاد، شخصیت‌بخشی (۲) کنایه، تضاد
- «به عقبی همین چشم داریم نیز»  
تشبیه، تلمیح (۳) تلمیح، شخصیت‌بخشی (۴)

## ۳۴- کدام دو آرایه در بیت زیر دیده می‌شود؟

- «خاموش مباش زیر این خرکه»  
تشبیه، جان‌بخشی (۱)
- «بر جان جهان دوباره جان آمد»  
تلمیح، تشبیه (۳) جناس، تکرار (۲) جناس، تضاد (۴)

## ۳۵- دو بیت کدام گزینه با هم قرابت معنایی دارند؟

- (۱) «به بینندگان، آفریننده را / نبینی، مرجان دو بیننده را»  
«نیارم چشم کس پوشید، لیکن چشم خود بندم / اگر بینندگان بینند روی چون نگار من»
- (۲) «این همه نقش عجب بر در و دیوار وجود / هر که فکرت نکند نقش بود بر دیوار»  
«نام لیلی برآید اندر نقش / گر ببینند خاک مجنون را»
- (۳) «نیاید بدو نیز، اندیشه راه / که او برتر از نام و از جایگاه»  
«آن که او خارج از عبارت ماست / ذات او فارغ از اشارت ماست»
- (۴) «سعديا راست‌روان گوی سعادت بردند / راستی کن که به منزل نرسد کج‌رفتار»  
«قامت راست سرو را ماند / سرو باشد چنین روان که تو راست؟»



## ۳۶- دو بیت کدام گزینه با هم قرابت معنایی دارند؟

- (۱) شب نیست کز تو بر سر هر کو نفیر نیست / و اندیشه تو در دل برنا و پیر نیست  
توانا بود هر که دانا بود / ز دانش دل پیر برنا بود
- (۲) باغبان تا گل صد برگ رخ خوب تو دید / در چمن بیش نگوید گل رعنائی هست  
دیده‌ای نیست نبیند رخ زیبای تو را / نیست گوشه‌ای که همی نشنود آوای تو را
- (۳) وقت نعمت شکر حق را دار یاد / تا خدا بر تو کند نعمت زیاد  
نعمت بار خدایا، ز عدد بیرون است / شکر انعام تو هرگز نکند شکرگزار
- (۴) تا غنچه بشکفته این باغ که بوید / هر کس به زبانی، صفت حمد تو گوید  
کوه و دریا و درختان، همه در تسبیح‌اند / نه همه مستمعی، فهم کنند این اسرار

## ۳۷- کدام ابیات با مصراع دوم بیت زیر قرابت معنایی دارد؟

- |  |   |
|--|---|
| <p>«نعمتت بارخدایا ز عدد بیرون است<br/>الف) آن که شد چشم او به منعم باز<br/>ب) از دل و تن چو شکر گردد راست<br/>ج) شکر کن، تا شکر مذاق شوی<br/>د) غایت شکر چیست؟ دانستن<br/>۱) «الف»، «ج»<br/>۲) «ب»، «ج»</p> | <p>شکر انعام تو هرگز نکند شکرگزار<br/>جان او برکشد به حمد آواز<br/>به زبان عذر آن بیاید خواست<br/>نام کفران میر، که عاق شوی<br/>حق یک شکر ناتوانستن<br/>۳) «ب»، «د»<br/>۴) «ج»، «د»</p> |
|--|---|

## ۳۸- کدام بیت با بیت زیر قرابت معنایی دارد؟

- |  |  |
|--|--|
| <p>«اگر قصابم از تن واکره پوست<br/>۱) خویش فربه می‌نماییم از پی قربان عید<br/>۲) هستی خاقانی است غارت عشق ای دریغ<br/>۳) تا قیامت غلام آن عشقم<br/>۴) تا قیامت هر که گوید سر عشق</p> | <p>جدا هرگز نگرده جانم از دوست<br/>کان قصاب عاشقان بس خوب و زیبا می‌کشد<br/>هرچه شبان پرورید روزی قصاب شد<br/>که قیامت ز جان برانگیزد<br/>قطره‌ای باشد، کزین دریا ببرد</p> |
|--|--|

## ۳۹- مفهوم بیت «خلق چو مرغابیان، زاده ز دریای جان / کی کند این جا مقام، مرغ کز آن بحر خاست» با کدام بیت متناسب نیست؟

- |   |   |
|---|---|
| <p>۱) صبحدم چون کله بندد آه دودآسای من<br/>۲) دلا تا کی در این زندان، فریب این و آن بینی<br/>۳) بلبل گلشن قدسم شده از جور فلک<br/>۴) بازخواهم به سوی مسکن عقبی رفتن</p> | <p>چون شفق در خون نشیند چشم خون‌پالای من<br/>یکی زین چاه ظلمانی برون شو تا جهان بینی<br/>بی‌گنه بسته زندان و گرفتار قفس<br/>چه کنم گلخن دنیا پس از اینم بس و بس</p> |
|---|---|

## ۴۰- مفهوم بیت کدام گزینه با مفهوم بیت سایر گزینه‌ها قرابت معنایی کم‌تری دارد؟

- |  |   |
|--|---|
| <p>۱) نصیحت‌گوی را از من بگو ای خواجه دم درکش<br/>۲) به هر طریق که باشد نصیحتش مکنید<br/>۳) من آن نیم که پذیرم نصیحت عقلا<br/>۴) نصیحت گوش کن جانا که از جان دوست‌تر دارند</p> | <p>چوسیل از سر گذشت آن را چه می‌ترسانی از باران؟<br/>که او به قول نصیحت‌کنان بتر می‌گشت<br/>پدر بگوی که من بی‌حساب فرزندم<br/>جوانان سعادت‌مند، پند پیر دانا را</p> |
|--|---|



عربی، زبان قرآن (نهم)

وقت پیشنهادی: ۲۰ دقیقه

مباحث کل کتاب

■ ■ مناسب ترین گزینه را در ترجمه مشخص کنید: (۴۱ - ۴۵)

۴۱- «عندما جَلَسْتُ عَلَى الْمَائِدَةِ مَعَ أُسْرَتِي، بَدَأْتُ بِالتَّكَلُّمِ مَعَ أَخِي الْأَصْفَرِ حَوْلَ وَاجِبَاتِهِ الْمَدْرَسِيَّةِ!»: هنگامی که .....

- (۱) با خانواده‌ام سر سفره نشستیم، با برادر کوچکم در مورد تکالیف درسیمان صحبت کردیم!
- (۲) با خانواده کنار سفره نشستیم، با برادر کوچکترم درباره تکالیف مدرسه‌ام شروع به صحبت کردم!
- (۳) با خانواده‌ام بر سر سفره نشستیم، شروع به سخن گفتن با برادر کوچکترم درباره تکالیف درسی‌اش کردم!
- (۴) بر سر سفره نشستیم همراه خانواده‌ام، شروع به صحبت کردن با برادر کوچکتر راجع به تکالیف درسی‌اش نمودم!

۴۲- «فِي ذَلِكَ الْوَقْتِ قَالَ هُدُودًا أَنَا أَعْرِفُ هَذَا التَّلْعَبِ، هُوَ ظَنُّ أَنَّ الْحَمَامَةَ تُشَجِّعُهُ عَلَى الْخُرُوجِ!»:

- (۱) در آن زمان هدهد گفت: این روباه را که می‌شناسم، او گمان می‌کند که کبوتر تشویق به بیرون آمدن می‌کند!
- (۲) هدهد در آن زمان گفت: این روباه را می‌شناسم، او گمان کرد که کبوتر او را تشویق می‌کند که بیرون بیاید!
- (۳) در آن زمان هدهدی گفت: من این روباه را می‌شناسم، او گمان کرد که کبوتر او را به بیرون آمدن تشویق می‌کند!
- (۴) هدهد در آن زمان گفت: من این روباه را می‌شناسم و کبوتر گمان کرد که او را به بیرون آمدن تشویق می‌کند!

۴۳- «عَدَدٌ مِنَ الصَّيَادِينَ لِأَنْ يَصِيدُوا الْحَيَوَانَاتِ وَ يَبِيعُوهَا لِحَدِيقَةِ الْحَيَوَانَاتِ، حَفَرُوا خُفْرَةً وَ سَتَرُوهَا!»:

- (۱) تعدادی از شکارچیان، برای این که حیوانات را شکار کنند و به باغ‌وحش بفروشند، گودال را کردند و آن‌ها را پنهان کردند!
- (۲) تعدادی شکارچی گودالی را کردند و پوشاندند برای این که حیوانات را شکار کنند و به باغ‌وحش بفروشند!
- (۳) تعدادی از شکارچیان، برای این که حیوانات را شکار کنند و آن‌ها را به باغ‌وحش بفروشند گودالی را کردند و آن را پنهان کردند!
- (۴) تعدادی شکارچی برای اینکه حیوانات را شکار کنند و برای فروش آن‌ها به باغ‌وحش گودال را کردند و آن را پوشاندند!

۴۴- «کسی که کار را دوست دارد بسیار تلاش می‌کند!»:

- (۱) الَّذِينَ يُحِبُّونَ الْعَمَلَ حَاوَلُوا كَثِيرًا!
- (۲) الَّذِينَ يُحِبُّونَ الْأَعْمَالَ يَحَاوِلُونَ كَثِيرًا!
- (۳) الَّذِي يُحِبُّ الْعَمَلَ حَاوَلَ كَثِيرًا!
- (۴) الَّذِي يُحِبُّ الْعَمَلَ يُحَاوِلُ كَثِيرًا!

۴۵- ترجمه کدام گزینه درست است؟

(۱) «و إِذْ قُلْنَا لِلْمَلَائِكَةِ اسْجُدُوا لِآدَمَ فَسَجَدُوا إِلَّا إِبْلِيسَ»: و هنگامی که به فرشتگان گفتند به آدم سجده کنید پس جز ابلیس سجده کردند!

(۲) «الْمَاءُ شَيْءٌ ضَرُورِيٌّ لِلْحَيَاةِ، نَشْرِيئُهُ وَ لَا لَوْنٌ لَهُ»: آب چیزی ضروری برای زندگی است، آن را می‌نوشیم و رنگی ندارد!

(۳) «رَبِّ اغْفِرْ لِي وَ ارْحَمْ وَ أَنْتَ خَيْرُ الرَّاحِمِينَ»: پروردگارا مرا بیامرز و رحم کن که تو بهتر رحم می‌کنی!

(۴) قَالَ اللَّهُ لِمُوسَى وَ هَارُونَ: «إِذْهَبَا إِلَى فِرْعَوْنَ»: خدا به موسی و هارون گفت: «به سوی فرعون بروید!»



۴۶- بر اساس واقعیت کدام گزینه درست است؟

(۱) زجاجة العطرِ كانت هديةً مناسبةً لحفلة ميلادِ الأم!

(۲) الإمتناعُ عن الطَّعامِ و الشَّرَابِ في عيدِ الفطْرِ مِنَ الفرائضِ الدینیَّة!

(۳) الرّاسِبُ هو الَّذي ینجُحُ في امتحاناتِه!

(۴) كثرةُ الصَّلَاةِ و الصَّوْمِ و كثرةُ الحَجِّ أَهَمُّ مِنَ صِدْقِ الحَدِيثِ و أداءِ الأمانة!

۴۷- کدام گزینه با عبارت «من دَفَعَ غَضَبَهُ دَفَعَ اللهُ عَنْهُ عَذَابَهُ!» قرابت معنایی دارد؟

(۱) ایمان ما ز غارت شیطان نگاه دار/ تا از عذاب خشم تو جان در امان شود!

(۲) تو گر خشم بر وی نگیری رواست/ که خود خوی بد دشمنش در قفاست!

(۳) از خطر آتش و عذاب ابد/ دین و خرد کرد در حصار مرا!

(۴) گر فِتد ذره‌ای از خشم تو بر اوج سپهر/ گردد از هیبت تو شیر سپهر اندر تب!

۴۸- در کدام یک از گزینه‌های زیر تمامی کلمات با هم هماهنگ هستند؟

(۱) ذهاب - مواصلة - رُجوع

(۲) شهور - آیام - لیالی

(۳) رجاء - فرح - امام

(۴) مَصیر - عاقبة - ریح

۴۹- کدام کلمات، به ترتیب، برای پر نمودن جاهای خالی عبارت‌های زیر مناسب است؟

(الرَّیْبِعُ، .....، الخریف)، (أرْبَعَةٌ، .....، سِتَّةٌ)، (الخامس، السادس، ....)

(۱) الصیف، سبعة، التاسع

(۲) الشتاء، خمسة، التاسع

(۳) الصیف، خمسة، السابع

(۴) الشتاء، سبعة، السابع

۵۰- در کدام گزینه رابطه بین کلمات درست نیست؟

(۱) دَفَعَ = أَخَذَ

(۲) راسب ≠ ناجح

(۳) جاء = أتى

(۴) نامَ = رَقَدَ



۵۱- عبارت «تکتب واجباتك قبل النوم و لا تكسل فيها!» در صيغه جمع مؤنث به کدام صورت در می آید؟

(۱) تكتبن واجباتك قبل النوم و لا تكسلن فيكن!

(۲) تكتبن واجباتك قبل النوم و لا تكسلن فيها!

(۳) تكتبن واجباتك قبل النوم و لا تكسلي فيك!

(۴) تكتبن واجباتك قبل النوم و لا تكسلن فيها!

۵۲- برای تکمیل عبارت « . . . تصرخ في الليل، فأني أخاف شديداً!»، کدام گزینه نادرست است؟

(۱) سميرة (۲) أنت

(۳) هي (۴) المؤمن

۵۳- در کدام گزینه فعل امر درست به کار برفته است؟

(۱) يا أم سعيد، رجاءً افتح باب البيت لنا!

(۲) يا طالبی العزیز، اکتب واجباتك في الدفتر للغد!

(۳) العبي مع زميلاتك في ساحة المدرسة!

(۴) قلت لزوجة حميد؛ رجاءً اجلبى الخبز و الماء على المائدة!

۵۴- اختلاف ساعت‌های ذکرشده در کدام گزینه، «۴۵ دقیقه» است؟

(۱) التاسعة و النصف - التاسعة و الربع

(۲) السادسة و الربع - السادسة إلا ربعاً

(۳) الرابعة إلا ربعاً - الرابعة و النصف

(۴) الثامنة و النصف - التاسعة تماماً

۵۵- کدام گزینه برای تکمیل عبارت «خَرَجْنَا مِنْ بَيْتِنَا فِي السَّاعَةِ . . . وَوَصَلْنَا إِلَى الْمَدْرَسَةِ فِي السَّاعَةِ . . .!» مناسب است؟

(۱) العاشرة تماماً - التاسعة تماماً

(۲) السابعة و النصف - السابعة و الربع

(۳) الثامنة و الربع - الثامنة إلا ربعاً

(۴) السادسة و النصف - السابعة إلا ربعاً



۵۶- در چند مورد از موارد زیر افعال نهی وجود دارد؟

(الف) لا تَتَّبِعَنَّ النَّفْسَ الْأَمَّارَةَ لَأَنَّهُ تَضُرُّ الْإِنْسَانَ!

(ب) «لا تَجْعَلْنَا مَعَ الْقَوْمِ الظَّالِمِينَ»

(ج) لا أَتَعَبُ مِنَ الْعَمَلِ الْكَثِيرِ الَّذِي يُوصل الْإِنْسَانَ إِلَى أَهْدَافِهِ!

(د) لا تَلْعَبِي بِالْكِبْرِيَّتِ لِأَنَّهُ حَطَرَ جَدًّا!

(۱) یک مورد (۲) دو مورد (۳) سه مورد (۴) همه موارد

۵۷- کدام عدد با بقیه تفاوت دارد؟

(۱) خرج من الصّف تلميذان اثنان قبل دقائق!

(۲) قرأنا عشر صفحات من الدرس اليوم!

(۳) النصّ الثانی من أمير المؤمنين علیّ (ع)!

(۴) هنا ننتظركم اكثر من ثلاث ساعات!

متن زیر را با دقت بخوانید سپس به پرسش‌های درباره آن پاسخ دهید: (۵۸ - ۶۰)

گما أنّ التّماء و الأعراض مصنونة في المجتمع الإسلاميّ فكذلك الأموال فلا يجوز أكل أموال الناس بالباطل قال الله تعالى: «يا أيّها الذين آمنوا لا تأكلوا أموالكم بينكم بالباطل» ولا تجوز السرقة، و من يسرق لا يكون مؤمناً قال الرّسول (ص): «لا يسرق السارق حين يسرق و هو مؤمن و من سرق يعاقب أشدّ عقاب لضمان أموال الناس. ولا يحقّ لأيّ حاكم أن يغتصب اموال الناس ولا أن يصادرهما دون رضاهم.»

۵۸- چرا برای دزدیدن اموال مردم سخت‌ترین کیفر در نظر گرفته شده است؟

(۱) تا کسی در جامعه اسلامی فکر دزدی به سرش نزنند.

(۲) تا ضمانت اموال مردم شود.

(۳) تا افراد دزد از کیفر بترسند و فرار نکنند.

(۴) زیرا کیفر دزدها را سخت می‌ترساند.

۵۹- کدام فعل‌ها از نظر زمانی از یک نوع نیستند؟

(۱) آمنوا - قال - لا تأكلوا (۲) لا يحقّ - يعاقب - لا يكون

(۳) قال - آمنوا - سرق (۴) لا يجوز - يسرق - لا يسرق

۶۰- چند اسم مؤنث در متن به کار رفته است؟

(۱) واحد (۲) اثنان (۳) ثلاثة (۴) أربعة



بروزترین و برترین  
سایت کنکوری کشور

[WWW.KONKUR.INFO](http://WWW.KONKUR.INFO)

**K**onkur  
**info**

<https://konkur.info>